



3

date :



Le chat qui dort à côté de sa maman est gris, comme elle.
Le vase qui est renversé est jaune.
Le crayon qui n'est pas cassé est vert, l'autre est rouge.
Le livre au-dessus de la pile est noir, celui du dessous est bleu.
Les lunettes qui sont entre les pattes du chat sont orange,
celles qui sont entre les pieds du fauteuil sont roses.



4

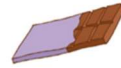
date :

Le crayon qui est sur la table est vert.
Celui qui est en dessous est rouge.
Le chat qui dort sur le fauteuil est gris.
Celui qui dort sous la table est noir.
Celui qui est derrière le fauteuil est roux.
Celui qui est entre le fauteuil et la table est brun.





un



du



un



l'



des



un

son ta ches hi me ris mous ne hip po po lat hé ver lé ta té co cho pho



un champignon



Il est fatigué.



une bague



une araignée



une guêpe



un agneau

gnon gnée ba ti gneau pe a que cham a qué fa pi què rai

L'écureuil et Léo cherchent le résultat de cette addition répétée :

$$3 + 3 + 3 + 3 + 3 + 3 + 3 + 3 + 3 + 3 + 3 = \dots\dots\dots$$

Je cherche combien de fois
il y a 3 dans cette addition... C'est 10 fois 3.

Trois plus trois,
six.
Six plus trois,
neuf.
Neuf plus trois,
douze...
Ça va être long!

On écrit 3×10 ou 10×3
et on pense aux deux façons de remplir une boîte :
il vaut mieux calculer 3 fois 10 que 10 fois 3.

$$3 + 3 + 3 + 3 + 3 + 3 + 3 + 3 + 3 + 3 + 3 = 3 \times 10$$

$$= 30$$

Écris une multiplication qui résume l'addition répétée et calcule-la.

$$2 + 2 + 2 + 2 + 2 + 2 + 2 + 2 + 2 = 2 \times 8$$

$$= 16$$

$$7 + 7 + 7 + 7 + 7 + 7 + 7 + 7 + 7 + 7 + 7 = 7 \times 10$$

$$= 70$$

$$14 + 14 + 14 + 14 + 14 + 14 + 14 + 14 + 14 + 14 = 14 \times 10$$

$$= 140$$

Complète.



Il y a 7 groupes de 2 points.

C'est 7 x 2 = 14 points en tout.



Il y a 7 pièces de 2 euros.

C'est 7 x 2 = 14 euros en tout.

Complète en écrivant une multiplication.

10 groupes de 3 points, c'est 10 x 3 = 30 points en tout.

8 sachets de 2 images, c'est 8 x 2 = 16 images en tout.

10 bouquets de 9 fleurs, c'est 10 x 9 = 90 fleurs en tout.

6 rangées de 2 enfants, c'est 6 x 2 = 12 enfants en tout.

13 pièces de 10 centimes, c'est 13 x 10 = 130 c ou 1€30 en tout.

10 traits de 15 cm mis bout à bout, c'est 15 x 10 = 150 cm ou 1 m 50 en tout.

2


Correction des problèmes p 85

1. On partage équitablement
20 dragées entre 4 enfants.

Combien de dragées
chaque enfant reçoit-il ?

Fais le partage en vrai avec des jetons, des crayons ...

Distribue à chacun 1 à 1 et dessine petit à petit



1^{ère} distribution

2^{ème} distribution

3^{ème} distribution

4^{ème} distribution

5^{ème} distribution

Chaque enfant reçoit 5 dragées.

$$4+4+4+4+4 = 20 \text{ ou } 4 \times 5 = 20$$

2. Mme Charlet a 16 €.

Chez le boucher, un rôti coute 20 €.

Combien d'euros manque-t-il
à Mme Charlet pour acheter ce rôti ?



pour aller jusqu'à 20 il faut

Il manque 4 € .

$$20 - 16 = 4$$

3. Entoure la carte sur laquelle :

- il y a 1 seul trèfle (♣) ;
- il y a 2 carreaux (♦) ;
- il n'y a pas de pique (♠).

