



CARTABLE
FANTASTIQUE

CYCLE 2 - LES NOMBRES

Comparer, ranger et ordonner
jusqu'à 10

Le cahier d'exercices pour la classe



1 Entoure **le plus petit nombre en rouge** et **le plus grand nombre en vert**.

1 2 3 4 5 6 7 8 9 10

2 Colorie **le plus petit** des trois nombres.

- | |
|---|
| 7 |
|---|

3

10

- | |
|---|
| 4 |
|---|

6

1

- | |
|---|
| 9 |
|---|

10

6

3 Colorie **le plus grand** des deux nombres.

- | |
|----|
| 10 |
|----|

5

2

- | |
|---|
| 9 |
|---|

8

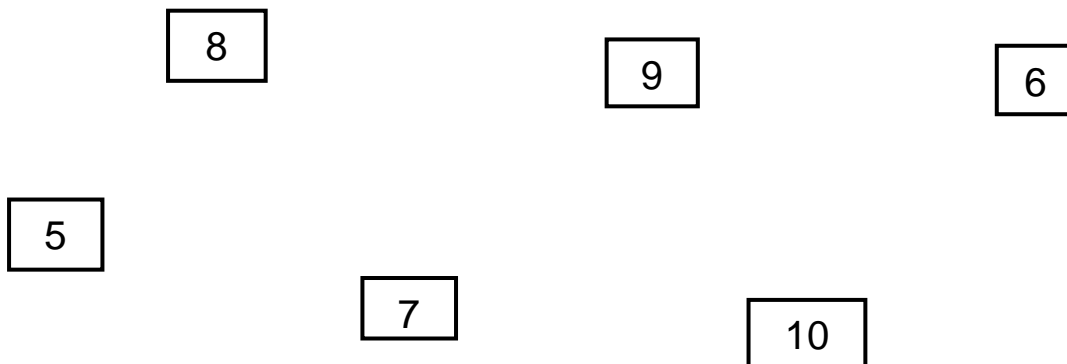
4

- | |
|---|
| 7 |
|---|

9

10

4 Relie les nombres du plus petit au plus grand.





5 Entoure les nombres.

Plus petits que 6 :

7 9 1 10 3 4

Plus grands que 7 :

9 2 5 10 8 3







Plus petits que 4 :

10 8 2 9 3 1

Plus grands que 5 :

4 9 2 1 7 10

6 Entoure en rouge le carton qui a **le plus petit nombre** et en vert le carton qui a **le plus grand nombre**.





7 Range les nombres du plus petit au plus grand.

• 8 2 1 4 10

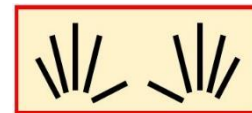

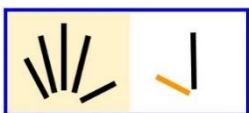
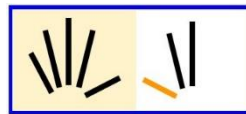
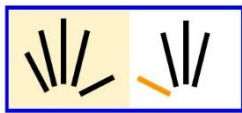
• 7 5 10 9 3

8 Range les nombres du plus grand au plus petit.

• 1 10 4 3 6

• 9 2 8 10 5

9 Relie les cartons du plus grand au plus petit.



10 Écris un nombre.

Plus grand que :

8 :

3 :

9 :

Plus petit que :

2 :

10 :

6 :



11 Entoure le prénom pour répondre à la question.

Qui a le plus de billes ?

Julie a 3 billes. Manon a 5 billes.

Qui a le moins de billes ?

Ali a 10 billes. Nadia a 8 billes.

Qui a le moins de pièces ?

Marie a 6 pièces. Simon a 9 pièces.

Qui a le plus de pièces ?

Julie a 7 pièces. Manon a 10 pièces.