

# Les nombres de 0 à 20 (1)

1 Dictée de nombres.

a  b  c  d  e  f

2 Lis les étiquettes et écris-les à la bonne place.

cinq

un

quatre

six

dix

huit

sept

trois

neuf

deux



1: \_\_\_\_\_

2: \_\_\_\_\_

3: \_\_\_\_\_

4: \_\_\_\_\_

5: \_\_\_\_\_

6: \_\_\_\_\_

7: \_\_\_\_\_

8: \_\_\_\_\_

9: \_\_\_\_\_

10: \_\_\_\_\_

3 Complète. Sur chaque ligne, les nombres doivent se suivre de 1 en 1.

2 3 4

9 10 11

4 5 6


4 Rangé les nombres du plus petit au plus grand.

0 - 5 - 9 - 2 - 6 - 7 - 3



-----





# Les nombres de 0 à 20 (2)

1 Dictée de nombres en lettres.

a  b  c  d  e

2 Relie les étiquettes à leur place sur la droite numérique.

un

cinq

trois

deux

dix



0

5

10

quatre

sept

six

neuf

huit

3 Ecris le résultat de ces opérations en lettres.

huit + un = \_\_\_\_\_

quatre + deux = \_\_\_\_\_

trois + cinq = \_\_\_\_\_


quatre + un = \_\_\_\_\_

six + quatre = \_\_\_\_\_

un + deux = \_\_\_\_\_

deux + sept = \_\_\_\_\_

trois + un = \_\_\_\_\_



# Les nombres de 0 à 20 (3)

1 Dictée de nombres en lettres.

a  b  c  d  e

2 Complète avec <, > ou =.


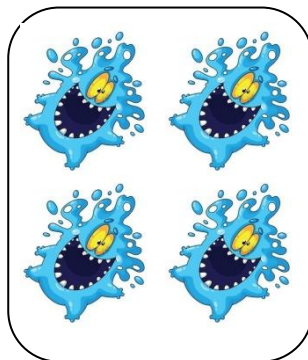


2  8

3 ... 7      9 ... 7      7 ... 6 + 1      4 + 1 ... 7

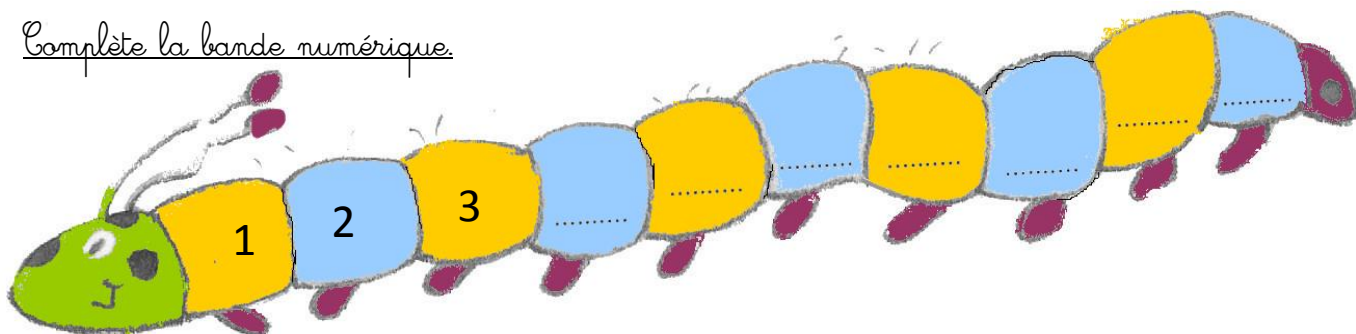
5 ... 6      7 ... 6      5 ... 5      3 + 4 ... 6


2 ... 9      10 ... 9      9 ... 3 + 6      2 + 5 ... 9

3 Ecris le nombre qui convient.



4 Complète la bande numérique.





# Les nombres de 0 à 20 (4)

1 Dictée de nombres en lettres.

a     b     c     d     e

2 Lis les étiquettes et écris-les à la bonne place.

quinze    onze    quatorze    seize    vingt  
 dix-huit    dix-sept    treize    dix-neuf    douze





11 : \_\_\_\_\_    12 : \_\_\_\_\_    13 : \_\_\_\_\_  
 14 : \_\_\_\_\_    15 : \_\_\_\_\_    16 : \_\_\_\_\_  
 17 : \_\_\_\_\_    18 : \_\_\_\_\_    19 : \_\_\_\_\_  
 20 : \_\_\_\_\_


3 Complète. Sur chaque ligne, les nombres doivent se suivre de 2 en 2.

0	2	4									
3	5	7									
				10	12	14					

4 Range les nombres du plus petit au plus grand.

10 - 15 - 9 - 12 - 6 - 17 - 3

 \_\_\_\_\_ 



# Les nombres de 0 à 20 (5)

1 Dictée de nombres.

a  b  c  d  e  f

2 Relie les étiquettes à leur place sur la droite numérique.

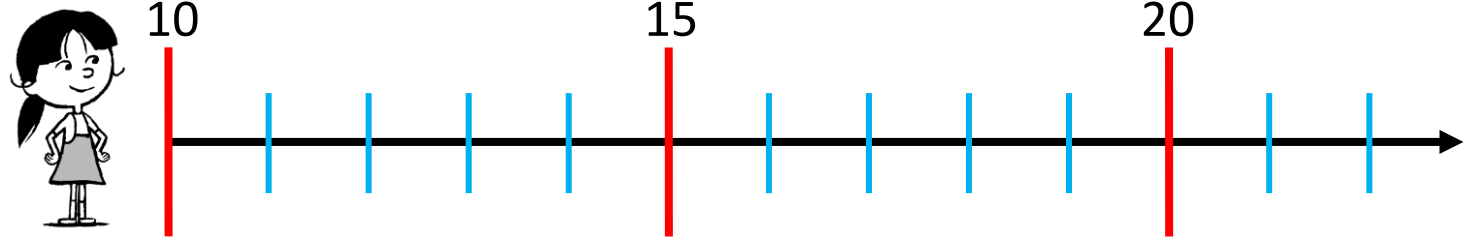
onze

quinze

treize

douze

vingt



quatorze

dix-sept

seize

dix-neuf

dix-huit

3 Ecris le résultat de ces opérations en lettres.

huit + dix = \_\_\_\_\_

neuf + deux = \_\_\_\_\_

trois + onze = \_\_\_\_\_

quatre + treize = \_\_\_\_\_

seize + quatre = \_\_\_\_\_

dix + deux = \_\_\_\_\_

dix + sept = \_\_\_\_\_

trois + seize = \_\_\_\_\_