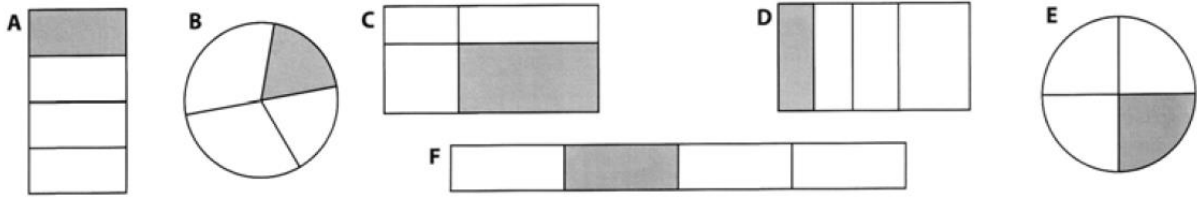



LES FRACTIONS CM1

Prénom : _____ Date : _____

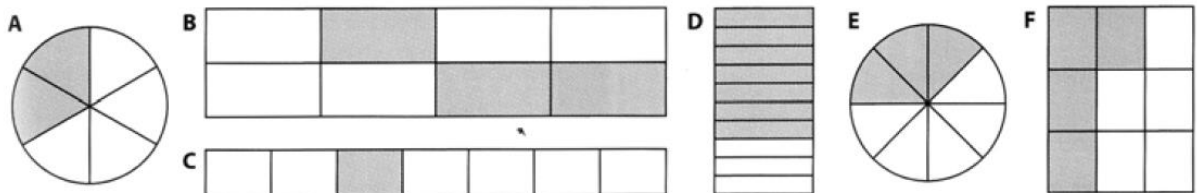
1) Colorie les figures dont on a colorié le quart :



2) Colorie les figures dont on a colorié le tiers :

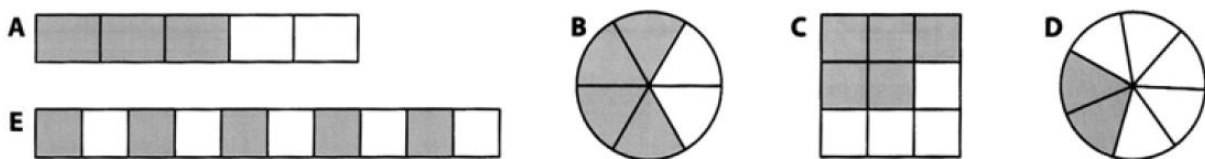


3) Pour chaque figure, écris la fraction correspondant à la partie coloriée :







A =	B =	C =	D =	E =	F =
-----	-----	-----	-----	-----	-----

4) Pour chaque figure, écris la fraction correspondant à la partie non coloriée :



A =	B =	C =	D =	E =
-----	-----	-----	-----	-----

5) Pour chaque figure, écris la fraction correspondant à la partie coloriée :



A = $\frac{2}{3}$	B =	C =	D =
-------------------	-----	-----	-----

6) Écris en chiffres :

un cinquième :

deux septièmes :

quatre huitièmes :

trois tiers :

cinq sixièmes :

un demi :

7) Écris en lettres :

$\frac{1}{4}$:

$\frac{3}{4}$:

$\frac{1}{2}$:

$\frac{5}{8}$: