


Mathématiques CP - Année 2016/2017 - Bilan 2

Date : _____


Ton prénom : _____

1  Ecris les réponses.


● ■ ★ ☾ ♥






2  Colorie le plus petit des deux nombres


3 6 5 7 9 4 2 8

3  Ecris les nombres du plus petit au plus grand


3 9 5 2 →

4  Colorie la fleur qui a le plus de pétales.


5  A la fin de chaque jeu, y a-t-il exactement 10 jetons dans la boîte ?
Entoure la bonne réponse

Jeu 1	<input type="text"/> 3	<input type="text"/> 3	<input type="text"/> 2	<input type="text"/> 3		oui	non	
Jeu 2	<input type="text"/> 1	<input type="text"/> 3	<input type="text"/> 2	<input type="text"/> 1	<input type="text"/> 2	oui	non	
Jeu 3	<input type="text"/> 3	<input type="text"/> 1	<input type="text"/> 1	<input type="text"/> 2	<input type="text"/> 2	<input type="text"/> 1	oui	non

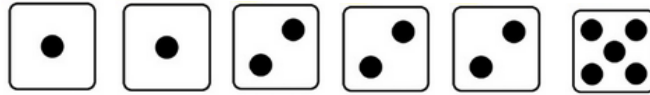
6  Ecris ce que doit choisir le dernier joueur pour obtenir 10.

Jeu 4	<input type="text"/> 3	<input type="text"/> 3	<input type="text"/> 2	<input type="text"/>	
Jeu 5	<input type="text"/> 1	<input type="text"/> 3	<input type="text"/> 2	<input type="text"/> 1	<input type="text"/>

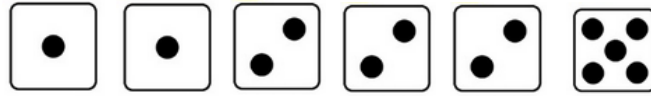


7  **Entoure** les dés pour obtenir 7. Trouve deux solutions différentes.


1^{ère} solution →



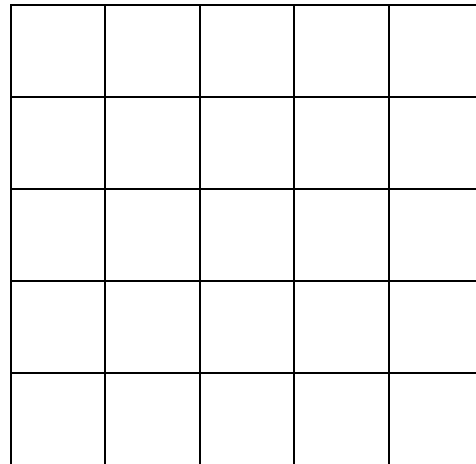
2^{ème} solution →



8  **Colorie** le dessin B comme le dessin A.




A



B



9  Sur le plan de la classe, une boîte est marquée d'une croix.

Cherche où se trouve cette boîte dans la classe, regarde quel animal est caché dedans et **coche** la bonne réponse sur ta feuille.

