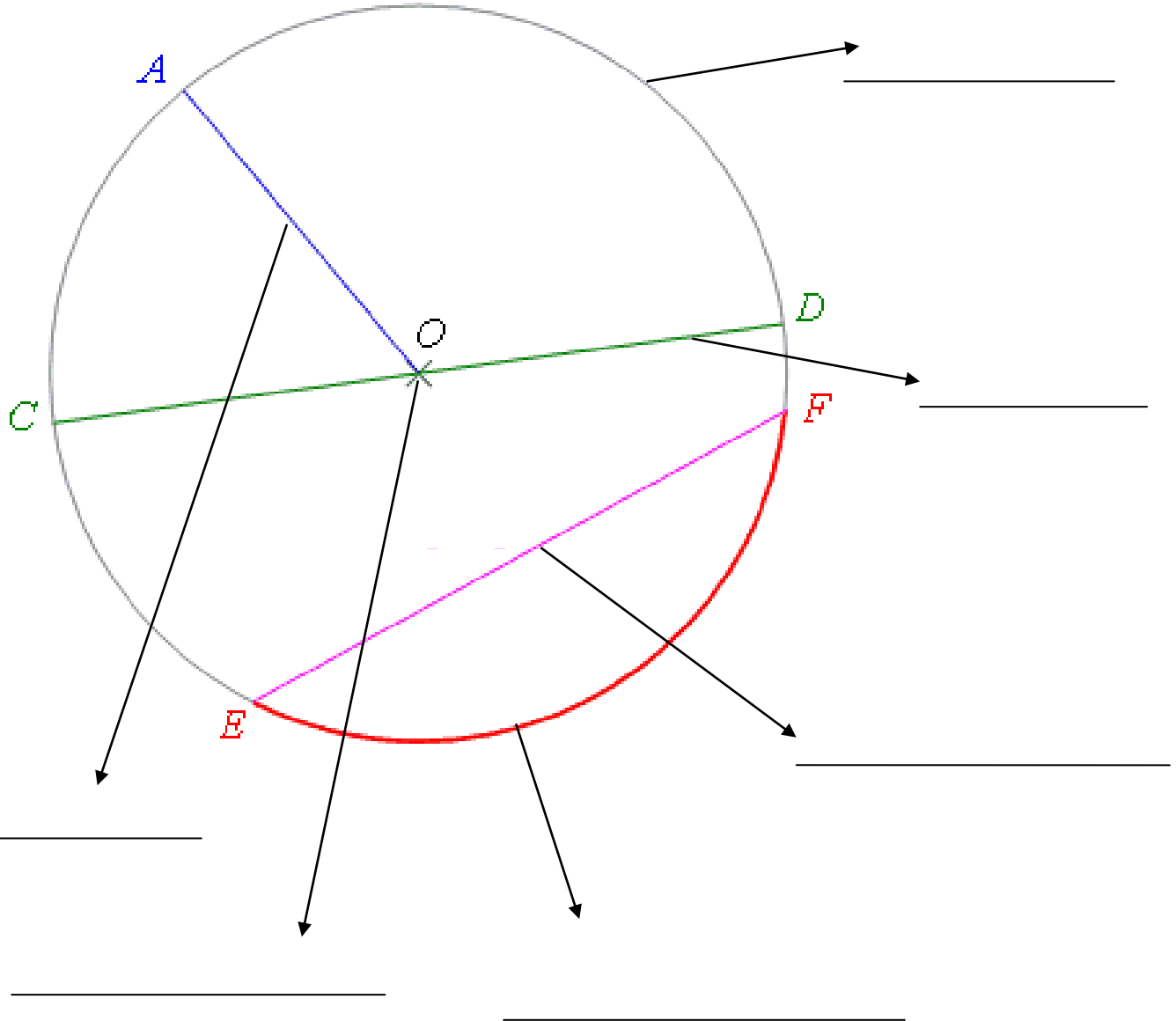
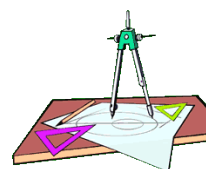




➡ Annote la figure avec le vocabulaire approprié



Colorie le disque avec un crayon de couleur jaune.

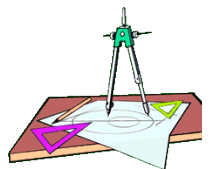




➡ Trace un cercle de 7 cm de diamètre et de centre O.



➡ Trace un cercle de 5 cm de rayon et de centre O.



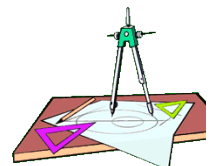
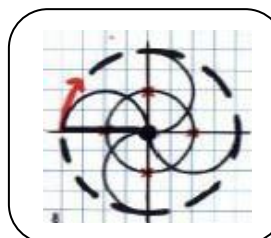
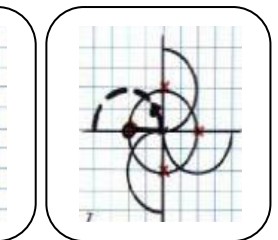
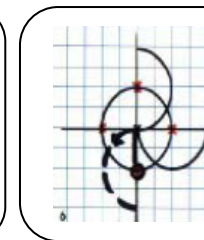
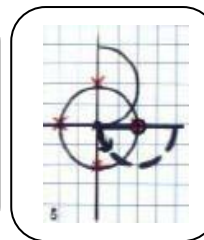
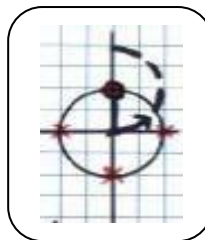
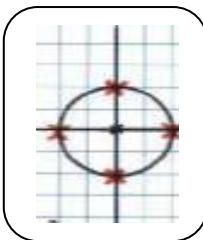



➡ Complète le tableau :

Diamètre	Rayon
18 cm	
40 cm	
10 cm	
	14 cm
	23 cm
	17 cm
48 cm	

➡ Construis la figure suivante :

- Trace deux lignes perpendiculaires. Marque un point là où elles se croisent.
- Pique ton compas sur ce point. Trace un cercle de rayon = 6 cm.
- Ce cercle coupe les deux lignes en 4 points que tu marques en rouge.
- Pique ton compas sur un premier point rouge. Trace un 1er demi-cercle en suivant le dessin.
- Pique ton compas sur un deuxième point rouge. Trace un 2ème demi-cercle.
- Fais un autre demi-cercle sur un 3ème point rouge.
- Fais un dernier demi-cercle sur le dernier point rouge.
- Pour finir, trace un grand cercle.



GEOMETRIE
CM1

Evaluation : Le cercle



Feuille de construction.

