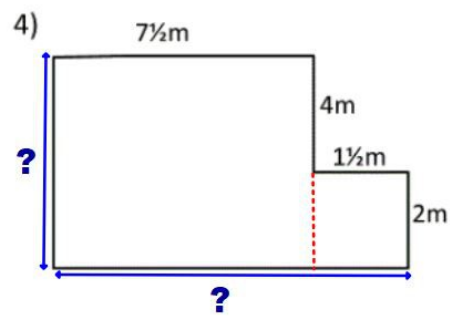
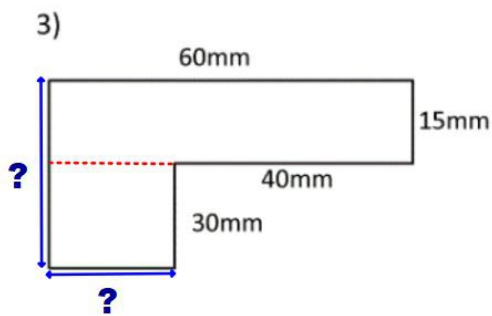
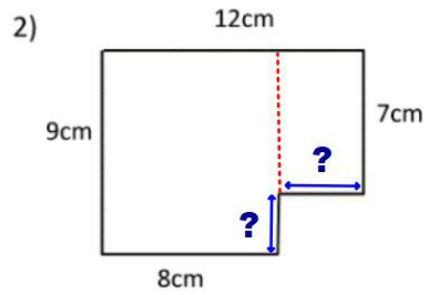
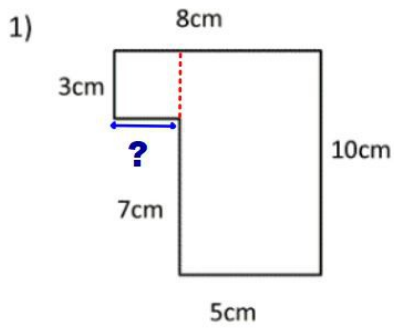


- 1) Trouve les mesures manquantes.
- 2) Calcule le périmètre de chaque figure. (Attention aux unités)
- 3) Calcule l'aire de chaque figure. (Attention aux unités)

**Rappel :**  
 périmètre d'un rectangle = (longueur + largeur) x 2  
 aire d'un rectangle = longueur x largeur



- 1) Trouve les mesures manquantes.
- 2) Calcule le périmètre de chaque figure. (Attention aux unités)
- 3) Calcule l'aire de chaque figure. (Attention aux unités)

**Rappel :**  
 périmètre d'un rectangle = (longueur + largeur) x 2  
 aire d'un rectangle = longueur x largeur

