

Prénom : _____

Date: _____

Évaluation fin de période 1

latroussedatcha.eklablog.com

Nombres et calculs

1 **Complète** les suites numériques:

		31			34						
		20		30	35						
		16		20	22						

2 **Calcule:**

$6 + 4 =$

$10 + 6 =$

$9 - 2 =$

$8 - 3 =$

$8 - 4 =$

$10 + 4 =$

$9 + 5 =$

$6 + 6 =$

$7 + 3 =$

$10 - 7 =$

$7 - 6 =$

$10 - 4 =$

3 **Complète:**

4 groupes de 3 points, c'est points en tout.

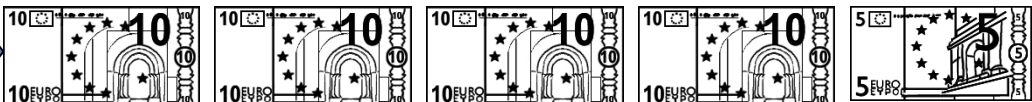

5 fois 3 points, c'est points en tout.



2 carnets de 5 tickets, c'est tickets en tout.



5 billets de 5 euros, c'est euros en tout

Grandeurs et mesures: la monnaie

4 **Colorie** les pièces et les billets pour obtenir la somme.

26€ →  

53€ →  

34€ →  

Prénom : _____

Date: _____

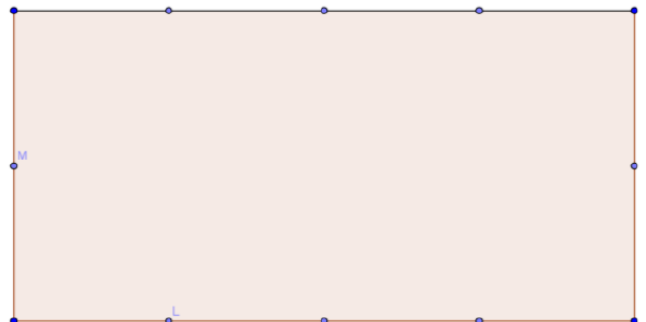
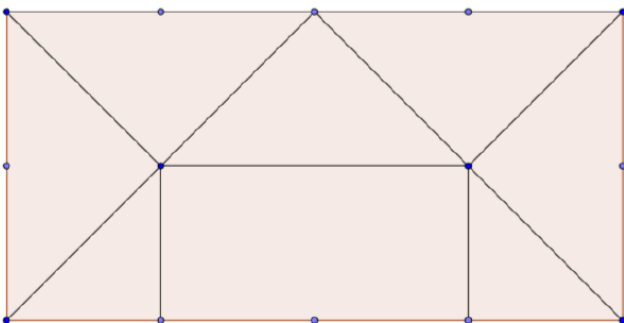

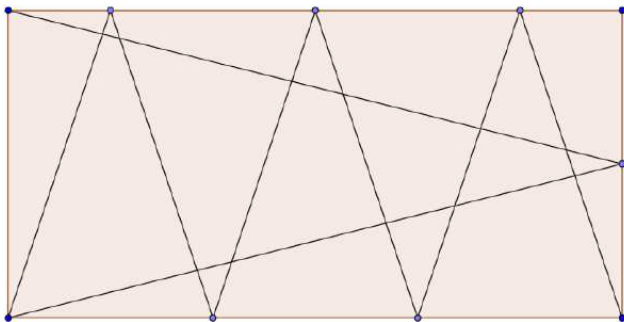
5 Dessine les pièces et les billets:

49€ →

57€ →

Tracés à la règle

6 Reproduis la figure selon le modèle.



Compétences évaluées:

Nombres et calculs	Connaître la suite numérique	EXO 1	
	Calculer en ligne des sommes et des différences	EXO 2	
	Résoudre des problèmes de groupement	EXO 3	
Grandeur et mesure	Utiliser des unités usuelles de mesure: l'euro	EXO 4 Et 5	
Géométrie	Utiliser une règle pour réaliser un tracé.	EXO 6	