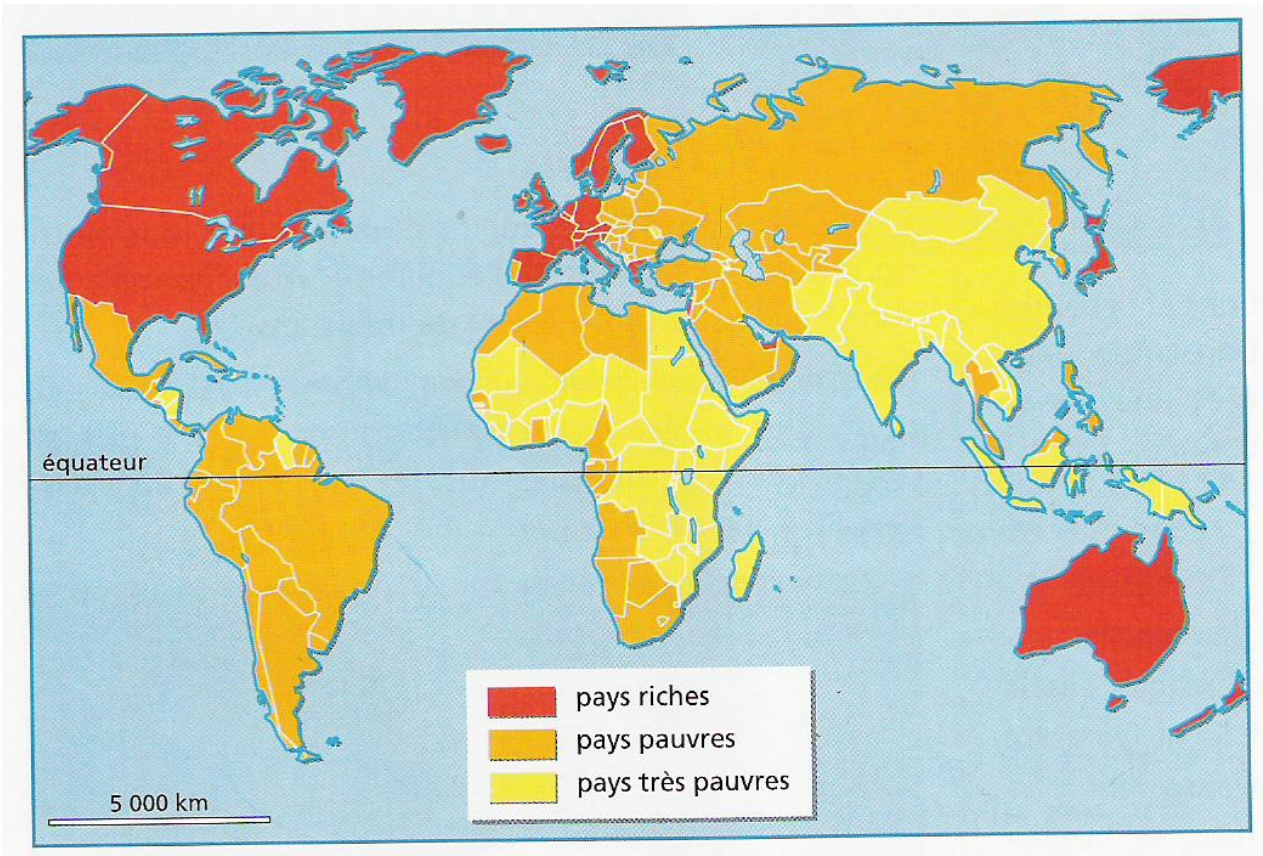


Géo5 : La répartition des richesses dans le monde.

Zones pauvres et zones riches.

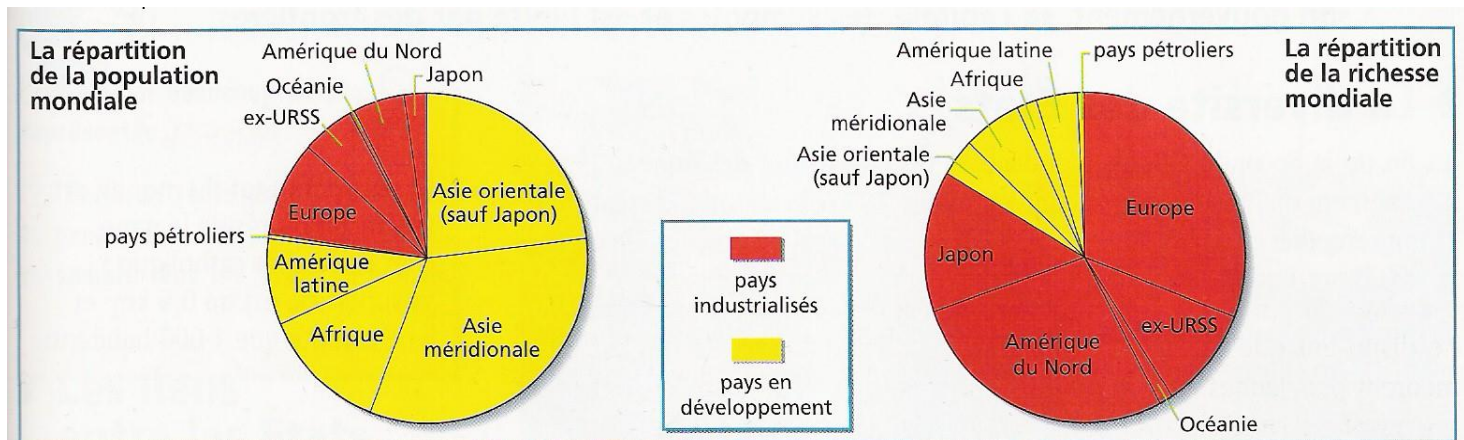
Document 1 : les inégalités de richesses dans le monde



Cite 3 pays riches que tu vois que le planisphère :

Sur quels continents n'y a-t-il pas de pays riches ?

Document 2 : Population mondiale et répartition des richesses.



Que remarques-tu ?

Document 3 : Comparaison du niveau de développement de 2 pays en 2000

	ÉTATS-UNIS	ÉTHIOPIE
ESPÉRANCE DE VIE	77 ans	44 ans
MORTALITÉ INFANTILE	7 enfants sur 1 000	115 enfants sur 1 000
REVENU PAR HABITANT	30 000 dollars par an	500 dollars par an
NOMBRE DE MÉDECINS	260 pour 100 000 habitants	3 pour 100 000 habitants
ANALPHABÈTES	2 adultes sur 100	65 adultes sur 100
NOMBRE DE TÉLÉVISEURS	820 pour 1 000 habitants	4 pour 1 000 habitants
ADRESSES INTERNET	117 000 pour 100 000 habitants	1 pour 100 000 habitants

Compare l'espérance de vie des deux pays. Que peux-tu dire ?

.....

Compare les revenus par habitant des 2 pays. Que peux-tu dire ?

.....

Par combien faut-il multiplier le revenu du pays B pour obtenir celui de A ?


.....

Conclusion :

Le pays A est un pays

Le pays B est un pays

Document 4 : Un bidonville à Rio de Janeiro



Que vois-tu au premier plan ?

.....

Que vois-tu au deuxième plan ?

.....

Quelles conclusions en déduis-tu ?

.....

.....

.....