

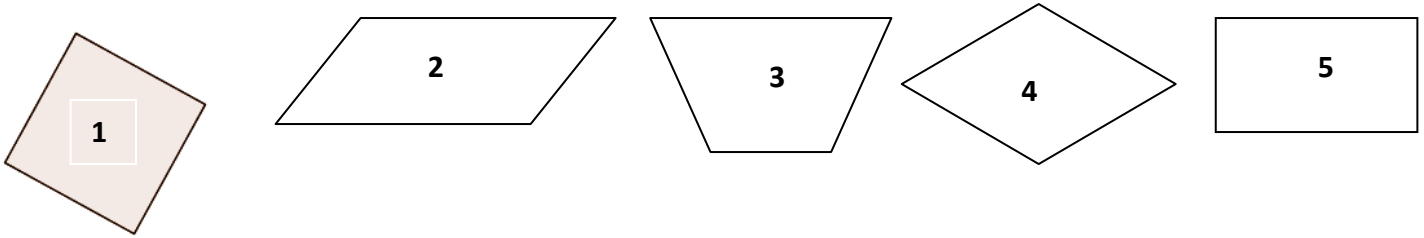


Géométrie : Reconnaître, décrire et nommer les quadrilatères.

CM2

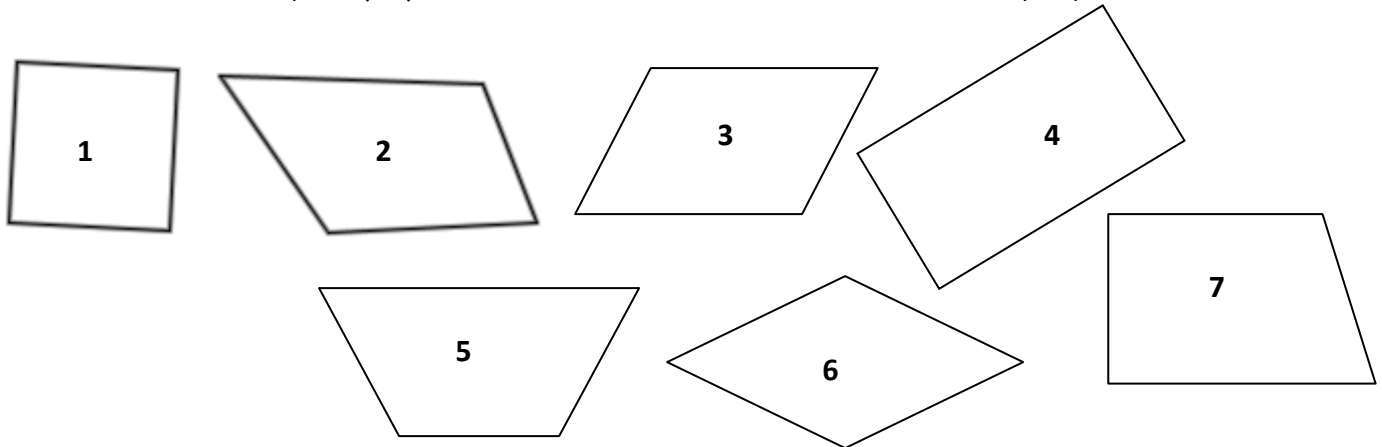
Fiche d'exercices n° 1

Exercice 1 : Observe les quadrilatères et complète le tableau.



figures	Seulement 2 côtés parallèles	2 côtés parallèles 2 à 2	4 angles droits	4 côtés égaux	Nom du quadrilatère
1					
2					
3					
4					
5					

Exercice 2 : Observe ces quadrilatères et trace leurs diagonales. Ensuite, complète le tableau en plaçant une croix (dans la case) lorsque la proposition est vraie. Pour finir, donne le nom de chaque quadrilatère.



Particularités	1	2	3	4	5	6	7
Diagonales de même longueur							
Diagonales perpendiculaires							
Diagonales qui se coupent en leur milieu							
Quatre angles droits							
Seulement deux côtés parallèles							
Côtés parallèles deux à deux							
Seulement deux côtés de même longueur							
Côtés de même longueur deux à deux							
Quatre côtés de même longueur							

1. _____ 2. _____ 3. _____
 4. _____ 5. _____ 6. _____
 7. _____



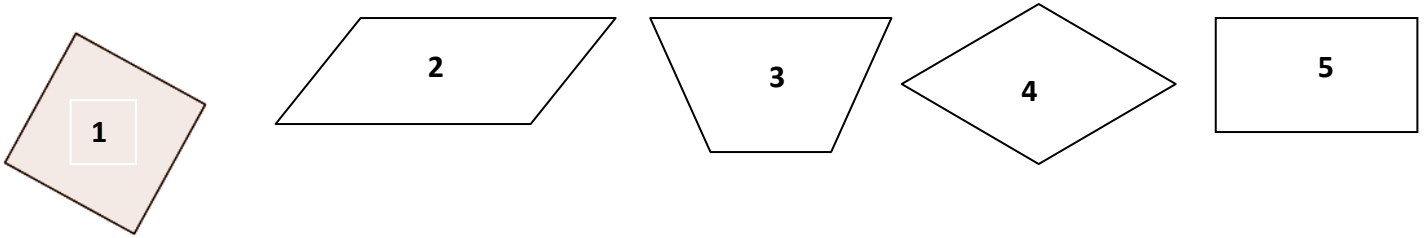
Géométrie : Reconnaître, décrire et nommer les quadrilatères.

CM2

Fiche d'exercices n° 1

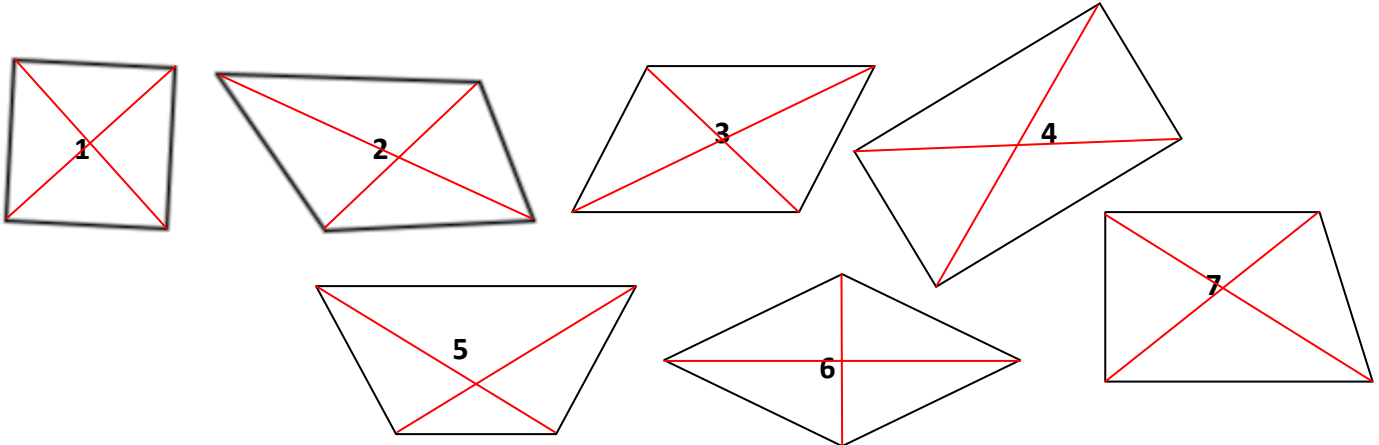


Exercice 1 : Observe les quadrilatères et complète le tableau.



figures	Seulement 2 côtés parallèles	2 côtés parallèles 2 à 2	4 angles droits	4 côtés égaux	Nom du quadrilatère
1		x	x	x	carré
2		x			parallélogramme
3	x				trapèze
4		x		x	losange
5		x	x		rectangle

Exercice 2 : Observe ces quadrilatères et trace leurs diagonales. Ensuite, complète le tableau en plaçant une croix (dans la case) lorsque la proposition est vraie. Pour finir, donne le nom de chaque quadrilatère.



Particularités	1	2	3	4	5	6	7
Diagonales de même longueur	x			x	x		
Diagonales perpendiculaires	x					x	
Diagonales qui se coupent en leur milieu	x		x	x		x	
Quatre angles droits	x			x			
Seulement deux côtés parallèles					x		x
Côtés parallèles deux à deux	x		x	x		x	
Seulement deux côtés de même longueur					x		
Côtés de même longueur deux à deux			x	x			
Quatre côtés de même longueur	x					x	

1. carré 2. Quadrilatère quelconque 3. parallélogramme
 4. rectangle 5. trapèze 6. losange
 7. trapèze rectangle