



LES 10 DÉFIS DE FIN D'ANNÉE

Tu as 30 min pour réaliser ces 10 défis. Es-tu prêt à relever ce défi ? C'est parti !

Défi n°1 :


Entoure les verbes conjugués de ce texte :

Alice commençait à se sentir très lasse de rester assise à côté de sa sœur, sur le talus, et de n'avoir rien à faire : une fois ou deux, elle avait jeté un coup d'œil sur le livre que lisait sa sœur ; mais il ne contenait ni images ni dialogues : « Et, pensait Alice, à quoi peut bien servir un livre où il n'y a ni images ni dialogues ? » La petite allait étendre ses pieds, lorsque sa sœur ferma son livre brusquement.


Défi n°2 :

Pose et résous ces opérations :


$$685 \times 974$$



$$1369,75 + 835,6$$



$$758,8 - 389,63$$



Défi n°3 :

Ecris les résultats de ces multiplications :

$$5 \times 6 = \dots\dots\dots$$

$$8 \times 8 = \dots\dots\dots$$

$$9 \times 7 = \dots\dots\dots$$

$$6 \times 8 = \dots\dots\dots$$

$$7 \times 7 = \dots\dots\dots$$

$$6 \times 9 = \dots\dots\dots$$

$$7 \times 4 = \dots\dots\dots$$

$$5 \times 5 = \dots\dots\dots$$

$$8 \times 9 = \dots\dots\dots$$

Défi n°4 :

Résous cette énigme et replace le cadeau de chaque enfant :

Reena, Sarah, Arnaud, David sont invités à la kermesse de l'école. Ils jouent à un jeu et ils gagnent chacun un cadeau : David un coffret de perles, Reena une petite voiture, Sarah un robot, Arnaud un livre. Mais ils ne sont pas contents de leur cadeau. Ils veulent échanger.

On sait que :

- Reena n'aime pas les jouets de garçon.
- David fait la collection de voiture.
- Sarah déteste faire des colliers et n'aime pas non plus les jouets de garçon.

Retrouve ce que choisira chaque enfant.

Reena

David

Sarah

Arnaud

Défi n°5 :

Trouve ces deux nombres mystères :



Mon chiffre des centaines est le plus grand chiffre. Mon chiffre des unités est la moitié de mon chiffre des dizaines. La somme des trois chiffres est égale à 21.

Je suis



Mon chiffre des dizaines est le double de mon chiffre des centaines. Mon chiffre des unités est le chiffre des dizaines auquel on ajoute le chiffre des centaines. La somme des 3 chiffres est égale à 12.

Je suis

Défi n°6 :

P	V	L	E	C	T	U	R	E	R
A	P	L	O	N	G	E	R	G	E
R	Y	A	M	I	O	H	V	G	P
T	F	F	B	X	C	N	A	U	O
I	N	A	G	E	R	O	G	G	S
R	K	T	M	M	V	U	U	B	T
Q	G	M	T	E	M	R	E	O	F
I	G	L	A	C	E	S	Z	U	J
G	H	U	J	P	M	I	X	É	H
I	A	M	E	R	K	N	R	E	T

Retrouve les 10 mots sur le thème des vacances, entoure-les et écris-les :

-
-
-
-
-
-
-
-
-
-

Défi n°7 :

Trouve 9 noms communs commençant par la lettre V :

- 1).....
- 2).....
- 3).....
- 4).....
- 5).....
- 6).....
- 7).....
- 8).....
- 9).....

Défi n°8 :

Résous cette énigme :

Combien ai-je d'animaux domestiques, sachant que tous, sauf deux sont des chiens, tous sauf deux sont des chats, et tous sauf deux sont des perroquets ? (j'en ai plus de deux)

.....

Défi n°9 :

Retrouve le code secret :



Aucun chiffre correct



Un seul chiffre correct mais mal placé



Un seul chiffre correct et bien placé



Un seul chiffre correct et bien placé




Un seul chiffre correct mais mal placé



Défi n°10 :

Trouve la phrase cachée dans ce rébus :



Tu as réussi entre 0 et 3 défis : Tu es capable de faire mieux !



Tu as réussi entre 4 et 6 défis : C'est bien !



Tu as réussi entre 7 et 9 défis : C'est super !



Tu as réussi les 10 défis : Bravo tu es un(e) champion(ne) !

