

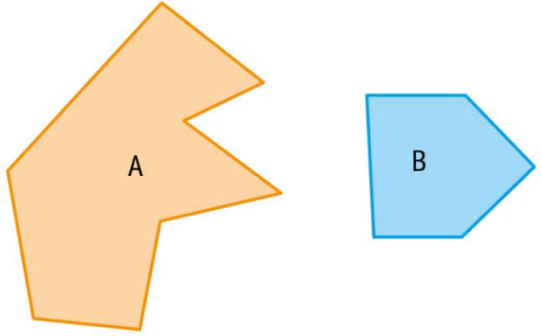
Utiliser le vocabulaire géométrique : côté, sommet, angle, milieu

CE2

1 * Vrai ou faux ?

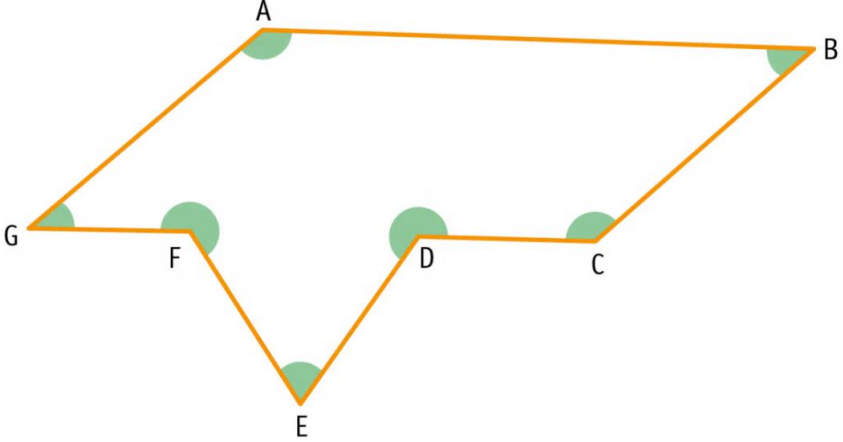
- a. Les sommets sont les points où deux côtés se rejoignent.
- b. Les sommets sont toujours situés vers le haut.
- c. Une figure a toujours 3 ou 4 côtés.
- d. Une figure a autant de côtés que de sommets.

2 * Complète.



A : sommets, côtés
 B : sommets, côtés

3 * Décalque l'angle bleu. Entoure sur la figure les angles qui sont égaux à cet angle.



4 * Mesure ces segments et entoure le point rouge s'il est situé au milieu.



CE2

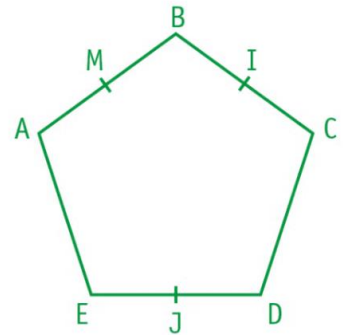
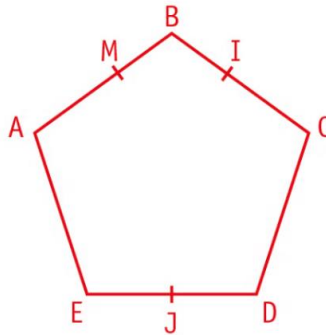
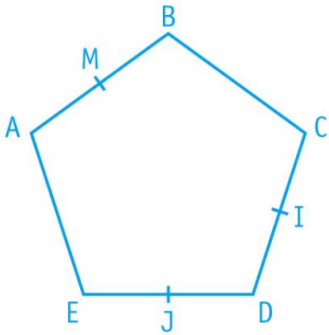
5 ** Trace les segments [QR], [ST] et [UV], puis place leur milieu.

QR = 2 cm

ST = 6 cm

UV = 4 cm

6 ** J'ai 5 côtés et 5 sommets. M est le milieu du segment [AB]. I est le milieu du segment [BC]. J est le milieu du segment [DE]. Entoure la bonne figure.



7 *** Place un point M. Trace un segment [YZ] de 6 cm dont M est le milieu.