


Nombres et quantités : dizaines, unités



1 Combien de cerises Fatou a-t-elle cueillies ? .....




2 Complète le tableau.

42	$40 + 2$	4 dizaines et 2 unités	quarante-deux
38	.....	..... dizaines et ..... unités	.....
.....	$50 + 1$	..... dizaines et ..... unité	.....
.....	.....	7 dizaines et 6 unités	.....
.....	.....	..... dizaines et ..... unités	quatre-vingt-neuf

3 Complète les phrases.

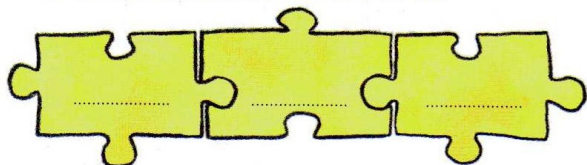
• Dans le nombre **47**, le chiffre des **unités** est

• Dans **74**, le chiffre des **dizaines** est .



4 Écris trois nombres différents dans lesquels :

• le chiffre des **unités** est 5.



• le chiffre des **dizaines** est 9.

