

MATHS

CE1

NUMIA



Exercice 1 : Ecris en chiffres

- | | |
|-----------------------|--------------------|
| ★ a) trente-huit | ★ b) soixante-six |
| ★★ c) cinquante-deux | ★★ d) dix-neuf |
| ★★★ e) quarante-et-un | ★★★ f) vingt-trois |

Exercice 2 : Ecris en lettre

- | | |
|-----------|-----------|
| ★ a) 45 | ★ b) 13 |
| ★★ c) 23 | ★★ d) 38 |
| ★★★ e) 62 | ★★★ f) 57 |

MATHS

CE1

NUMIB



Exercice 1 : Ecris en chiffres

- | | |
|------------------------|-------------------|
| ★ a) treize | ★ b) quarante-six |
| ★★ c) trente-et-un | ★★ d) quinze |
| ★★★ e) quarante-quatre | ★★★ f) vingt-deux |

Exercice 2 : Ecris en lettre

- | | |
|-----------|-----------|
| ★ a) 68 | ★ b) 26 |
| ★★ c) 42 | ★★ d) 48 |
| ★★★ e) 10 | ★★★ f) 55 |

MATHS

CE1

NUMIC



Exercice 1 : Ecris en chiffres

- | | |
|-----------------------|----------------------|
| ★ a) quarante | ★ b) soixante-quatre |
| ★★ c) vingt-sept | ★★ d) trente-trois |
| ★★★ e) soixante-et-un | ★★★ f) douze |

Exercice 2 : Ecris en lettre

- | | |
|-----------|-----------|
| ★ a) 66 | ★ b) 35 |
| ★★ c) 41 | ★★ d) 37 |
| ★★★ e) 11 | ★★★ f) 52 |

MATHS

CE1

NUM1D



Exercice 1 : Écris en chiffres

- | | |
|----------------------|------------------|
| ★ a) vingt-quatre | ★ b) dix-sept |
| ★★ c) soixante-deux | ★★ d) vingt |
| ★★★ e) trente-quatre | ★★★ f) cinquante |

Exercice 2 : Écris en lettre

- | | |
|-----------|-----------|
| ★ a) 53 | ★ b) 45 |
| ★★ c) 21 | ★★ d) 19 |
| ★★★ e) 59 | ★★★ f) 30 |

MATHS

CE1

NUMIE



Exercice 1 : Écris en chiffres

- | | |
|------------------------|-----------------|
| ★ a) soixante-cinq | ★ b) trente-six |
| ★★ c) vingt-trois | ★★ d) quatorze |
| ★★★ e) cinquante-et-un | ★★★ f) soixante |

Exercice 2 : Écris en lettre

- | | |
|-----------|-----------|
| ★ a) 56 | ★ b) 67 |
| ★★ c) 16 | ★★ d) 43 |
| ★★★ e) 47 | ★★★ f) 28 |

MATHS

CE1

NUMIF



Exercice 1 : Écris en chiffres

- | | |
|-----------------------|-----------------------|
| ★ a) vingt-neuf | ★ b) trente-huit |
| ★★ c) dix | ★★ d) seize |
| ★★★ e) cinquante-cinq | ★★★ f) quarante-trois |

Exercice 2 : Écris en lettre

- | | |
|-----------|-----------|
| ★ a) 58 | ★ b) 69 |
| ★★ c) 25 | ★★ d) 15 |
| ★★★ e) 13 | ★★★ f) 63 |

MATHS

CE1

NUMIG



Exercice 1 : Écris en chiffres

★ a) trente-deux

★ b) onze

★★ c) vingt-et-un

★★ d) quarante-cinq

★★★ e) cinquante-deux

★★★ f) trente

Exercice 2 : Écris en lettre

★ a) 39

★ b) 20

★★ c) 17

★★ d) 14

★★★ e) 33

★★★ f) 51

MATHS

CE1

NUMIH



Exercice 1 : Écris en chiffres

★ a) soixante-six

★ b) trente-sept

★★ c) quarante-sept

★★ d) vingt-cinq

★★★ e) cinquante-huit

★★★ f) dix-huit

Exercice 2 : Écris en lettre

★ a) 49

★ b) 64

★★ c) 22

★★ d) 18

★★★ e) 40

★★★ f) 24

MATHS

CE1

NUMII



Exercice 1 : Écris en chiffres

★ a) cinquante-quatre

★ b) soixante-trois

★★ c) cinquante-sept

★★ d) trente-cinq

★★★ e) cinquante-neuf

★★★ f) vingt-six

Exercice 2 : Écris en lettre

★ a) 65

★ b) 32

★★ c) 61

★★ d) 46

★★★ e) 23

★★★ f) 31

Exercice 1 : Range dans l'ordre croissant

★ a) ④⑤ - ①② - ②③ - ③②

★★ b) 61 - 2 - 15 - 44 - 39 - 56

★★★ c) 52 - 46 - 64 - 24 - 62 - 33 - 21 - 42



Exercice 2 : Complète la suite

★ a) 8 - 9 - - - - - 14 - - 16 -

★★ b) 12 - - - 16 - - - - 20 - - -

★★★ c) 23 - - - - 27 - - - - 31 - - -



Exercice 1 : Range dans l'ordre croissant

★ a) ④⑤ - ①② - ②③ - ③②

★★ b) 61 - 2 - 15 - 44 - 39 - 56

★★★ c) 52 - 46 - 64 - 24 - 62 - 33 - 21 - 42



Exercice 2 : Complète la suite

★ a) 8 - 9 - - - - - 14 - - 16 -

★★ b) 12 - - - 16 - - - - 20 - - -

★★★ c) 23 - - - - 27 - - - - 31 - - -



Exercice 1 : Range dans l'ordre croissant.

★ a) ④⑤ - ①② - ②③ - ③②

★★ b) 61 - 2 - 15 - 44 - 39 - 56

★★★ c) 52 - 46 - 64 - 24 - 62 - 33 - 21 - 42



Exercice 2 : Complète la suite.

★ a) 8 - 9 - - - - - 14 - - 16 -

★★ b) 12 - - - 16 - - - - 20 - - -

★★★ c) 23 - - - - 27 - - - - 31 - - -



Exercice 1 : Range dans l'ordre décroissant.

★ a) ①⑥ - ③④ - ⑥⑦ - ④⑧

★★ b) 52 - 13 - 46 - 27 - 14 - 69

★★★ c) 51 - 43 - 62 - 29 - 60 - 36 - 24 - 44



Exercice 2 : Complète la suite.

★ a) 12 - 13 - - - - - 18 - - 20 -

★★ b) - - - - 41 - - - - 45 - - -

★★★ c) 52 - - - - 56 - - - - 60 - - -



Exercice 1 : Range dans l'ordre croissant.

★ a) 69 - 21 - 35 - 43

★★ b) 15 - 5 - 51 - 22 - 67 - 37

★★★ c) 18 - 54 - 20 - 31 - 53 - 46 - 16 - 62



Exercice 2 : Complète la suite.

★ a) - 42 - - - - - 47 - - 49 -

★★ b) 56 - - - - 60 - - - - 64 - - -

★★★ c) 49 - - - - 53 - - - - 57 - - -



Exercice 1 : Range dans l'ordre décroissant.

★ a) 27 - 68 - 37 - 41

★★ b) 24 - 45 - 5 - 42 - 28 - 17

★★★ c) 55 - 60 - 14 - 31 - 15 - 46 - 57 - 63



Exercice 2 : Complète la suite

★ a) - 56 - - - - - 61 - - 63 - -

★★ b) - - - - 46 - - - - 50 - - -

★★★ c) 39 - - - - 43 - - - - 47 - - -



Exercice 1 : Range dans l'ordre croissant.

★ a) 67 - 42 - 34 - 66

★★ b) 34 - 19 - 44 - 11 - 51 - 66

★★★ c) 32 - 43 - 12 - 34 - 46 - 60 - 20 - 14



Exercice 2 : Complète la suite.

★ a) 17 - 18 - - - - - 23 - - 25 - -

★★ b) - - - - 47 - - - - 51 - - -

★★★ c) 35 - - - - 39 - - - - 43 - - -



Exercice 1 : Range dans l'ordre décroissant.

★ a) 36 - 41 - 67 - 28

★★ b) 33 - 61 - 19 - 48 - 66 - 37

★★★ c) 41 - 54 - 24 - 17 - 32 - 64 - 21 - 7



Exercice 2 : Complète la suite.

★ a) 19 - 20 - - - - - 25 - - 27 - -

★★ b) - - - - 40 - - - - 44 - - -

★★★ c) 60 - - - - 64 - - - - 68 - -



MATHS

CEI

NUM3A

Exercice 1 : Compare : < ou >

★ a) 42 34 b) 31 23 c) 05 50

★★ d) 23 12 e) 35 53 f) 12 52

★★★ g) 65 56 h) 33 31 i) 16 32



Exercice 2 : Encadre entre 2 dizaines.

★ a) < 13 < b) < 54 <

★★ c) < 32 < d) < 41 <

★★★ e) < 19 < f) < 22 <

MATHS

CEI

NUM3B

Exercice 1 : Compare : < ou >

★ a) 26 34 b) 12 23 c) 45 50

★★ d) 54 12 e) 06 53 f) 23 52

★★★ g) 24 56 h) 32 31 i) 61 32



Exercice 2 : Encadre entre 2 dizaines.

★ a) < 34 < b) < 45 <

★★ c) < 21 < d) < 63 <

★★★ e) < 56 < f) < 14 <

MATHS

CEI

NUM3C

Exercice 1 : Compare : < ou >

★ a) 42 65 b) 31 12 c) 05 06

★★ d) 23 31 e) 35 44 f) 12 21

★★★ g) 65 28 h) 33 13 i) 16 61



Exercice 2 : Encadre entre 2 dizaines.

★ a) < 16 < b) < 44 <

★★ c) < 26 < d) < 55 <

★★★ e) < 31 < f) < 66 <

MATHS

CE1

NUM3D

Exercice 1 : Compare : < ou >

★ a) $31 \dots 27$ ★ b) $47 \dots 03$ ★ c) $62 \dots 12$

★★ d) $56 \dots 41$ ★★ e) $53 \dots 14$ ★★ f) $36 \dots 16$

★★★ g) $42 \dots 12$ ★★★ h) $36 \dots 53$ ★★★ i) $62 \dots 15$



Exercice 2 : Encadre entre 2 dizaines.

★ a) $\dots < 61 < \dots$ ★ b) $\dots < 41 < \dots$

★★ c) $\dots < 52 < \dots$ ★★ d) $\dots < 36 < \dots$

★★★ e) $\dots < 18 < \dots$ ★★★ f) $\dots < 29 < \dots$

MATHS

CE1

NUM3E

Exercice 1 : Compare : < ou >

★ a) $04 \dots 34$ ★ b) $31 \dots 63$ ★ c) $25 \dots 50$

★★ d) $81 \dots 16$ ★★ e) $25 \dots 53$ ★★ f) $12 \dots 17$

★★★ g) $25 \dots 56$ ★★★ h) $33 \dots 58$ ★★★ i) $52 \dots 32$



Exercice 2 : Encadre entre 2 dizaines.

★ a) $\dots < 62 < \dots$ ★ b) $\dots < 31 < \dots$

★★ c) $\dots < 51 < \dots$ ★★ d) $\dots < 29 < \dots$

★★★ e) $\dots < 44 < \dots$ ★★★ f) $\dots < 15 < \dots$

MATHS

CE1

NUM3F

Exercice 1 : Compare : < ou >

★ a) $13 + 5 \dots 12 + 8$ ★ b) $31 + 2 \dots 23 + 1$

★★ c) $20 \dots 13 + 9$ ★★ d) $35 + 2 \dots 53$

★★★ e) $2 + 16 \dots 3 + 16$ ★★★ f) $33 + 10 \dots 31$



Exercice 2 : Encadre entre 2 dizaines.

★ a) $\dots < 41 < \dots$ ★ b) $\dots < 52 < \dots$

★★ c) $\dots < 37 < \dots$ ★★ d) $\dots < 65 < \dots$

★★★ e) $\dots < 12 < \dots$ ★★★ f) $\dots < 24 < \dots$

MATHS

CE1

NUM3G

Exercice 1 : Compare : < ou >

★ a) $12 + 8 \dots 22$ ★ b) $37 + 1 \dots 34$

★★ c) $23 \dots 13 + 5$ ★★ d) $34 + 3 \dots 34$

★★★ e) $24 + 2 \dots 32$ ★★★ f) $41 + 8 \dots 62$



Exercice 2 : Encadre entre 2 dizaines.

★ a) $\dots < 25 < \dots$ ★ b) $\dots < 65 < \dots$

★★ c) $\dots < 51 < \dots$ ★★ d) $\dots < 32 < \dots$

★★★ e) $\dots < 19 < \dots$ ★★★ f) $\dots < 43 < \dots$



MATHS

CE1

NUM3H

Exercice 1 : Compare : < ou >

★ a) $39 + 2 \dots 42$ ★ b) $46 + 3 \dots 47$

★★ c) $13 + 10 \dots 22$ ★★ d) $34 + 6 \dots 39$

★★★ e) $12 + 15 \dots 28$ ★★★ f) $33 + 10 \dots 51$



Exercice 2 : Encadre entre 2 dizaines.

★ a) $\dots < 34 < \dots$ ★ b) $\dots < 27 < \dots$

★★ c) $\dots < 62 < \dots$ ★★ d) $\dots < 41 < \dots$

★★★ e) $\dots < 16 < \dots$ ★★★ f) $\dots < 59 < \dots$



MATHS

CE1

NUM3I

Exercice 1 : Compare : < ou >

★ a) $31 \dots 29 + 3$ ★ b) $60 \dots 50 + 8$

★★ c) $45 \dots 35 + 11$ ★★ d) $13 + 13 \dots 27$

★★★ e) $51 \dots 49 + 3$ ★★★ f) $48 \dots 10 + 39$



Exercice 2 : Encadre entre 2 dizaines.

★ a) $\dots < 36 < \dots$ ★ b) $\dots < 44 < \dots$

★★ c) $\dots < 22 < \dots$ ★★ d) $\dots < 33 < \dots$




★★★ e) $\dots < 18 < \dots$ ★★★ f) $\dots < 61 < \dots$



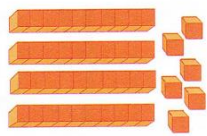
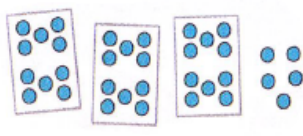
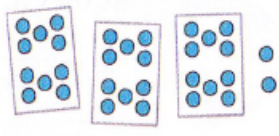
Exercice 1

- ★ a) Le double de 6
- ★ b) La moitié de 10
- ★★ c) Le double de 8
- ★★ d) La moitié de 20
- ★★★ e) Le double de 3
- ★★★★ f) La moitié de 18

Exercice 2 : Utilise un tableau vierge

	32	$10 + 10 + 10 + 2$	$30 + 2$	3 dizaines 2 unités	3 d 2 u
★ a)	26				
★★ b)			$40 + 7$		
★★★ c)					5 d 1 u



Exercice 3 : Combien cela fait-il ?

- ★ a) 
- ★ b) 
- ★ c) 

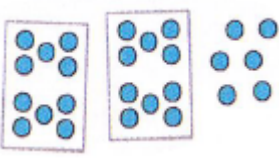
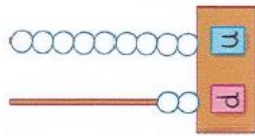
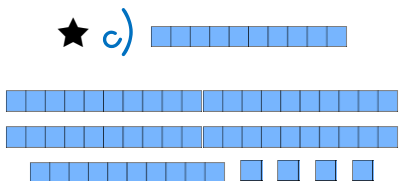
Exercice 1

- ★ a) Le double de 2
- ★ b) La moitié de 14
- ★★ c) Le double de 6
- ★★ d) La moitié de 22
- ★★★ e) Le double de 4
- ★★★★ f) La moitié de 20

Exercice 2 : Utilise un tableau vierge

	32	$10 + 10 + 10 + 2$	$30 + 2$	3 dizaines 2 unités	3 d 2 u
★ a)	38				
★★ b)			$50 + 1$		
★★★ c)		$10 + 10 + 10 + 10 + 4$			



Exercice 3 : Combien cela fait-il ?

- ★ a) 
- ★ b) 
- ★ c) 

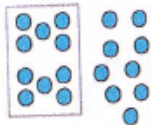

Exercice 1

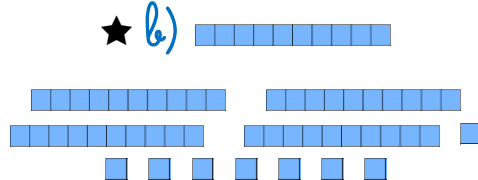
- ★ a) Le double de 8
- ★ b) La moitié de 20
- ★★ c) Le double de 5
- ★★ d) La moitié de 14
- ★★★ e) Le double de 7
- ★★★★ f) La moitié de 2

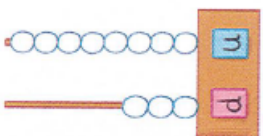
Exercice 2 : Utilise un tableau vierge

	32	$10 + 10 + 10 + 2$	$30 + 2$	3 dizaines 2 unités	3 d 2 u
★ a)	45				
★★ b)			$60 + 8$		
★★★ c)					2 d 2 u

Exercice 3 : Combien cela fait-il ?

★ a)  



★ b) 

★ c) 

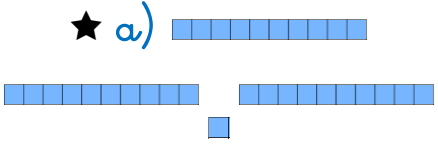
Exercice 1

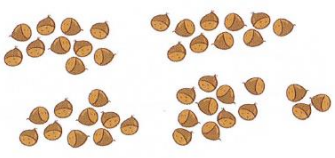
- ★ a) Le double de 7
- ★ b) La moitié de 12
- ★★ c) Le double de 5
- ★★ d) La moitié de 20
- ★★★ e) Le double de 8
- ★★★★ f) La moitié de 4

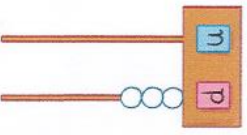
Exercice 2 : Utilise un tableau vierge

	32	$10 + 10 + 10 + 2$	$30 + 2$	3 dizaines 2 unités	3 d 2 u
★ a)	53				
★★ b)					4 d 9 u
★★★ c)		$10 + 10 + 10 + 10 + 10$			

Exercice 3 : Combien cela fait-il ?

★ a) 



★ b) 

★ c) 


Exercice 1

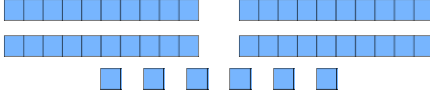
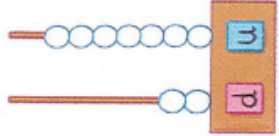
- ★ a) Le double de 8
- ★ b) La moitié de 14
- ★★ c) Le double de 6
- ★★ d) La moitié de 18
- ★★★ e) Le double de 9
- ★★★★ f) La moitié de 6


Exercice 2 : Utilise un tableau vierge

	32	$10 + 10 + 10 + 2$	$30 + 2$	3 dizaines 2 unités	3 d 2 u
★ a)			$20 + 5$		
★★ b)					1 d 8 u
★★★ c)	44				

Exercice 3 : Combien cela fait-il ?

★ a) 



 ★ b) 

★ c) 


Exercice 1


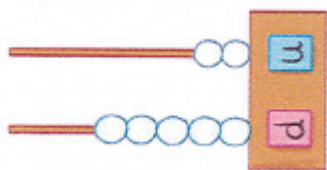
- ★ a) Le double de 9
- ★ b) La moitié de 16
- ★★ c) Le double de 8
- ★★ d) La moitié de 20
- ★★★ e) Le double de 10
- ★★★★ f) La moitié de 8

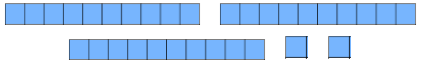
Exercice 2 : Utilise un tableau vierge

	32	$10 + 10 + 10 + 2$	$30 + 2$	3 dizaines 2 unités	3 d 2 u
★ a)			$60 + 4$		
★★ b)					5 d 9 u
★★★ c)	14				

Exercice 3 : Combien cela fait-il ?

★ a) 



 ★ b) 

★ c) 

Exercice 1

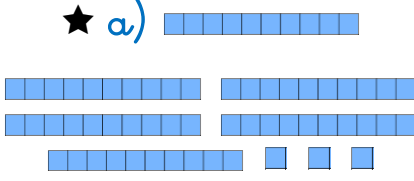
- ★ a) Le double de 2
- ★ b) La moitié de 18
- ★★ c) Le double de 9
- ★★ d) La moitié de 2
- ★★★ e) Le double de 4
- ★★★★ f) La moitié de 6

Exercice 2 : Utilise un tableau vierge

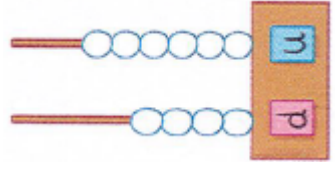
	32	$10 + 10 + 10 + 2$	$30 + 2$	3 dizaines 2 unités	3 d 2 u
★ a)			$30 + 6$		
★★ b)					6 d 3 u
★★★ c)	49				

Exercice 3 : Combien cela fait-il ?

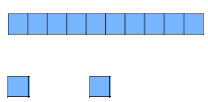
★ a)



★ b)





★ c)



Exercice 1

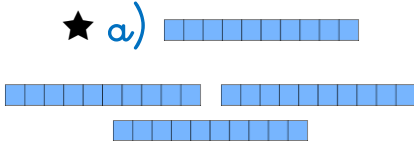
- ★ a) Le double de 4
- ★ b) La moitié de 20
- ★★ c) Le double de 10
- ★★ d) La moitié de 4
- ★★★ e) Le double de 6
- ★★★★ f) La moitié de 8

Exercice 2 : Utilise un tableau vierge

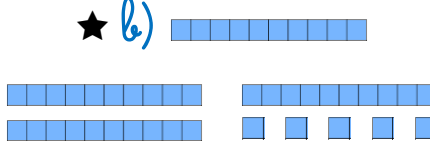
	32	$10 + 10 + 10 + 2$	$30 + 2$	3 dizaines 2 unités	3 d 2 u
★ a)	21				
★★ b)			$10 + 7$		
★★★ c)					3 d 4 u

Exercice 3 : Combien cela fait-il ?

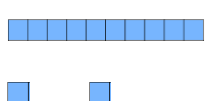
★ a)



★ b)



★ c)








	32	$10 + 10 + 10 + 2$	$30 + 2$	3 dizaines 2 unités	3 d 2 u
★ a)					
★★ b)					
★★★★ c)					

	32	$10 + 10 + 10 + 2$	$30 + 2$	3 dizaines 2 unités	3 d 2 u
★ a)					
★★ b)					
★★★★ c)					

	32	$10 + 10 + 10 + 2$	$30 + 2$	3 dizaines 2 unités	3 d 2 u
★ a)					
★★ b)					
★★★★ c)					

	32	$10 + 10 + 10 + 2$	$30 + 2$	3 dizaines 2 unités	3 d 2 u
★ a)					
★★ b)					
★★★★ c)					

J E U X

	<i>Pour les jeux autour de la lecture et de l'écriture des nombres</i>
	<i>Les jeux pour ranger les nombres dans l'ordre</i>
	<i>Les jeux pour compléter des suites de nombres</i>
	<i>Les jeux pour comparer et encadrer</i>
	<i>Les jeux pour décomposer les nombres</i>