

Math

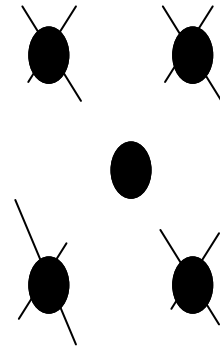


Je sais résoudre une  
soustraction

$$25 - 14 = ?$$

~~10~~

10





Prénom :

---

---

---

---

---

Date :...../...../.....

Résous ces soustractions. Aide-toi en dessinant le nombre de billes jouées puis en barrant le nombre de billes perdues après chaque partie.

$9 - 6 =$

$10 - 8 =$

$18 - 9 =$

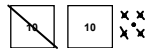
$16 - 8 =$

$20 - 11 =$

$13 - 7 =$



Étape 1 : première approche de la  
soustraction



Prénom :

---

---

---

---

Date :...../...../.....


Dessine les calculs et donne le résultat.

$37 - 12 =$

$52 - 24 =$

$42 - 17 =$

$51 - 25 =$



Étape 2 : je joue au jeu du Boulou Boulou avec deux mains

# Calculs soustractifs en ligne

Math



Prénom :

---

---

---

---

---

Date :...../...../.....

**1** Dessine les flèches sur la bande et calcule.

**2** Donne les résultats des calculs suivants

$35 - 12 = \underline{\quad}$

$50 - 30 = \underline{\quad}$


$32 - 5 = \underline{\quad}$

$26 - 4 = \underline{\quad}$

$52 - 31 = \underline{\quad}$

$56 - 11 = \underline{\quad}$

Étape 3 : je joue au jeu du Ziglotron



Nombres de



# Je dénombre de petites collections.

Math



Prénom :

\_\_\_\_\_


\_\_\_\_\_

\_\_\_\_\_

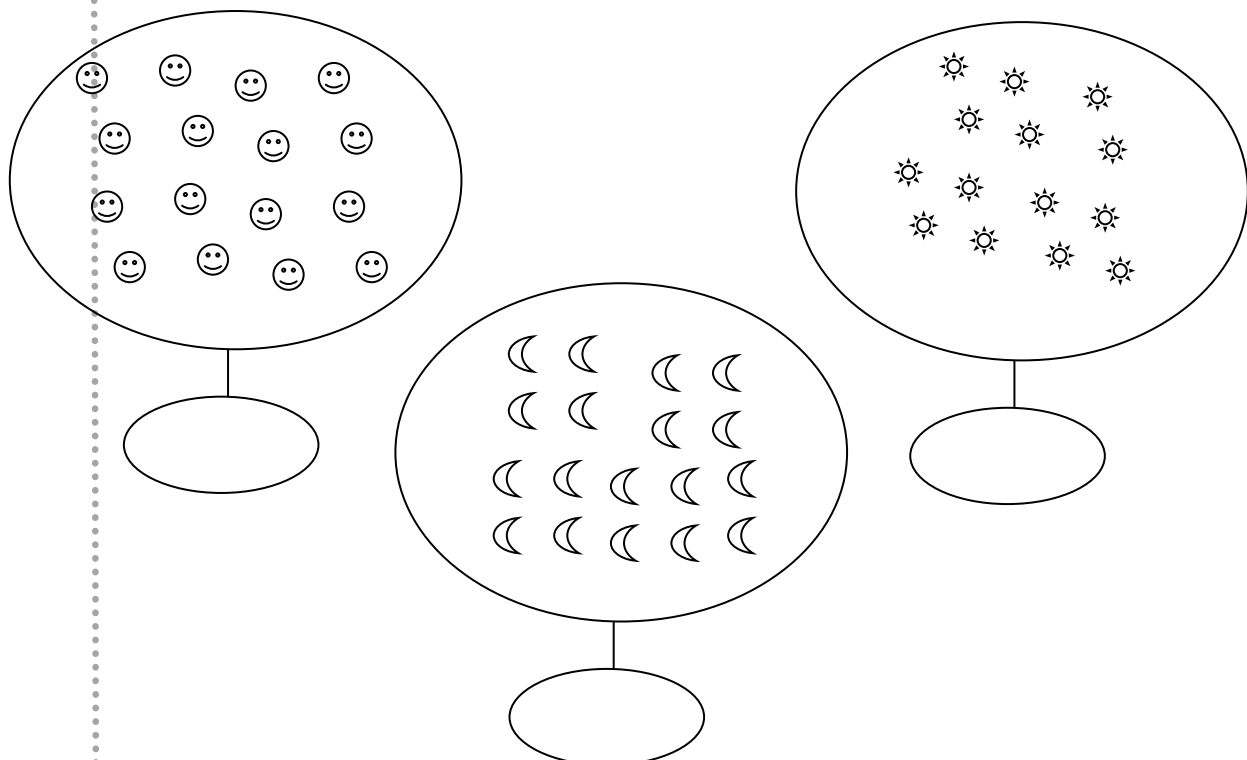
\_\_\_\_\_

Date :...../...../.....


1



2







Je dénombre de petites collections.

Math



Prénom :

Four horizontal lines for writing a name.

Date :...../...../.....

1




15

14

12

2



3



11



13



14

