


Alex ramasse 9 anneaux bleus à la piscine. Lisa ramasse 12 anneaux rouges.

Combien d'anneaux **ont-ils ramassé** en tout?

--	--




13



Alex ramasse 9 anneaux bleus à la piscine. Lisa ramasse 12 anneaux rouges.

Combien d'anneaux **ont-ils ramassé** en tout?

--	--




13



Alex ramasse 9 anneaux bleus à la piscine. Lisa ramasse 12 anneaux rouges.

Combien d'anneaux **ont-ils ramassé** en tout?

--	--



13



14

Dans la classe de Lisa, il y a 16 filles et 9 garçons.

Combien y a-t-il d'élèves en tout dans la classe?



14

Dans la classe de Lisa, il y a 16 filles et 9 garçons.

Combien y a-t-il d'élèves en tout dans la classe?



14

Dans la classe de Lisa, il y a 16 filles et 9 garçons.

Combien y a-t-il d'élèves en tout dans la classe?



La maitresse a fait quatre équipes de 5 enfants.

Il **y a** combien d'enfants en tout?

--	--

---

15



La maitresse a fait quatre équipes de 5 enfants.

Il **y a** combien d'enfants en tout?

--	--

---

15



La maitresse a fait quatre équipes de 5 enfants.

Il **y a** combien d'enfants en tout?

--	--

---

15



16

Maman sort 12 cookies du four. Elle les partage entre Alex, Lisa et Moustik.

Combien chaque personnage va-t-il manger de cookies?



16

Maman sort 12 cookies du four. Elle les partage entre Alex, Lisa et Moustik.

Combien chaque personnage va-t-il manger de cookies?



16

Maman sort 12 cookies du four. Elle les partage entre Alex, Lisa et Moustik.

Combien chaque personnage va-t-il manger de cookies?




Alex, Moustik et Lisa se partagent le trésor.

Chacun doit recevoir le même nombre de pépites et il doit rester le moins de pépites.

Combien de pépites aura chaque personnage?

--	--



17



Alex, Moustik et Lisa se partagent le trésor.

Chacun doit recevoir le même nombre de pépites et il doit rester le moins de pépites.

Combien de pépites aura chaque personnage?

--	--



17




Alex, Moustik et Lisa se partagent le trésor.

Chacun doit recevoir le même nombre de pépites et il doit rester le moins de pépites.

Combien de pépites aura chaque personnage?

--	--



17



18

La maîtresse doit corriger 2 piles de 24 cahiers.

Combien de cahiers doit-elle corriger?



18

La maîtresse doit corriger 2 piles de 24 cahiers.

Combien de cahiers doit-elle corriger?



18

La maîtresse doit corriger 2 piles de 24 cahiers.

Combien de cahiers doit-elle corriger?



Alex a 7 billes bleues, Lisa a 15 billes rouges et Moustik a 10 billes vertes. Ils mettent toutes leurs billes dans un grand sac.

Combien de billes y a-t-il dans le sac?



19



Alex a 7 billes bleues, Lisa a 15 billes rouges et Moustik a 10 billes vertes. Ils mettent toutes leurs billes dans un grand sac.

Combien de billes y a-t-il dans le sac?



19



Alex a 7 billes bleues, Lisa a 15 billes rouges et Moustik a 10 billes vertes. Ils mettent toutes leurs billes dans un grand sac.

Combien de billes y a-t-il dans le sac?



19



20

Alex doit ramasser 29 pommes pour sa maman. Il en a déjà cueillies 20.

Combien **doit-il** **encore cueillir** de pomme?



20

Alex doit ramasser 29 pommes pour sa maman. Il en a déjà cueillies 20.

Combien **doit-il** **encore cueillir** de pomme?



20

Alex doit ramasser 29 pommes pour sa maman. Il en a déjà cueillies 20.

Combien **doit-il** **encore cueillir** de pomme?





Dans la classe, il y a 27 enfants. La maitresse veut faire trois équipes.

Combien **y aura-t-il** d'équipes?

--	--

---

21



Dans la classe, il y a 27 enfants. La maitresse veut faire trois équipes.

Combien **y aura-t-il** d'équipes?

--	--

---

21



Dans la classe, il y a 27 enfants. La maitresse veut faire trois équipes.

Combien **y aura-t-il** d'équipes?

--	--

---

21



22

Alex a 40 billes. Il en donne 14 à son meilleur copain.

Combien lui reste-t-il de billes?



22

Alex a 40 billes. Il en donne 14 à son meilleur copain.

Combien lui reste-t-il de billes?



22

Alex a 40 billes. Il en donne 14 à son meilleur copain.

Combien lui reste-t-il de billes?



Alex, Lisa et Moustik collectionnent les cartes Pokémon.

Alex a 16 cartes, Lisa en a 23 et Moustik a 7 cartes.

Combien de cartes ont-ils en tout?

23



Alex, Lisa et Moustik collectionnent les cartes Pokémon.

Alex a 16 cartes, Lisa en a 23 et Moustik a 7 cartes.

Combien de cartes ont-ils en tout?

23



Alex, Lisa et Moustik collectionnent les cartes Pokémon.

Alex a 16 cartes, Lisa en a 23 et Moustik a 7 cartes.

Combien de cartes ont-ils en tout?

23




24

Lisa a acheté 3 paquets de gâteaux.  
Dans chaque paquet, il y a 14 gâteaux.  
Combien de gâteaux y a-t-il en tout?



---

--	--



24

Lisa a acheté 3 paquets de gâteaux.  
Dans chaque paquet, il y a 14 gâteaux.  
Combien de gâteaux y a-t-il en tout?



---

--	--



24

Lisa a acheté 3 paquets de gâteaux.  
Dans chaque paquet, il y a 14 gâteaux.  
Combien de gâteaux y a-t-il en tout?



---

--	--

