


Prénom: _____

Mon programme



Signature des parents

Bilan:

- Programme dépassé
- Programme tenu
- Programme non tenu

Remarques éventuelles:

LECTURE



- Choisis un livre du rallye lecture.
- Lis ton livre.
- Réponds au questionnaire associé.
- Range le livre et coche la case associée dans le tableau de suivi.

GRAMMAIRE

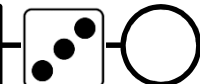


Transforme les phrases interrogatives en phrases affirmatives:

Le loup a-t-il mangé la fillette?

S'est-il léché les babines?


VOCABULAIRE



Associe le nom des forêts aux arbres qui la constituent:

- | | | | |
|---------------|---|---|------------------|
| chênaie | • | • | olivier |
| châtaigneraie | • | • | chêne |
| verger | • | • | châtaignier |
| oliveraie | • | • | pin |
| pinède | • | • | arbres fruitiers |

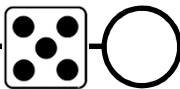
CONJUGAISON



Souligne les verbes à l'imparfait:

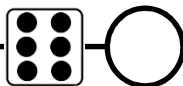
Je n'ai pas vu l'écureuil qui choisissait un pin du jardin pour passer l'hiver. Il bondissait de branche en branche et nous nous réjouissions de le voir tous les jours. L'automne, quand les feuilles jaunissaient, il se nourrissait de glands et grossissait beaucoup.

ORTHOGRAPHE



Remplace le mot écolière par écolier et recopie le groupe nominal:
cette écolière attentive, studieuse et appliquée

GRAMMAIRE



Souligne les COD:

- Les deux frères préparent un spectacle.
- Nous ouvrons nos cadeaux de Noël.
- N'ouvrez pas les fenêtres, il fait trop froid.
- Nos grands-parents nous ont envoyé un colis la semaine dernière.

CALCUL



Calcule:

$$\begin{array}{r} 5 \ 8 \\ \times \ 4 \\ \hline \dots\dots\dots \end{array}$$

$$\begin{array}{r} 3 \ 6 \ 5 \\ \times \quad 8 \\ \hline \dots\dots\dots \end{array}$$

CALCUL



Pose et effectue:

37×3

82×5

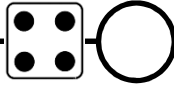
56×9

125×4

243×3

513×5

PROBLEME



Une classe de 26 élèves de CE2 visite le Muséum d'Histoire naturelle.
L'entrée coûte 8 euros par élève.

Quelle est la dépense de la classe pour cette visite?

Réponse: _____

MESURE



Convertis en km et m, comme dans l'exemple.

$3\ 400\ m = 3\ 000\ m + 400\ m = 3\ km\ 400\ m$

$1\ 800\ m = \dots\dots\dots$

$2\ 372\ m = \dots\dots\dots$

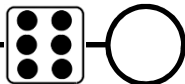
Convertis en m, comme dans l'exemple.

$2\ km\ 700\ m = 2\ 000\ m + 700\ m = 2\ 700\ m$

$5\ km\ 300\ m = \dots\dots\dots$

$2\ km\ 750\ m = \dots\dots\dots$

PROBLEME



Un centre de loisir achète 7 VTT. Un VTT coûte 264 euros.

Quelle est la dépense du centre de loisirs pour cet achat?

Réponse: _____