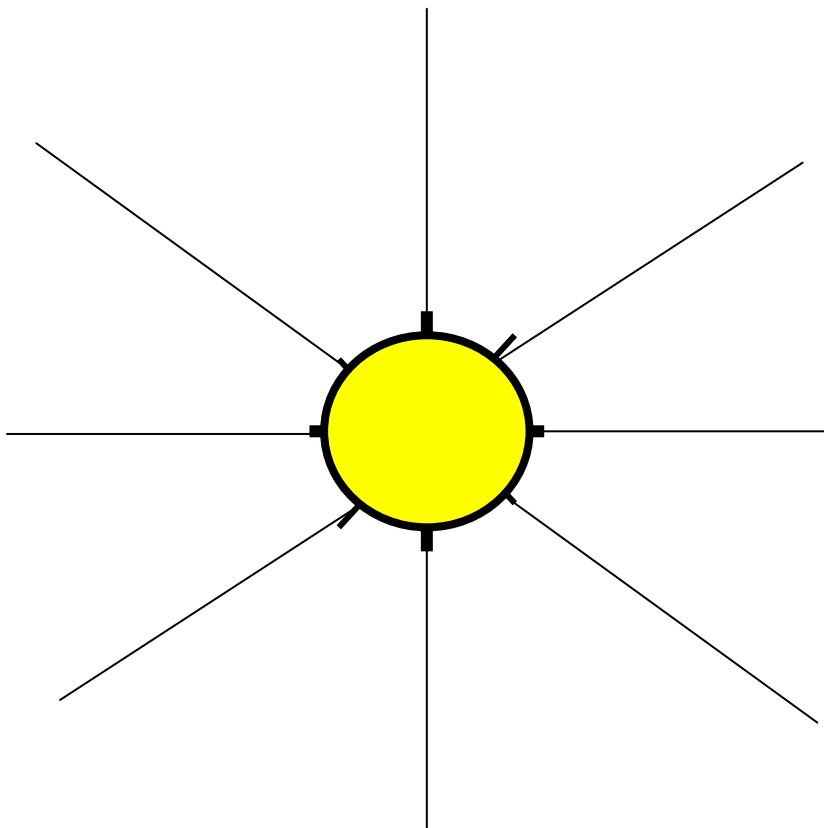
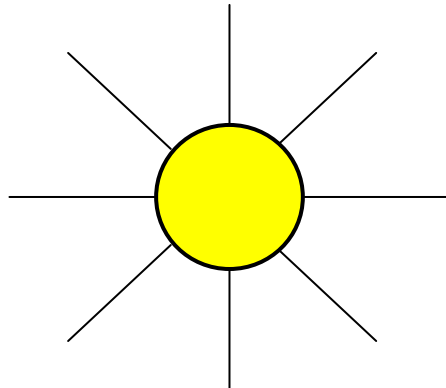




Mesure : niveau 1




Reproduit cette figure avec des traits de 4 cm.





Mesure : niveau 1

Range ces arbres du plus petit au plus grand :



A

B

C

D

E

Réponse :

D

B

E





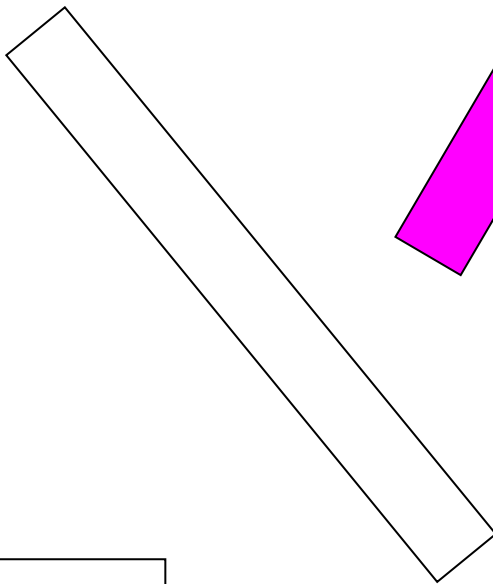



C

A



Mesure : niveau 1


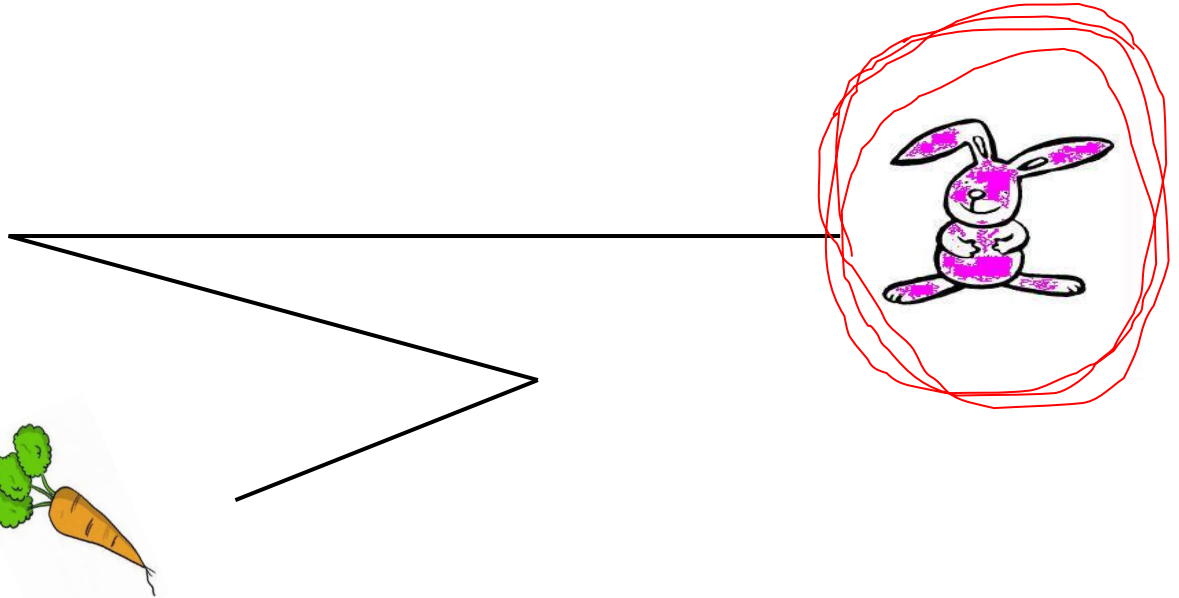
Colorie les bandes qui ont la même longueur que celle du milieu. Utilise la règle.





Mesure : niveau 2

Entoure le lapin qui parcourt le chemin le plus long pour manger sa carotte.





Ce1

Mesure : niveau 2

Réponds aux questions en observant le calendrier

JANVIER	FÉVRIER	MARS	AVRIL
L M M J V S D	L M M J V S D	L M M J V S D	L M M J V S D
1 2 3 4 5	1 2	1 2	1 2 3 4 5 6
6 7 8 9 10 11 12	3 4 5 6 7 8 9	3 4 5 6 7 8 9	7 8 9 10 11 12 13
13 14 15 16 17 18 19	10 11 12 13 14 15 16	10 11 12 13 14 15 16	14 15 16 17 18 19 20
20 21 22 23 24 25 26	17 18 19 20 21 22 23	17 18 19 20 21 22 23	21 22 23 24 25 26 27
27 28 29 30 31	24 25 26 27 28	24 25 26 27 28 29 30	28 29 30
		31	
MAI	JUIN	JUILLET	AOÛT
L M M J V S D	L M M J V S D	L M M J V S D	L M M J V S D
1 2 3 4	1	1 2 3 4 5 6	1 2 3
5 6 7 8 9 10 11	2 3 4 5 6 7 8	7 8 9 10 11 12 13	4 5 6 7 8 9 10
12 13 14 15 16 17 18	9 10 11 12 13 14 15	14 15 16 17 18 19 20	11 12 13 14 15 16 17
19 20 21 22 23 24 25	16 17 18 19 20 21 22	21 22 23 24 25 26 27	18 19 20 21 22 23 24
26 27 28 29 30 31	23 24 25 26 27 28 29	28 29 30 31	25 26 27 28 29 30 31
	30		
SEPTEMBRE	OCTOBRE	NOVEMBRE	DÉCEMBRE
L M M J V S D	L M M J V S D	L M M J V S D	L M M J V S D
1 2 3 4 5 6 7	1 2 3 4 5	1 2	1 2 3 4 5 6 7
8 9 10 11 12 13 14	6 7 8 9 10 11 12	3 4 5 6 7 8 9	8 9 10 11 12 13 14
15 16 17 18 19 20 21	13 14 15 16 17 18 19	10 11 12 13 14 15 16	15 16 17 18 19 20 21
22 23 24 25 26 27 28	20 21 22 23 24 25 26	17 18 19 20 21 22 23	22 23 24 25 26 27 28
29 30	27 28 29 30 31	24 25 26 27 28 29 30	29 30 31

Tim, habitant du futur, à une année 2250 bien chargée :



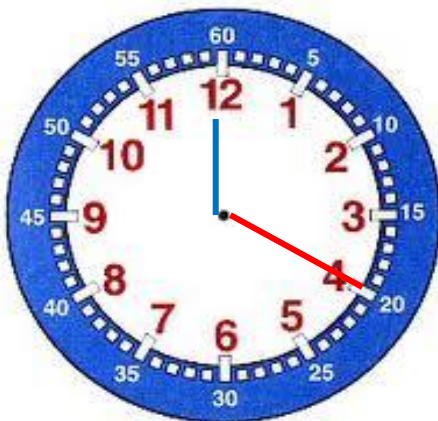
- L'année scolaire de Tim commence le 4 janvier et se termine le 31 octobre. Entoure ces 2 dates.
- Il part en vacances sur Jupiter du 4 au 25 décembre. Colorie cette période de vacances.
- Quatre jours après la fin de ses vacances, il fêtera son anniversaire : Ce sera le :29 décembre.....



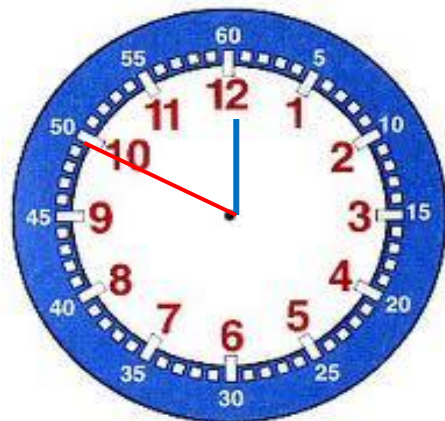
Ce1

Mesure : niveau 2

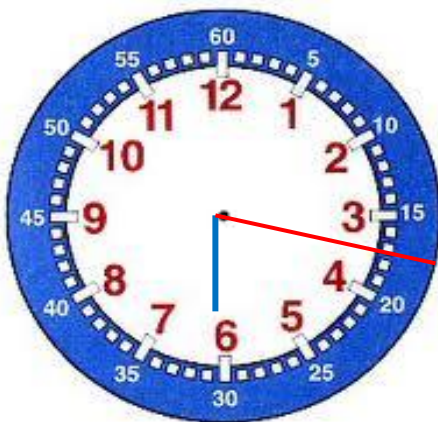
Monsieur Pierre l'horloger a perdu certaines aiguilles de ses montres. Peux-tu l'aider en redessinant les aiguilles des heures sur les cadrans ?



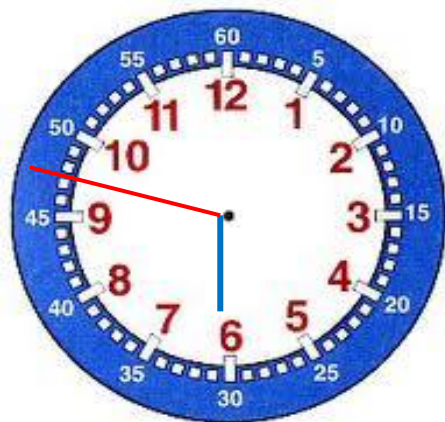
Il est 4 heures.



Il est 10 heures.



Il est 3 h 30.



Il est 9 h 30.