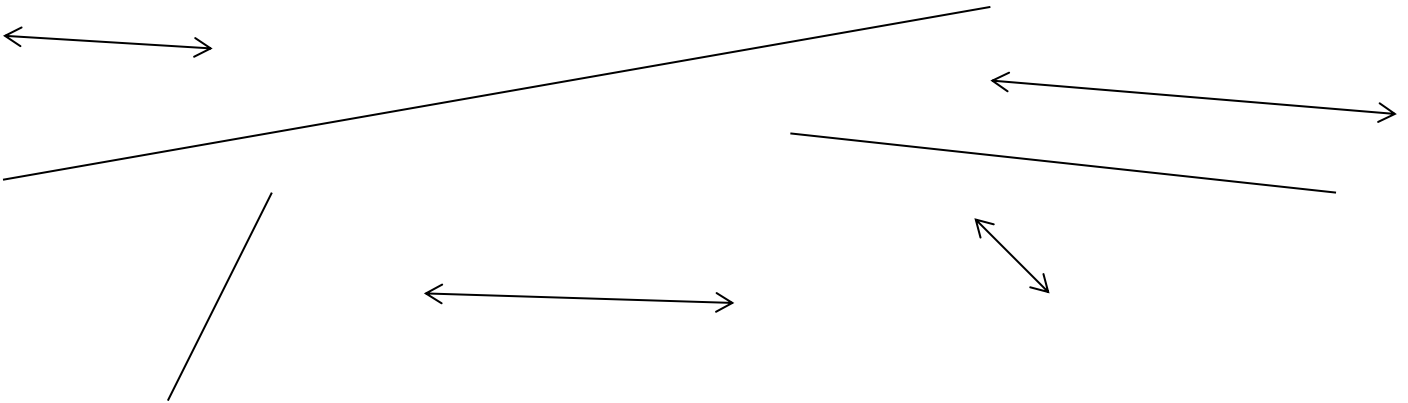


Evaluation géométrie et mesure et grandeurs : droite, segment et mesure de longueurs.

Etre précis et soigneux dans les tracés :

Connâître la notion de droite et de segment.

1- Entoure les droites en bleu et les segments en jaune.




Vérifier l'alignement de points.

Placer des points alignés

2- Trouve trois points alignés et trace une ligne droite pour les relier.





3- Place cinq points alignés. Tu peux tracer une ligne droite pour t'aider.



Evaluation géométrie et mesure et grandeurs : droite, segment et mesure de longueurs.

Utiliser des outils géométriques adaptés pour tracer des segments de longueur donnée.

4- Trace un segment [AB] de 8 cm et un segment [CD] de 3 cm.



Utiliser des outils géométriques adaptés pour tracer des segments de longueur donnée.

5- Entoure les segments qui font la même longueur de la même couleur.

