

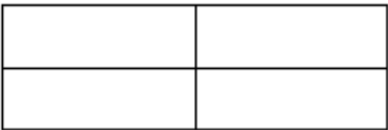
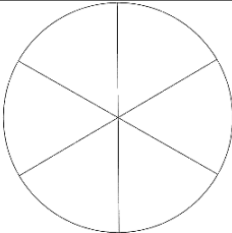
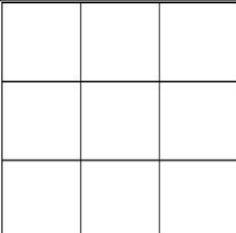
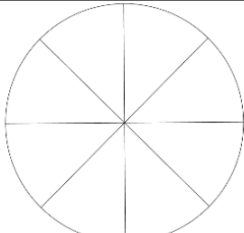
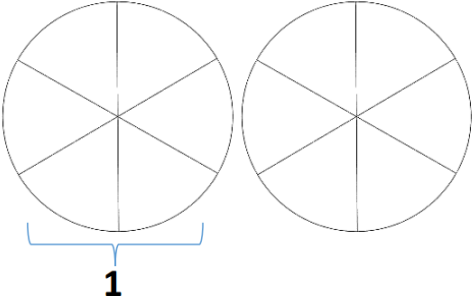
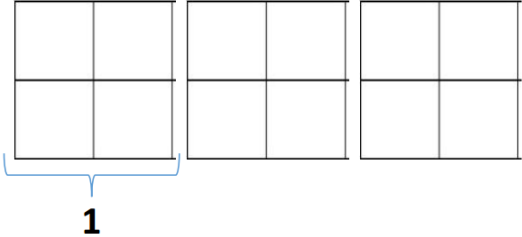
mon prénom :

Evaluation : Mathématiques CM1

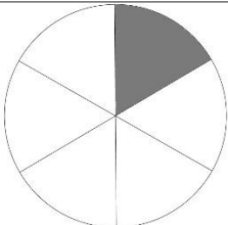
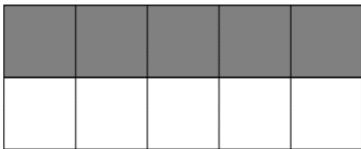
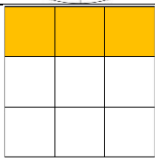

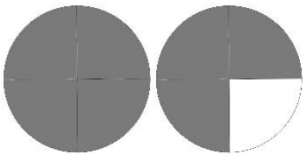
la date :

Compétences du LSUN :	Non atteint	Partiellement atteint	Atteint	Dépassé
Utiliser et représenter des fractions simples.				
Résoudre des problèmes en utilisant des fractions simples.				

Exercice 1 : Colorie les fractions demandées.

			
$\frac{1}{2}$ en jaune et $\frac{1}{4}$ en vert	$\frac{1}{3}$ en bleu $\frac{1}{6}$ en noir	$\frac{2}{9}$ en bleu $\frac{1}{3}$ en vert	$\frac{3}{4}$ en noir $\frac{1}{8}$ en rouge
			
$\frac{7}{6}$		$\frac{10}{4}$	

Exercice 2 : Ecris la fraction correspondante.

	—		—
	—		—
	—		

Exercice 3 : Pour le goûter, quatre amis se partagent cette tablette de chocolat.

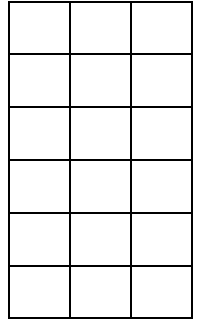
1. Indique combien de carrés de chocolat chaque enfant a mangé.

Mélina a mangé un tiers de la tablette, c'est _____ carrés.

Ayoub en mangé un sixième, c'est _____ carrés.

Kenza a mangé deux neuvième, c'est _____ carrés.

Lenny a mangé le reste, c'est _____ carrés.



2. Indique quelle fraction de la tablette Lenny a mangée.

Exercice 4 : Marco a 35 €. Il utilise $\frac{3}{5}$ pour s'acheter des livres.

Combien lui reste-t-il après son achat ?

Exercice 5 : Émilio a lu 50 pages : cela représente les $\frac{2}{5}$ de son roman.

Combien de pages comporte son livre ?

Signature des parents

