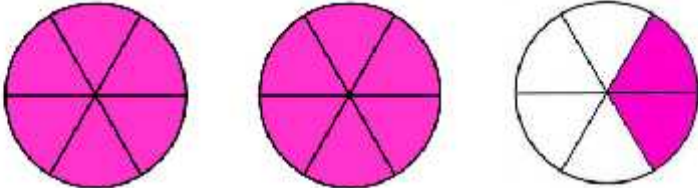
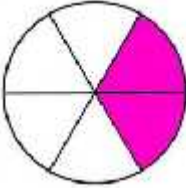



**Ecrire une fraction sous la
forme d'un entier et une
fraction inférieure à 1**

**Ecrire une fraction sous la
forme d'un entier et une
fraction inférieure à 1**

Correction

$\frac{14}{6} =$ 

$\frac{14}{6} =$ $\underbrace{1 + 1}_{2} + \frac{2}{6}$ 

$\frac{14}{6} =$ $2 + \frac{2}{6}$ 

Dessine les fractions et écris la sous la forme d'un entier et d'une fraction <1

1

$$\frac{15}{4} =$$



Dessine les fractions et écris la sous la forme d'un entier et d'une fraction <1

2

$$\frac{11}{2} =$$



Dessine les fractions et écris la sous la forme d'un entier et d'une fraction <1

3

$$\frac{23}{5} =$$



Dessine les fractions et écris la sous la forme d'un entier et d'une fraction <1

4

$$\frac{16}{3} =$$



Dessine les fractions et écris la sous la forme d'un entier et d'une fraction <1

5

$$\frac{27}{8} =$$


unités entières

Dessine les fractions et écris la sous la forme d'un entier et d'une fraction <1

6

$$\frac{16}{9} =$$


unités entières

Dessine les fractions et écris la sous la forme d'un entier et d'une fraction <1

7

$$\frac{18}{5} =$$


unités entières

Dessine les fractions et écris la sous la forme d'un entier et d'une fraction <1

8

$$\frac{19}{3} =$$


unités entières

Dessine les fractions et écris la sous la forme d'un entier et d'une fraction <1

9

$$\frac{27}{7} =$$


unités entières

Dessine les fractions et écris la sous la forme d'un entier et d'une fraction <1

10

$$\frac{21}{9} =$$


unités entières

Dessine les fractions et écris la sous la forme d'un entier et d'une fraction <1

11

$$\frac{19}{5} =$$


unités entières

Dessine les fractions et écris la sous la forme d'un entier et d'une fraction <1

12

$$\frac{28}{10} =$$


unités entières

Dessine les fractions et écris la sous la forme d'un entier et d'une fraction <1

13


$$\frac{12}{7} =$$



Dessine les fractions et écris la sous la forme d'un entier et d'une fraction <1

14

$$\frac{25}{6} =$$



Dessine les fractions et écris la sous la forme d'un entier et d'une fraction <1

15

$$\frac{15}{2} =$$



Dessine les fractions et écris la sous la forme d'un entier et d'une fraction <1

16

$$\frac{17}{3} =$$



Dessine les fractions et écris la sous la forme d'un entier et d'une fraction <1

17

$$\frac{26}{8} =$$


unités entières

Dessine les fractions et écris la sous la forme d'un entier et d'une fraction <1

18

$$\frac{13}{2} =$$


unités entières

Dessine les fractions et écris la sous la forme d'un entier et d'une fraction <1

19

$$\frac{18}{10} =$$


unités entières

Dessine les fractions et écris la sous la forme d'un entier et d'une fraction <1

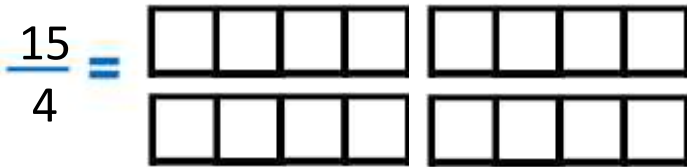
20

$$\frac{16}{5} =$$


unités entières

Dessine les fractions et écris la sous la forme d'un entier et d'une fraction <1

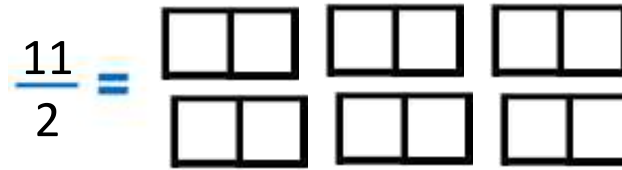
1



+ -
unités entières

Dessine les fractions et écris la sous la forme d'un entier et d'une fraction <1

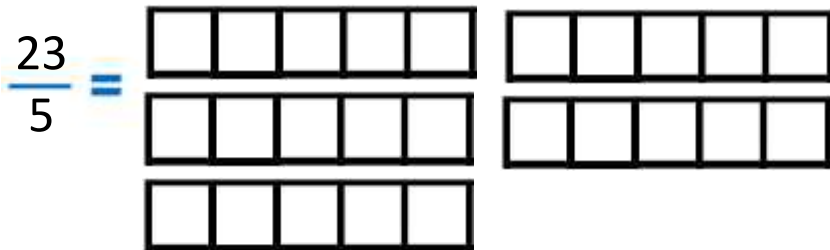
2



+ -
unités entières

Dessine les fractions et écris la sous la forme d'un entier et d'une fraction <1

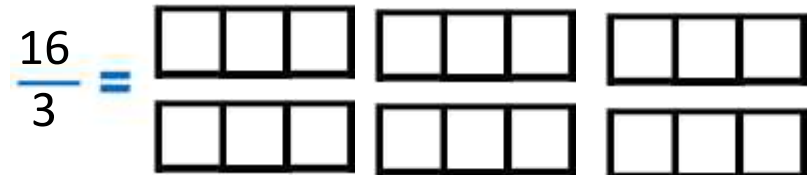
3



+ -
unités entières

Dessine les fractions et écris la sous la forme d'un entier et d'une fraction <1

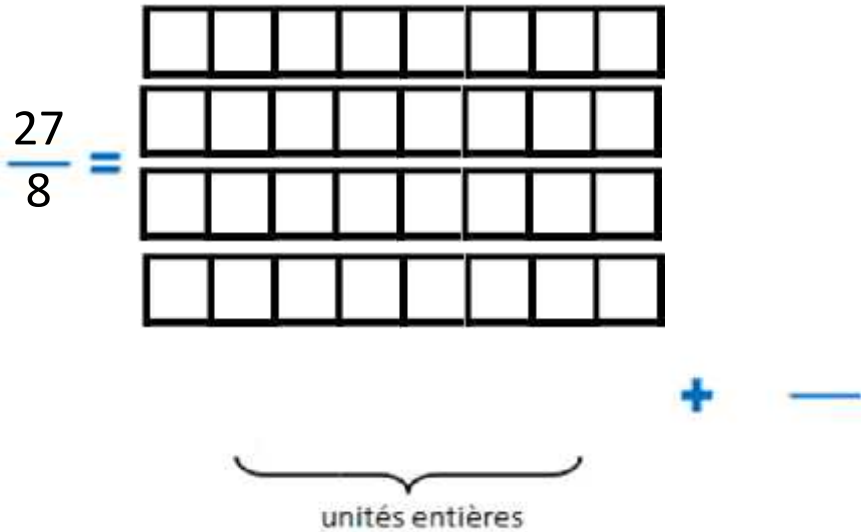
4



+ -
unités entières

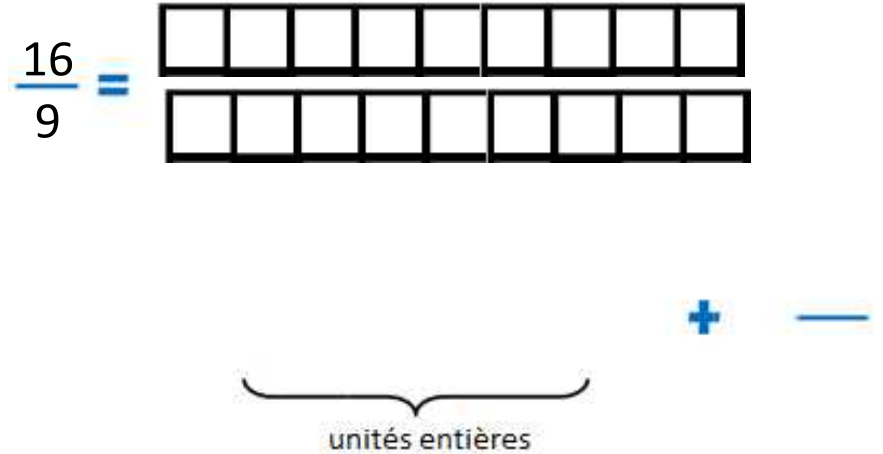
Dessine les fractions et écris la sous la forme d'un entier et d'une fraction <1

5



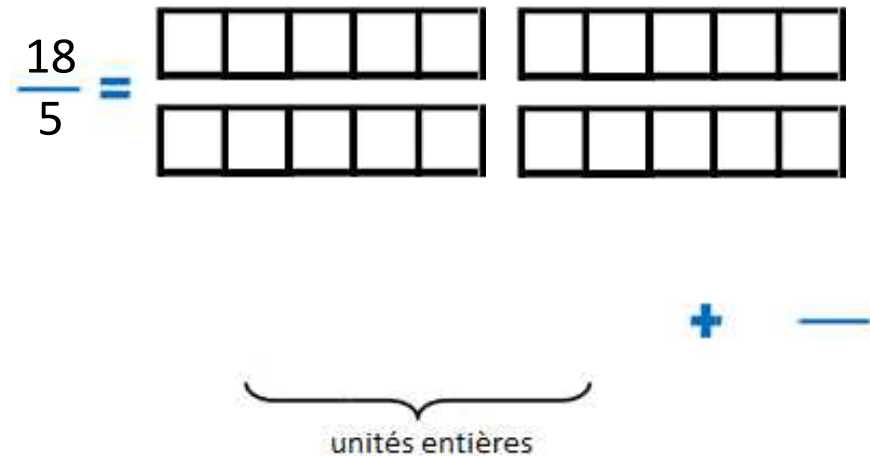
Dessine les fractions et écris la sous la forme d'un entier et d'une fraction <1

6



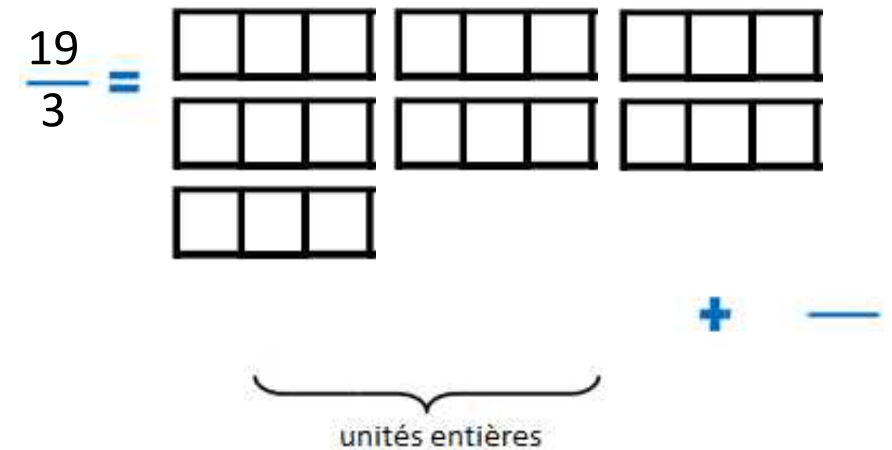
Dessine les fractions et écris la sous la forme d'un entier et d'une fraction <1

7



Dessine les fractions et écris la sous la forme d'un entier et d'une fraction <1


8



Dessine les fractions et écris la sous la forme d'un entier et d'une fraction <1

9

$$\frac{27}{7} =$$




+ -

unités entières

Dessine les fractions et écris la sous la forme d'un entier et d'une fraction <1

10

$$\frac{21}{9} =$$



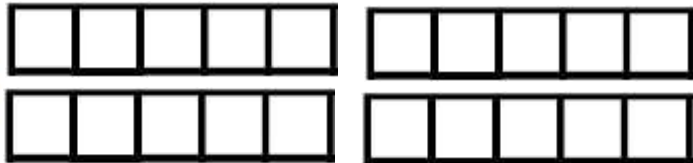
+ -

unités entières

Dessine les fractions et écris la sous la forme d'un entier et d'une fraction <1

11

$$\frac{19}{5} =$$



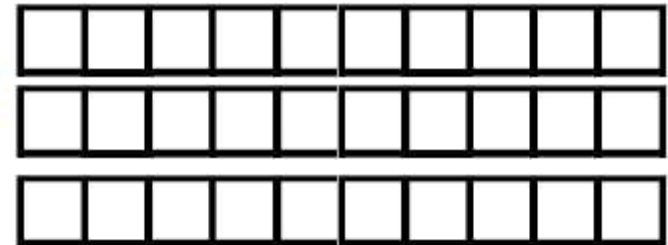
+ -

unités entières

Dessine les fractions et écris la sous la forme d'un entier et d'une fraction <1

12

$$\frac{28}{10} =$$




+ -

unités entières

Dessine les fractions et écris la sous la forme d'un entier et d'une fraction <1

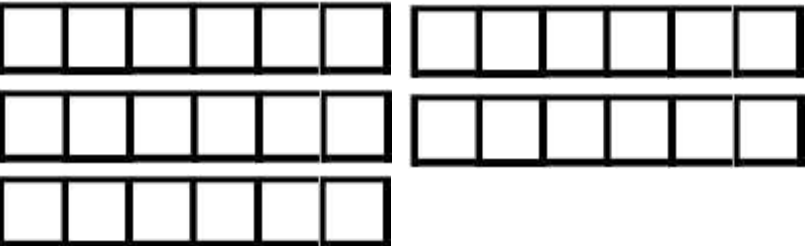
13

$$\frac{12}{7} =$$




Dessine les fractions et écris la sous la forme d'un entier et d'une fraction <1

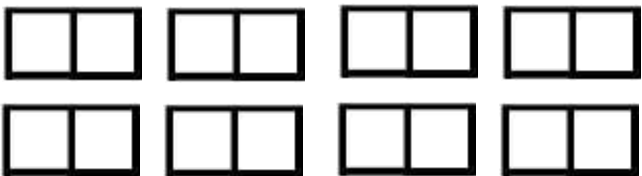
14

$$\frac{25}{6} =$$




Dessine les fractions et écris la sous la forme d'un entier et d'une fraction <1

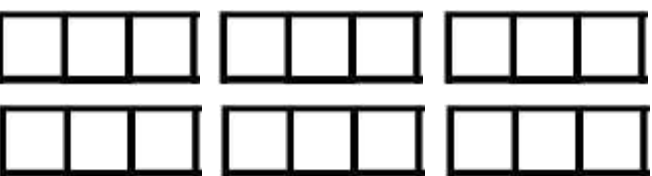
15

$$\frac{15}{2} =$$




Dessine les fractions et écris la sous la forme d'un entier et d'une fraction <1

16


$$\frac{17}{3} =$$




Dessine les fractions et écris la sous la forme d'un entier et d'une fraction <1

17

$$\frac{26}{8} =$$



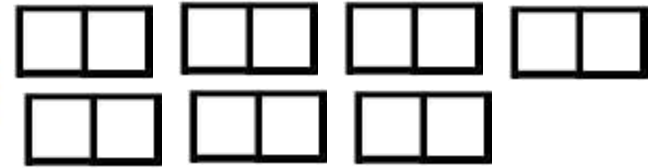
+ -

unités entières

Dessine les fractions et écris la sous la forme d'un entier et d'une fraction <1

18

$$\frac{13}{2} =$$



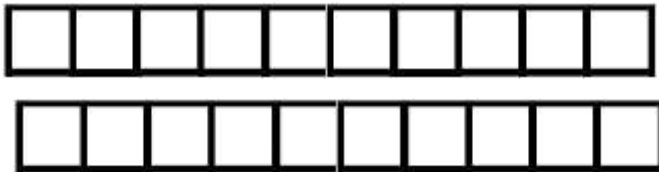
+ -

unités entières

Dessine les fractions et écris la sous la forme d'un entier et d'une fraction <1

19

$$\frac{18}{10} =$$



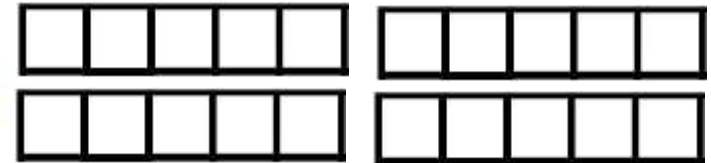
+ -

unités entières

Dessine les fractions et écris la sous la forme d'un entier et d'une fraction <1

20

$$\frac{16}{5} =$$



+ -

unités entières