

Je lis l'heure et je convertis les mesures de durées.

Exercices

Les mesures de durées

1 Écris les heures de ces horloges de deux manières différentes. (matin et après-midi).

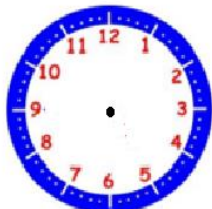


.....

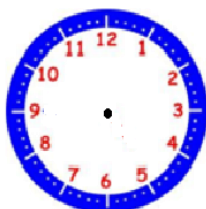
.....

.....

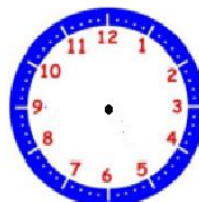
2 Dessine la grande aiguille en bleu et la petite aiguille en rouge en fonction de l'heure indiquée.



16 :25



11 :40



21 :50

3 Convertis en heures et minutes.

135 min = h min

108 min = h min

205 min = h min

320 min = h min

4 Convertis dans l'unité demandée (tu peux utiliser la calculatrice).

3 h 10 min = min

1 h 25 min = min

1 h 15 min 45 s = s

2 h 07 min =s

Je lis l'heure et je convertis les mesures de durées.

Correction

Les mesures de durées

① Écris les heures de ces horloges de deux manières différentes. (matin et après-midi).



16h45 / 4h45



15h50 / 3h50



18h35 / 6h35

② Dessine la grande aiguille en bleu et la petite aiguille en rouge en fonction de l'heure indiquée.



16 :25



11 :40



21 :50

③ Convertis en heures et minutes.

135 min = 2 h 15 min

108 min = 1 h 48 min

205 min = 3 h 25 min

320 min = 5 h 20 min

④ Convertis dans l'unité demandée (tu peux utiliser la calculatrice).

3 h 10 min = 190 min

1 h 25 min = 85 min

1 h 15 min 45 s = $(3600 + (15 \times 60) + 45) = 4545$ s

2 h 07 min = 7620 s