
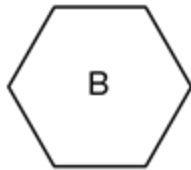


Le compas et quelques figures géométriques

Décrire un carré, un rectangle, un triangle rectangle

Utiliser le compas pour tracer des cercles

① Complète les phrases avec les lettres des figures.

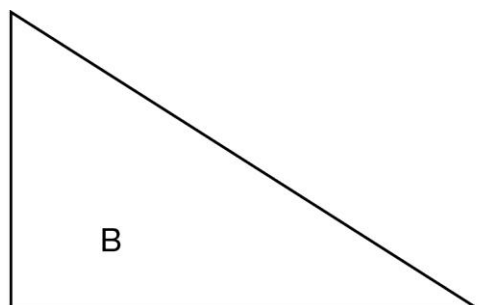
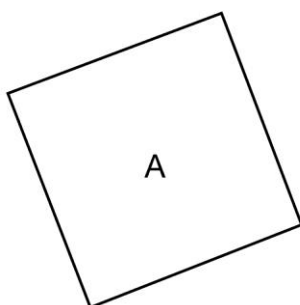


- Un seul de mes 3 angles est un angle droit. Je suis la figure :
- Mes 4 côtés ont la même longueur. Je suis la figure :
- J'ai 2 longueurs identiques et aussi 2 largeurs identiques. Je suis la figure :

② Complète.

Figure A : J'ai angles droits et 4 de même longueur. Je suis un

Figure B : J'ai un droit et côtés. Je suis un



③ Avec un compas, trace des cercles à partir des points.



x

x

x