

Prénom: _____

Mon programme: Signature des parentsBilan du plan de travail:

- Programme tenu
- Programme non tenu
- Programme dépassé

Commentaire: _____
_____**GRAMMAIRE**Réécris les phrases en remplaçant le groupe nominal souligné par un pronom.La pluie tombe sans arrêt; la pluie inonde les caves.Bastien et Marie se disputent; Bastien et Marie sont fâchés.**LECTURE**Relie ce qui va ensemble.

- | | | | |
|--------------|---|---|---------------|
| un pot | • | • | de savon |
| une raquette | • | • | de course |
| la descente | • | • | de muguet |
| une voiture | • | • | de dentifrice |
| les bulles | • | • | à la vanille |
| du fil | • | • | de tennis |
| un tube | • | • | de pin |
| un brin | • | • | de fer |
| une pomme | • | • | de lit |
| une glace | • | • | de yaourt |

VOCABULAIRE



Barre l'intrus:

1. rage – colère – hargne – fureur – jalousie
2. observer – jouer – s'amuser – se distraire
3. aimer – adorer – apprécier – émettre

GRAMMAIRE



Donne le participe passé de ces verbes.

copier: _____ guetter: _____ remuer: _____
glisser: _____ effrayer: _____ noircir: _____
bâtir: _____ obéir: _____ vieillir: _____
guérir: _____ perdre: _____ dormir: _____
défendre: _____ tordre: _____ sortir: _____

CALCUL

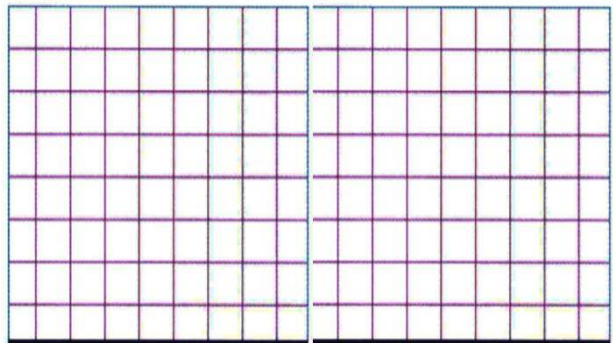


Les parents de Boris doivent faire attention de partir à l'heure pour aller travailler.

Sa maman prend les transports en commun. Voici son trajet: Elle part de chez elle à 8h05. Elle marche 10 min pour aller à la gare. Elle attend son train pendant 5 min. Le voyage en train dure 15 min. Elle passe 20 min dans le métro. Elle marche enfin 5 min jusqu'à son bureau.

Quelle est la durée totale de son trajet en minute?

À quelle heure arrive-t-elle à son bureau?



LOGIQUE



Retrouve le nombre d'animaux de la ferme.

Il y a 10 vaches de plus que de moutons.

Il y a plus de chèvres que de vaches.

Il y a moins de chevaux que de cochons.

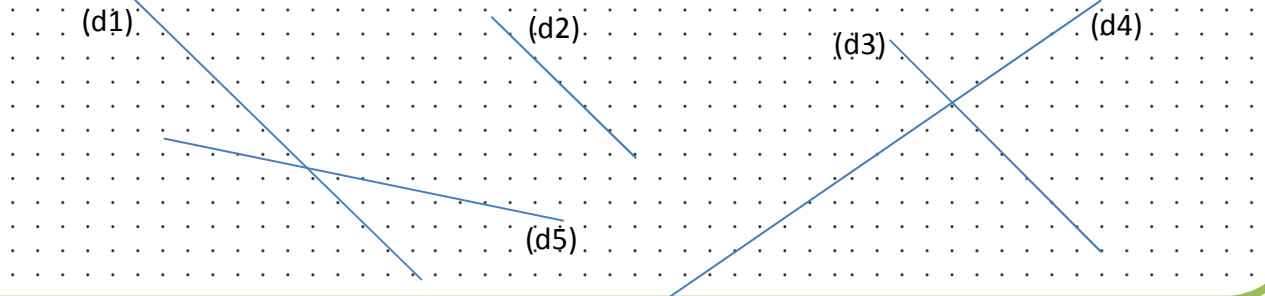
Il y a chevaux, moutons,
..... chèvres, cochons,
..... vaches.

	3	6	8	13	15
Chevaux					
Moutons					
Chèvres					
cochons					
vaches					

GEOMETRIE



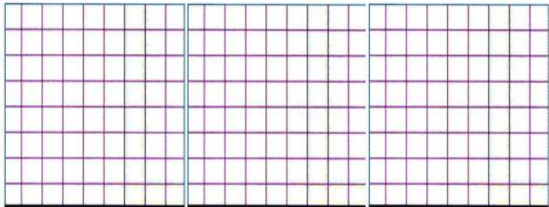
Quelles droites sont parallèles à la droite (d1)?



PROBLEME



L'entreprise de pisciculture a deux bassins pour l'élevage de truites. Il y a deux-mille-cinq-cent-neuf truites dans le 1^{er} bassin et 1 532 dans le 2nd bassin. Combien y a-t-il de truites au total?



FRANCAIS



Fais la fiche de Topscore ... deet inscris ton score sur ta fiche de suivi.

MATHEMATIQUES



Fais la fiche de Topscore ... deet inscris ton score sur ta fiche de suivi.

CALCUL



Tu peux aller sur l'ordinateur faire un exercice de Abacalc

LECTURE



Tu peux prendre un livre dans le carton.