

Ce fichier appartient à :



Fichier de travail
en autonomie n°5

Commencé le : _____

Terminé le : _____

Soin : 😊 😐 😞


Réussite : 😊 😐 😞

Bilan :

Fiches	soin	réussite
1	😊 😐 😞	😊 😐 😞
2	😊 😐 😞	😊 😐 😞
3	😊 😐 😞	😊 😐 😞
4	😊 😐 😞	😊 😐 😞
5	😊 😐 😞	😊 😐 😞
6	😊 😐 😞	😊 😐 😞
7	😊 😐 😞	😊 😐 😞
8	😊 😐 😞	😊 😐 😞
9	😊 😐 😞	😊 😐 😞
10	😊 😐 😞	😊 😐 😞

Fiche n° 1 : Points à relier

Relie les points de 2 à 100 en comptant de 2 en 2.




Fiche n° 2 : Lis et dessine

Lis ce texte puis dessine les différents éléments de l'histoire.

La sorcière tordue :


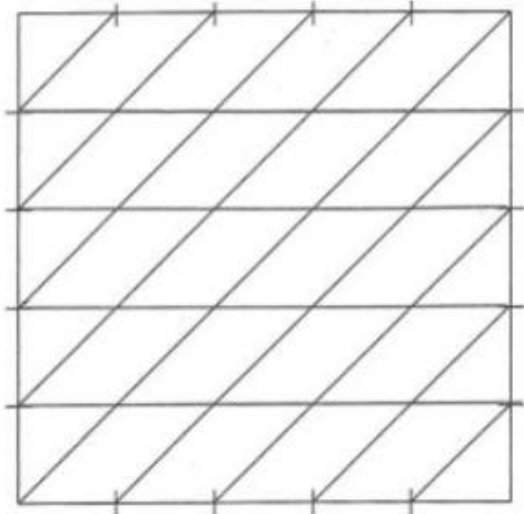
La sorcière tordue habite une grande maison grise au milieu d'une forêt.

Il y a quatre fenêtres. On peut aussi apercevoir une grande porte sur laquelle on peut lire le numéro 8. Dans le jardin il y a trois rochers, un vieux râteau et une petite fleur jaune.



Fiche n°3 : Tracé à la règle


Reproduis le dessin.



Fichier 5 Soin : 😊 😐 😞 Réussite : 😊 😐 😞

Fiche n°4 : Les 7 différences

Trouve les 7 différences et entoure-les sur le 2^{ème} dessin. Ensuite colorie le 1^{er} dessin.



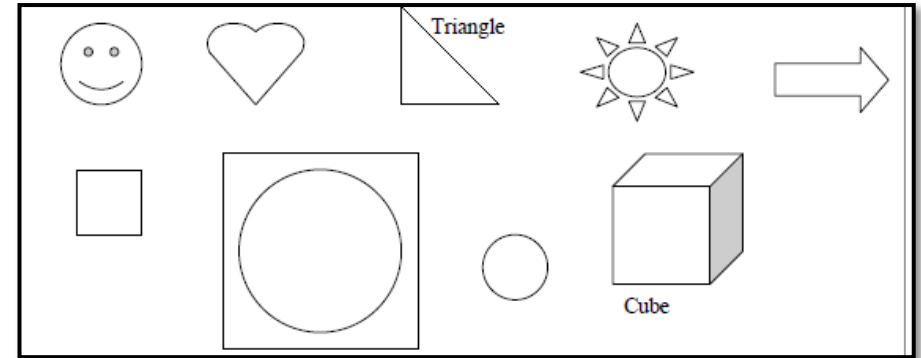
Fichier 5 Soin : 😊 😐 😞 Réussite : 😊 😐 😞

Fiche n° 7 : Lecture

Lis les phrases puis colorie la bonne réponse.

1. Minou est assis dehors, devant la porte. Il miaule.
 - Le chat veut rentrer.
 - Le chat vit à la campagne.
 - Le chat veut sortir.
2. Le ciel est dégagé, Marc rentre chez lui. Ses chaussures sont mouillées.
 - Dehors il pleut.
 - Marc a marché dans une flaque d'eau.
 - Marc est pied nu.
3. Pierre et Paul se préparent pour aller au cinéma. Avant de sortir ils regardent par la fenêtre et mettent leurs imperméables.
 - Pierre va au cinéma
 - Dehors il pleut.
 - Pierre et Paul attendent le voisin.

Fiche n°8 : Je lis je fais



1. Je colorie le cercle qui est dans le carré.
2. Je colorie la flèche en vert.
3. Je barre le triangle.
4. J'écris « C » dans le cube.
5. Je trace un trait bleu du cube à la flèche ?
6. Je trace un cercle autour du petit carré

Fiche n°9 : Le compte est bon

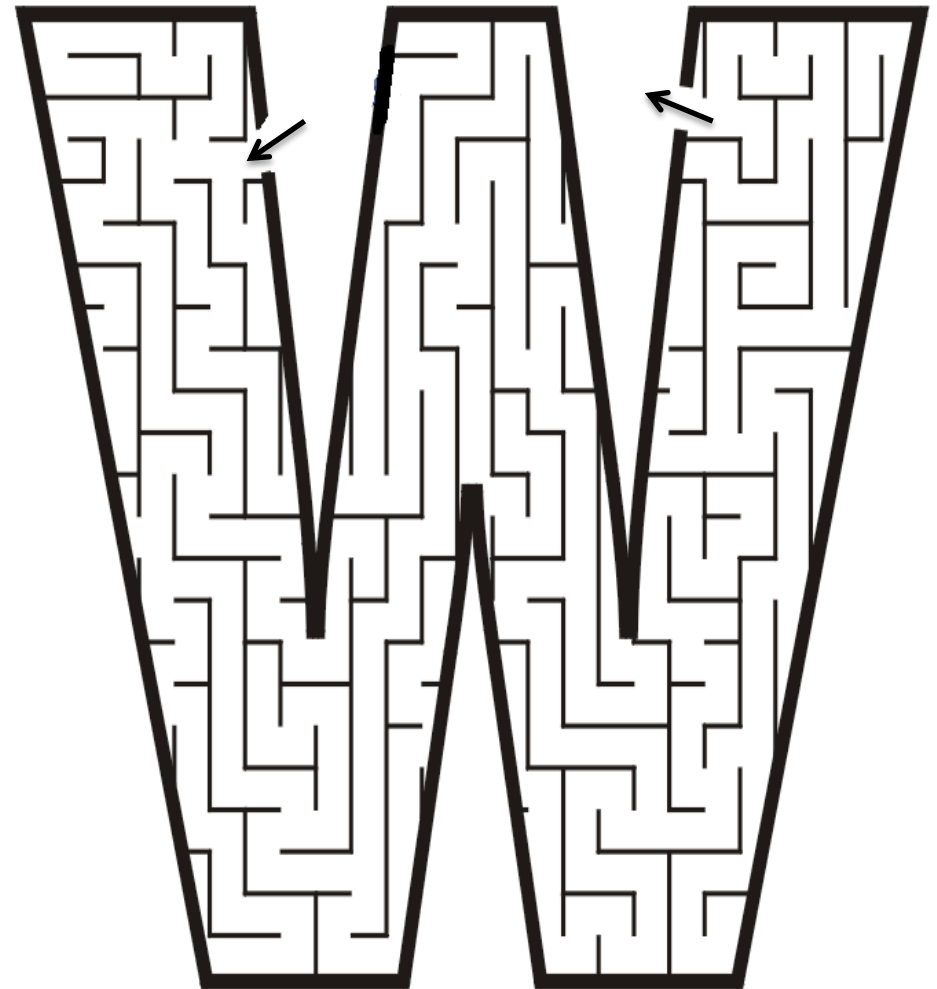
En utilisant les opérations autorisées (+ et -), trouve le bon résultat en effectuant des opérations avec les nombres donnés. Tu n'es pas obligé de tous les utiliser, mais tu ne peux les utiliser qu'une seule fois (tu peux les barrer une fois utilisés).

+ - 22 4 - 10 - 10 - 5 - 7	+ - 20 5 - 7 - 10 - 2 - 8
---	--

+ - 28 10 - 25 - 5 - 2 - 1	+ - 25 8 - 10 - 7 - 5 - 10
---	---

Fichier 5 Soin : 😊 😐 😞 Réussite : 😊 😐 😞

Fiche n°10 : Laby lettre



Fichier 5 Soin : 😊 😐 😞 Réussite : 😊 😐 😞