

Prénom : _____

EVALUATION MATHÉMATIQUES CP n°3 : calcul, numération, mesures

1. Calcule :

Compétence	Je m'évalue	Evaluation de l'enseignante
Calculer en lignes des sommes (résultats jusqu'à 20)		

$5 + 7 = \underline{\quad\quad}$ $6 + 5 = \underline{\quad\quad}$ $6 + 9 = \underline{\quad\quad}$

$7 + 9 = \underline{\quad\quad}$ $8 + 5 = \underline{\quad\quad}$ $4 + 8 = \underline{\quad\quad}$

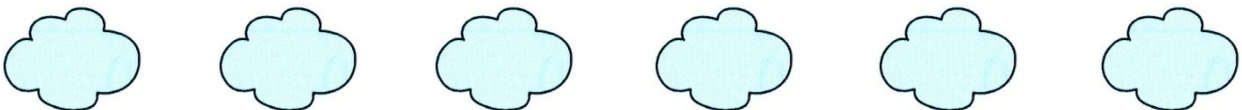
2. Calcule :

Compétence	Je m'évalue	Evaluation de l'enseignante
Calculer en lignes de différences (résultats jusqu'à 10)		

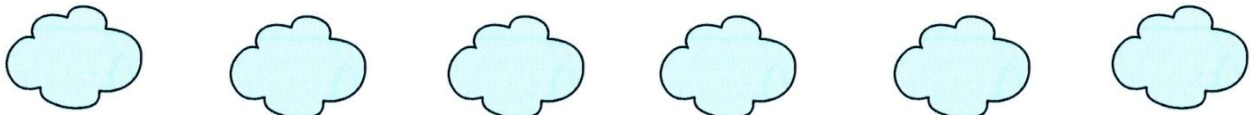
$10 - 3 = \underline{\quad\quad}$ $9 - 7 = \underline{\quad\quad}$ $7 - 6 = \underline{\quad\quad}$

$9 - 5 = \underline{\quad\quad}$ $5 - 3 = \underline{\quad\quad}$ $9 - 6 = \underline{\quad\quad}$

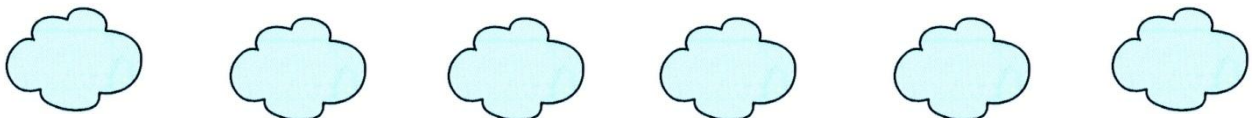
Compétence	Je m'évalue	Evaluation de l'enseignante
Connaître les doubles des nombres inférieurs à 10		



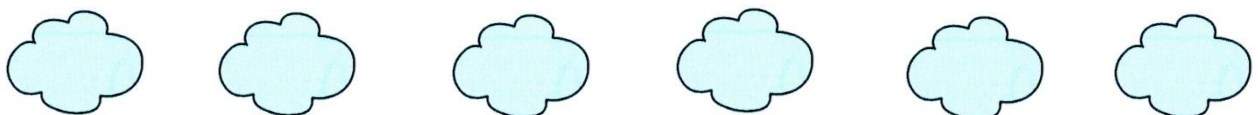
Compétence	Je m'évalue	Evaluation de l'enseignante
Connaître les moitiés des nombres pairs inférieurs à 20		



Compétence	Je m'évalue	Evaluation de l'enseignante
Calculer mentalement des sommes		



Compétence	Je m'évalue	Evaluation de l'enseignante
Calculer mentalement des différences		



Prénom : _____

Compétence	Je m'évalue	Evaluation de l'enseignante
Savoir écrire et nommer les nombres jusqu'à 69		

3. Ecris les nombres dictés :



4. Lis les nombres suivants à la maîtresse :

36 42 59 30 68 46 15

Compétence	Je m'évalue	Evaluation de l'enseignante
Ranger, comparer et encadrer des nombres jusqu'à 69		

5. Range ces nombres du plus petit au plus grand.

19 32 55 46 13 27

6. Ecris le nombre qui vient avant et celui qui vient après

	64	
	21	
	50	
	37	
	43	
	68	

Prénom : _____

7. Continue.


Compétence	Je m'évalue	Evaluation de l'enseignante
Ecrire une suite de nombres dans l'ordre croissant ou décroissant.		

25 – 26 – 27 - - - - - - -

44 – 43 – 42 - - - - - - -

8. Dessine avec le moins de billets et le moins de pièces possible.

Compétence	Je m'évalue	Evaluation de l'enseignante
Connaître et utiliser les euros.		



Compétence	Je m'évalue	Evaluation de l'enseignante
Résoudre des problèmes simples à une opération.		

Claire a acheté un disque à 16 € et un jeu vidéo à 18 €.

Combien a-t-elle payé en tout ?

Claire a payé _____ euros.