
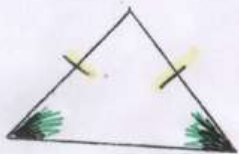


Geométrie : Connaître les propriétés
des triangles CE2




Ce triangle est
rectangle

-> Il a un angle
droit



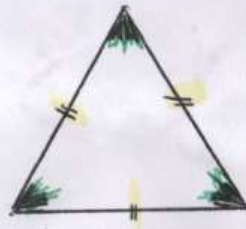
Ce triangle est
isocèle

-> Il a 2 côtés égaux
-> Il a 2 angles égaux



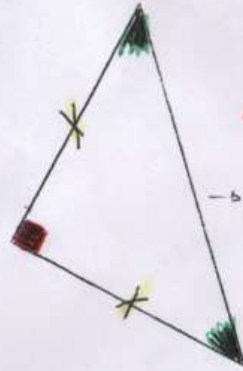
Ce triangle est

quelconque
-> Il n'a rien de particulier



C'est un triangle
équilatéral

-> Il a 3 côtés égaux
-> Il a 3 angles égaux



C'est un triangle
rectangle isocèle

-> Il a un angle droit

-> Il a 2 côtés
égaux

-> Il a 2 angles égaux