


M 01

Comment faire pour comparer des longueurs ?



Pour comparer la longueur de deux bandes, je peux utiliser une troisième bande.



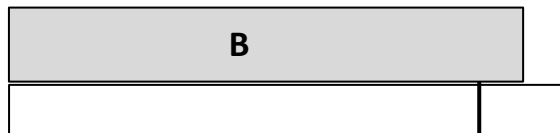
Comment savoir quelle est la bande la plus longue ?



Utilise une bande de papier pour mesurer la longueur de la bande **A**



Fais un trait.



La bande **B** est plus courte que de la bande **A**





M 01

Comment faire pour comparer des longueurs ?



Pour comparer la longueur de deux bandes, je peux utiliser une troisième bande.



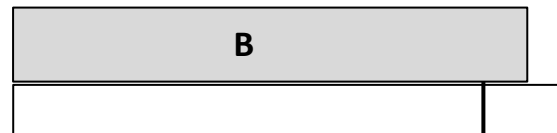
Comment savoir quelle est la bande la plus longue ?



Utilise une bande de papier pour mesurer la longueur de la bande **A**



Fais un trait.



La bande **B** est plus courte que de la bande **A**

