

NUMERATION – 8 -

1- Dictée de nombres :

1	2	3	4	5	6	7	8	9	10
.....

2- Complète le tableau suivant :

En lettres...	En chiffres...
deux cent soixante-treize	273
quatre cent trente-cinq
.....	476
.....	297
trois cent quatre-vingt quatorze
.....	487
cent vingt-six
deux cent douze
.....	308
Quatre cent quatre-vingt quinze

3- Range dans l'ordre croissant :

3 24 – 340 – 342 – 302 - 304 – 320 – 344 – 322

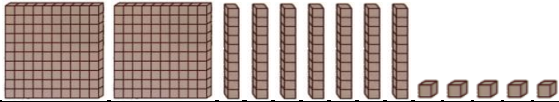
.....
-------	-------	-------	-------	-------	-------	-------	-------


4- Range dans l'ordre décroissant :


405 – 485 – 425 – 415 – 435 – 495 – 435 - 465

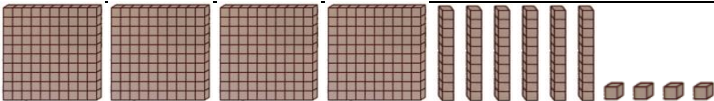
.....
-------	-------	-------	-------	-------	-------	-------	-------

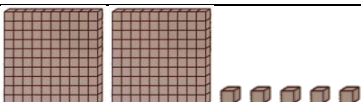
5- Complète en suivant l'exemple :

			
$200 + 70 + 5$	C	D	U
275	2	7	5
deux cent soixante-quinze			

			
..... + +	C	D	U
.....
.....			

			
..... + +	C	D	U
.....
.....			

			
..... + +	C	D	U
.....
.....			

			
..... + +	C	D	U
.....
.....			