

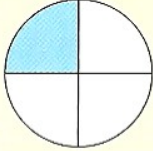
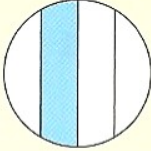
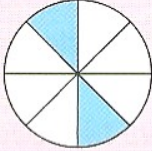
le
rappelles-
tu ?

QCM

ÉVALUATION DIAGNOSTIQUE



Pour chaque question, trouve la ou les bonne(s) réponse(s) parmi celles proposées.

	A	B	C
1 380 est divisible par :	2	5	10
2 Un multiple de 2 et de 5 est :	452	550	1 000
3 On a colorié le quart de la surface de la figure :			
4 La fraction trois quarts s'écrit :	3,4	$\frac{3}{4}$	$\frac{4}{3}$
5 La fraction $\frac{7}{8}$ se lit :	sept huitièmes	huit septièmes	sept sur huit
6 La fraction $\frac{13}{4}$ est comprise entre :	0 et 1	3 et 4	13 et 14
7 $\frac{25}{3}$ est égale à :	$6 + \frac{1}{3}$	$7 + \frac{4}{3}$	$8 + \frac{1}{3}$
8 Une fraction plus grande que 1 est :	$\frac{3}{2}$	$\frac{5}{6}$	$\frac{7}{4}$