

Ton prénom : _____

1 Ecris les nombres dictés.

● ■ ★ ☾ ♥ ▲

2 Ecris le résultat de chaque calcul dicté.

● ■ ★ ☾ ♥ ▲

3 Calcule. Utilise la méthode de ton choix.

$25 + 62$

$36 + 48$

$24 + 67$

Dans cet album, il y a 25 photos :
6 photos de Zoé et des photos de Gribouille.



4 Ecris combien il y a de photos de Gribouille dans l'album.

Il y a photos de Gribouille dans l'album.


5 Complète

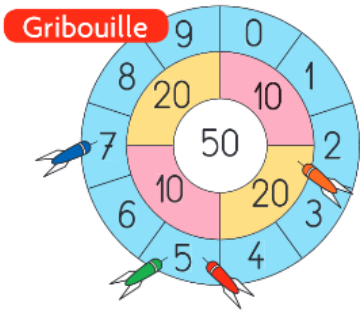


Il est

Il est

Il est

6  Arthur, Zoé et Gribouille jouent aux fléchettes. Ils lancent chacun 4 flèches.
Qui a marqué le plus de points ?



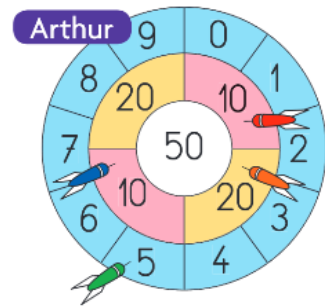
Gribouille

marque points



Zoé

marque points



Arthur

marque points

→ C'est qui a marqué le plus de points.

7  Complète avec < ou > ou =

$20 + 20 + 10 + 9 + 2$ $20 + 10 + 20 + 10 + 6$

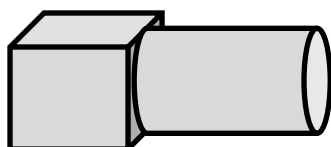

$50 + 9$ $20 + 10 + 20 + 9$

$30 + 10 + 4 + 5$ $20 + 20 + 8$



8 Observe l'assemblage que tu as devant toi. Il est fait de deux solides.

Réalise un message en faisant **un dessin** pour qu'Arthur puisse construire le même assemblage.



Ecris un message avec des mots de la liste pour que Zoé puisse construire le même assemblage.

- cube
- cône
- cylindre
- face
- carré
- rectangle
- triangle

Le solide de gauche :

.....

Le solide de droite :

.....
