

Prénom :

Contrôle de géographie n°2	Les régions françaises	Ce2
----------------------------	------------------------	-----

Compétences et connaissances évaluées	A	AR	EcA	NA
Lire un tableau et en extraire des informations précises				
Repérer quelques régions sur la carte de France				
Caractériser la région Centre				

1. Réponds aux questions en t'aidant du tableau.

Quelle est la région la plus étendue ?

.....

Quelle est la région la moins étendue ?

.....

Quelle est la région la plus peuplée ?

.....

Quelle est la région la moins peuplée ?

.....

Combien de départements y a-t-il :

en région Centre ? en Ile-

de-France ? en Haute-

Normandie ?

Régions	Nbr de départem ^t	superficie en km ²	population
Alsace	2	8 280	1 734 000
Aquitaine	5	41 308	2 908 000
Auvergne	4	26 013	1 308 000
Basse-Normandie	3	17 589	1 422 000
Bourgogne	4	31 582	1 610 000
Bretagne	4	27 208	2 906 000
Centre	6	39 151	2 440 000
Champagne-Ardenne	4	25 606	1 342 000
Corse	2	8 680	260 000
Franche-Comté	4	16 202	1 117 000
Haute-Normandie	2	12 317	1 780 000
Ile-de-France	8	12 012	10 952 000
Languedoc-Roussillon	5	27 376	2 295 000
Limousin	3	16 942	710 000
Lorraine	4	23 547	2 310 000
Midi-Pyrénées	8	45 348	2 551 000
Nord-Pas-de-Calais	2	12 414	3 996 000
Pays de la Loire	5	32 082	3 222 000
Picardie	3	19 399	1 857 000
Poitou-Charentes	4	25 810	1 640 000
Provence Alpes Côte d'Azur	6	31 400	4 506 000
Rhône-Alpes	8	43 698	5 645 000

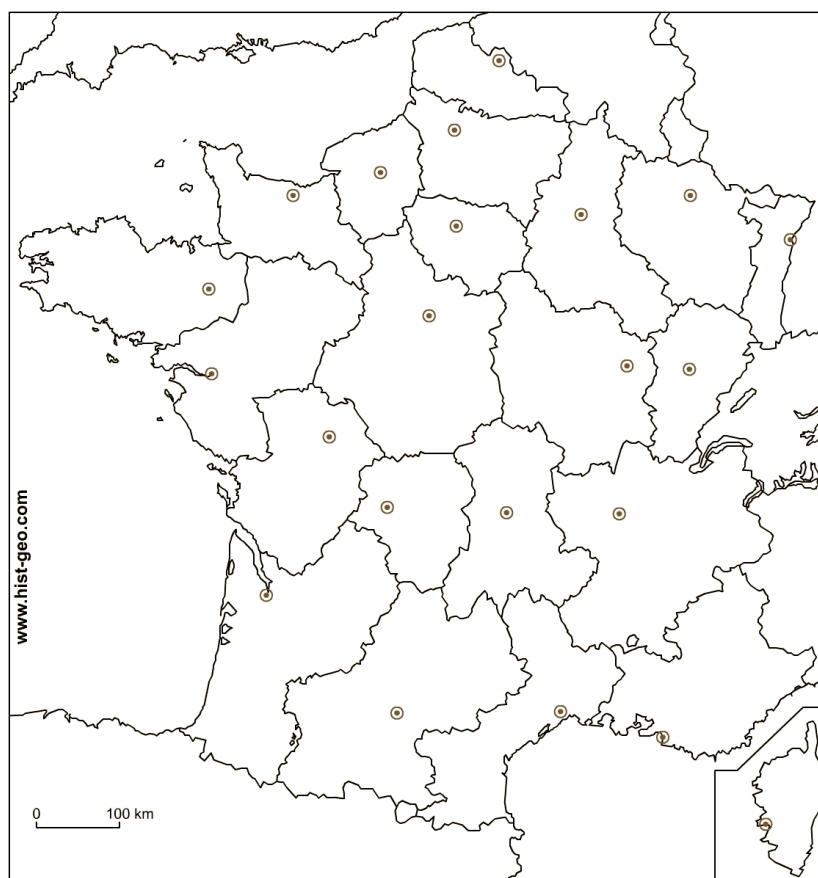
2. Sur la carte de France :

Colorie la région Centre en vert.

Colorie en rouge l'Ile-de-France.

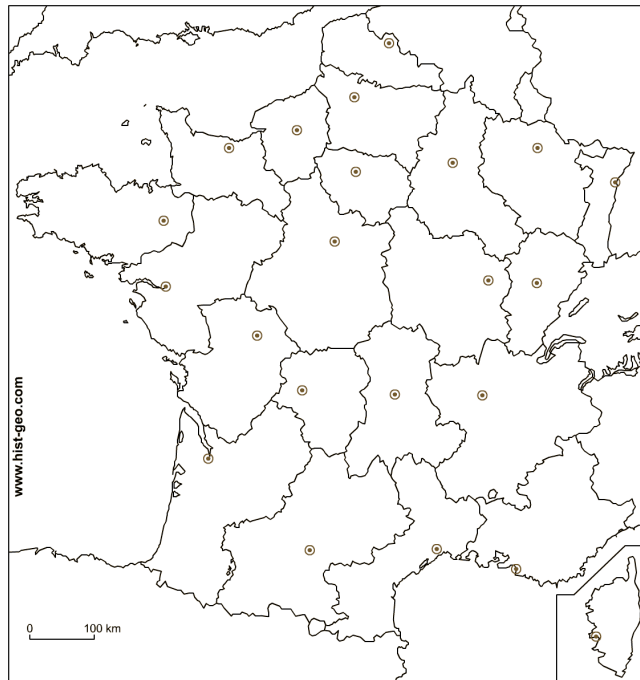
Ecris le nom de la Préfecture de la région Centre (point sur la carte).

Ecris les noms de 5 autres régions que tu connais.

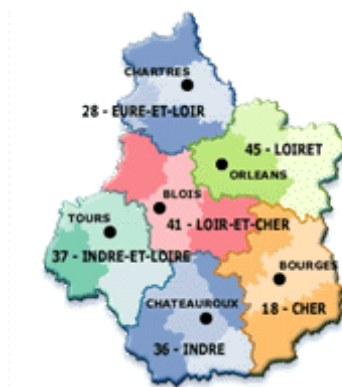


Préparation de l'évaluation sur les régions :

- 1) Je sais lire les informations données par le tableau des régions ;
- 2) Je sais repérer sur la carte vierge
 - la région Centre
 - la ville d'Orléans
 - Paris et donc la région Ile-de-France
- 3) Je sais placer sur la carte quelques régions (s'aider de la dernière carte de l'Atlas) ;



- 4) Je connais les noms de quelques départements et villes de la région Centre ;



- 5) J'ai retenu quelques particularités de la région Centre (fiche « promenade en région Centre »).