



G 04

Reconnaître les figures géométriques




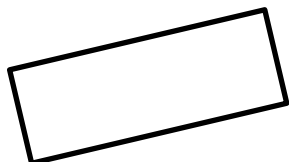
Le carré

4 angles
4 côtés de même longueur.




Le rectangle

4 angles
4 côtés qui ne sont pas de la même longueur :
2 petits et 2 grands



Le triangle

Il a 3 angles et 3 côtés.



Je m'entraîne (avec l'aide d'un adulte)

pour savoir reconnaître quelques formes géométriques et comprendre qu'un nom correspond à une classe de formes.

- Classer les formes découpées du fichier : carrés, rectangles, triangles, autres.
- Expliquer son classement (nombre de côtés, longueur des côtés).


G 04

Reconnaître les figures géométriques



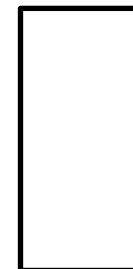
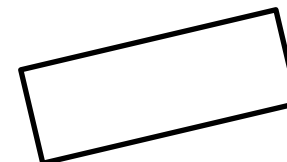
Le carré

4 angles
4 côtés de même longueur.



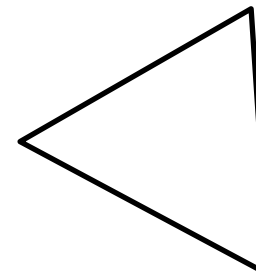
Le rectangle

4 angles
4 côtés qui ne sont pas de la même longueur :
2 petits et 2 grands



Le triangle

Il a 3 angles et 3 côtés.



Je m'entraîne (avec l'aide d'un adulte)

pour savoir reconnaître quelques formes géométriques et comprendre qu'un nom correspond à une classe de formes.

- Classer les formes découpées du fichier : carrés, rectangles, triangles, autres.
- Expliquer son classement (nombre de côtés, longueur des côtés).