



## Reconnaître, décrire et

JE  
T'EXPLIQUE.

## nommer un carré, un rectangle, un losange

- Les **figures dont tous les côtés sont droits** s'appellent des **polygones**.



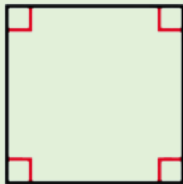
Cette figure est  
un polygone.



Cette figure n'est  
pas un polygone.


- Les polygones qui ont **4 côtés** s'appellent des **quadrilatères**. Parmi eux se trouvent le **carré**, le **rectangle** et le **losange**.

Le carré



- 4 sommets
- 4 côtés égaux
- 4 angles droits

Le rectangle



- 4 sommets
- 4 côtés : 2 largeurs égales  
et 2 longueurs égales
- 4 angles droits

Le losange

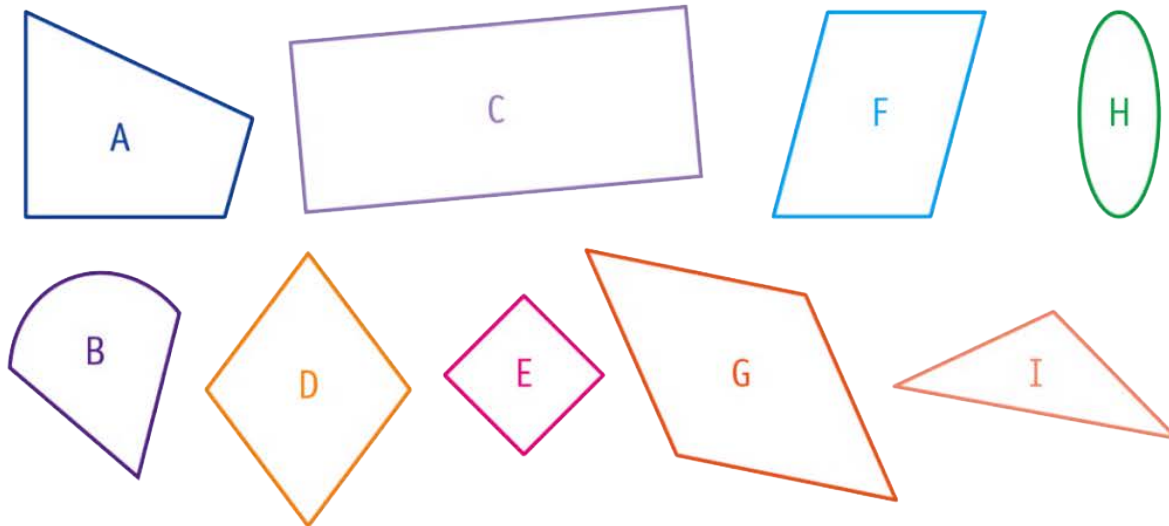


- 4 sommets
- 4 côtés égaux

- On nomme une figure par ses sommets. Ex. : le rectangle ABCD.



Observe ces figures, puis complète le tableau.



	Figures
Polygone	
Carré	
Rectangle	
Losange	