


Consigne : Mesure les segments suivants avec ta règle, et écris leur longueur dans le tableau :

Segment	Longueur (cm)
[AB]	
[BC]	
[DC]	
[AD]	

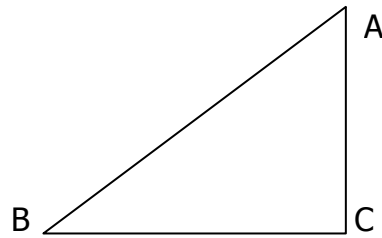
<http://alecoledesglobetrotteuses.eklablog.com>



Consigne : Mesure les segments suivants avec ta règle, et écris leur longueur dans le tableau :

Segment	Longueur (cm)
[AB]	
[BC]	
[AC]	

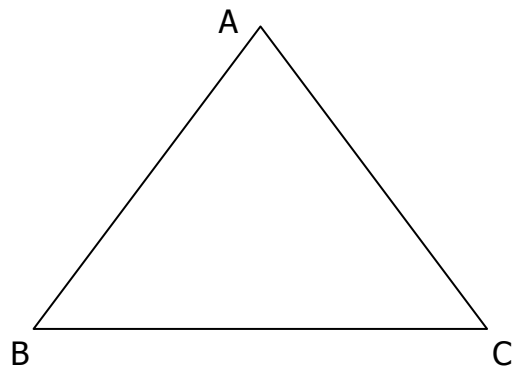
<http://alecoledesglobetrotteuses.eklablog.com>



Consigne : Mesure les segments suivants avec ta règle, et écris leur longueur dans le tableau :

Segment	Longueur (cm)
[AB]	
[BC]	
[AC]	

<http://alecoledesglobetrotteuses.eklablog.com>



Consigne : Mesure les segments suivants avec ta règle, et écris leur longueur dans le tableau :

Segment	Longueur (cm)
[AB]	
[BC]	
[DC]	
[AD]	

<http://alecoledesglobetrotteuses.eklablog.com>

