



DIRECTION GÉNÉRALE DE L'ENSEIGNEMENT SCOLAIRE

# ÉVALUATION NATIONALE DES ACQUIS DES ÉLÈVES EN CE1

FRANÇAIS  
MATHÉMATIQUES

---

Mai 2012

---

*Cahier de l'élève*

Nom de l'élève : .....

Prénom de l'élève : .....

École : .....

## **Épreuves de français de la page 2 à la page 15**

**Séquence 1 : Exercices 1 à 4**

**Séquence 2 : Exercices 5 à 10**

**Séquence 3 : Exercices 11 à 17**

**Séquence 4 : Exercices 18 à 21**

**Hors-séquence : Exercice 22**

## **Épreuves de mathématiques de la page 17 à la page 26**

**Séquence 1 : Exercices 1 à 9**

**Séquence 2 : Exercices 10 à 14**

**Séquence 3 : Exercices 15 à 20**

**Séquence 4 : Exercices 21 à 27**

# FRANÇAIS

## SÉQUENCE 1

### Exercice 1

😊 Recopie le nom du mois qui est écrit au tableau.

1  
1  
3  
9  
0

😊 Souligne les mots dans lesquels tu vois un « d ».

poire - incendie - dessin - arriver - pipe - déjeuner - poule - film - papier - loup

2  
1  
3  
4  
9  
0

😊 Entoure le nom d'un animal qui vole.

chameau - girafe - papillon - crocodile - corbeau - pie - vache

3  
1  
3  
4  
9  
0

😊 Relie chaque nom d'animal avec le nom de son petit.

mouton ■

■ poussin

coq ■

■ agneau

cheval ■

■ poulain

4  
1  
3  
4  
9  
0

### Exercice 2

😊 Entoure le mot que tu entends.

plongon	corbeuil
plongeon	cobeille
ponglon	corbeille
blongeon	crobeille

5  
1  
9  
0

## Exercice 3

Li Chang et Li Chong

Là-bas, très loin, dans une montagne, près de la Chine, vit un pauvre homme qui s'appelle Li Chang. Il gagne sa vie en coupant du bois. C'est un travailleur infatigable.

Un jour qu'il coupe un arbre, sa hache lui échappe des mains et s'en va tomber dans l'étang tout proche. Li Chang ne peut la retrouver. Il est désolé et trop pauvre pour acheter une nouvelle hache. Comment va-t-il faire pour gagner sa vie ?

Pendant qu'il se lamente, un épais brouillard se met à recouvrir l'étang et un vieil homme à la barbe blanche apparaît :

- Pourquoi pleures-tu, bûcheron ? demande-t-il.

Li Chang raconte sa mésaventure. L'homme à la barbe lui dit :

- Je vais essayer de retrouver ta hache, et il disparaît dans le brouillard.

Au bout d'un moment, il réapparaît en tenant à la main une belle hache d'or :

- Est-ce là ta hache, bûcheron ?

Li Chang répond, déçu :

- Non, ce n'est pas la mienne.

L'homme à la barbe blanche disparaît à nouveau et réapparaît bientôt en tenant à la main cette fois, une hache d'argent :

- Est-ce là ta hache, bûcheron ?

Li Chang répond, déçu encore une fois :

- Non, ce n'est pas ma hache. Ma hache est une hache ordinaire avec un manche en bois et un tranchant en acier.

L'homme à la barbe blanche disparaît une troisième fois et réapparaît bientôt en tenant à la main une hache d'acier.

- Voilà, voilà, c'est ma hache ! crie Li Chang tout heureux, c'est la bonne hache que j'avais perdue.

Il en pleure de joie.

- Tu es vraiment un homme bon et honnête, lui dit l'homme à la barbe blanche. Je veux te faire un cadeau. Voici la hache d'or et la hache d'argent que tu as refusées tout à l'heure : je te les donne.

Le pauvre Li Chang n'en croit pas ses yeux. Il veut remercier celui qui lui offre de si beaux cadeaux mais l'homme à la barbe blanche a déjà disparu.

*D'après un conte coréen, adaptation de Georges Rémond*

😊 Réponds aux questions.

1) Quel est le métier de Li Chang ?

\_\_\_\_\_

6  
1  
9  
0

2) Que voit apparaître Li Chang près de l'étang ?

\_\_\_\_\_

7  
1  
3  
9  
0

3) Où vit Li Chang ?

\_\_\_\_\_

8  
1  
9  
0

4) Comment l'homme à la barbe blanche récompense-t-il l'honnêteté de Li Chang ?

\_\_\_\_\_

9  
1  
3  
9  
0

5) Que signifie la phrase : « Le pauvre Li Chang n'en croit pas ses yeux. » ?

Coche la bonne réponse.

Li Chang est effrayé.

Li Chang est étonné.

Li Chang est affamé.

Li Chang est aveugle.

10  
1  
9  
0

## Exercice 4

😊 Voici des mots placés dans l'ordre alphabétique.

Écris le mot « souris » dans la case qui convient.

coin		malade		point		tapis		valise
------	--	--------	--	-------	--	-------	--	--------

11  
1  
9  
0

**FIN DE LA SÉQUENCE 1**

## **Exercice 5**

Peu de temps après, Li Chang vend au marché sa hache d'or et sa hache d'argent ; il en tire beaucoup d'argent et peut vivre heureux jusqu'à la fin de ses jours.

A côté de sa maison habite un homme riche et envieux : il s'appelle Li Chong. Quand il apprend comment Li Chang a gagné beaucoup d'argent, il se déguise aussitôt en bûcheron. Il prend une hache et s'en va couper du bois au bord de l'étang. Là, il fait tomber, exprès, sa hache dans l'eau et se met à pleurer aussi fort qu'il peut.

Bientôt, l'homme à la barbe blanche apparaît et lui demande la raison de ses pleurs.

- Ma bonne hache est tombée à l'eau, dit-il en pleurant, elle seule m'aidait à gagner un peu d'argent et à ne pas mourir de faim.

L'homme à la barbe blanche disparaît aussitôt dans l'étang et revient portant deux belles haches, l'une d'or, l'autre d'argent :

- Laquelle de ces deux haches est à toi ? demande-t-il à Li Chong.

Li Chong est trop envieux pour choisir une hache et laisser l'autre. Il s'écrie tout heureux :

- Les deux, les deux sont à moi ! Celle-là, je l'ai perdue aujourd'hui, l'autre, je l'avais perdue l'hiver dernier. Oui, oui, je les reconnais bien. Ah ! Tu es un homme merveilleux.

Il prend les deux haches et se sauve en courant sans même prendre le temps de dire merci. Il est tellement heureux qu'il donne un grand coup de hache d'or dans un arbre... mais la hache se casse aussitôt en mille morceaux, comme du verre. De rage, il prend la hache d'argent et veut en frapper l'arbre d'un grand coup. L'arbre, cette fois, est coupé net et lui tombe sur la tête.

Depuis ce temps-là, Li Chong a une grosse bosse sur le front et tout le monde se moque de lui.

*D'après un conte coréen, adaptation de Georges Rémond*

☺ Réponds aux questions.

1) Pourquoi Li Chang peut-il vivre heureux jusqu'à la fin de ses jours ?

---

---

12  
1  
9  
0

2) Pourquoi tout le monde se moque de Li Chong ?

---

---

13  
1  
3  
9  
0

3) Quel est le mensonge de Li Chong ?

---

---

14  
1  
9  
0

4) Que se passe-t-il quand Li Chong utilise la hache d'or ?

---

---

15  
1  
3  
9  
0

### Exercice 6

☺ Range les mots soulignés dans les colonnes ci-dessous.

Les élèves demandent un jeu.

La gentille animatrice leur donne un ballon.

Ils jouent ensemble dans la cour.

16  
1  
3  
9  
0

Noms

Articles

Verbes

17  
1  
3  
9  
0

18  
1  
3  
9  
0

### Exercice 7

☺ Écris les phrases que je vais te dicter.

---

---

---

---

---

19  
1  
4  
9  
0

20  
1  
4  
9  
0

21  
1  
4  
9  
0

22  
1  
4  
9  
0

## Exercice 8

☺ Lis bien le contenu de ce tableau et complète-le en trouvant les mots qui manquent.

Mot	Mot de sens opposé
Ce matin, il faisait <u>froid</u> . Le soleil est apparu.	Maintenant, il fait _____ .
Le linge était <u>sec</u> . Il a plu.	Maintenant, le linge est _____ .
La chambre était en <u>ordre</u> . J'ai joué.	Maintenant, elle est en _____ .
Le soleil se lève, il fait <u>jour</u> . En fin de journée, il se couche.	Maintenant, il fait _____ .

23

1  
3  
9  
0

24

1  
3  
9  
0

## Exercice 9

☺ Dans chaque phrase, souligne le sujet et entoure le verbe.

La maîtresse dicte les phrases aux élèves.

Elle corrige les cahiers.

Les élèves attentifs écoutent la leçon.

25

1  
3  
9  
0

26

1  
3  
9  
0

27

1  
3  
9  
0

## Exercice 10

☺ Écris les mots que je vais te dicter.

1/ \_\_\_\_\_

2/ \_\_\_\_\_

3/ \_\_\_\_\_

4/ \_\_\_\_\_

5/ \_\_\_\_\_

6/ \_\_\_\_\_

29

1  
3  
9  
0

30

1  
9  
0

**FIN DE LA SÉQUENCE 2**



### Exercice 11

Un jour un lièvre veut faire la course avec une tortue, mais la tortue très maligne, joue un bon tour au lièvre pour gagner la course.

😊 *Raconte :*

\_\_\_\_\_

\_\_\_\_\_

\_\_\_\_\_

\_\_\_\_\_

\_\_\_\_\_

\_\_\_\_\_

\_\_\_\_\_

\_\_\_\_\_

\_\_\_\_\_

\_\_\_\_\_

31

1  
4  
9  
0

32

1  
3  
9  
0

33

1  
3  
9  
0

34

1  
3  
4  
9  
0

35

1  
3  
9  
0

### Exercice 12

😊 *Remplace le mot souligné de chaque phrase par un mot qui veut dire la même chose parmi les mots de la liste suivante et écris-le dans la case correspondante.*

étonné - malin - habile - amusant - propre

Ce chien est si drôle qu'il pourrait faire des numéros de cirque.

\_\_\_\_\_

36

1  
3  
4  
9  
0

Mon oncle est toujours surpris de voir que j'ai beaucoup grandi.

\_\_\_\_\_

Cet animal est bien plus rusé que son maître.

\_\_\_\_\_

37

1  
3  
4  
9  
0

Mon chat est très adroit et grimpe facilement en haut des arbres.

\_\_\_\_\_

## Exercice 13

😊 Voici le mot « **voiture** ».

Voici une liste de cinq mots commençant par la lettre « v » :

**voile - voyage - voler - vue - voie**

Écris selon l'ordre du dictionnaire deux de ces mots avant le mot « **voiture** ».

\_\_\_\_\_ **voiture**

38  
1  
3  
9  
0

## Exercice 14

😊 Transforme le verbe souligné au **passé composé** : « Un ami entra chez la voisine. »

Un ami \_\_\_\_\_ chez la voisine.

😊 Transforme le verbe souligné au **présent** : « Les petites chiennes étaient vraiment bizarres. »

Les petites chiennes \_\_\_\_\_ vraiment bizarres.

😊 Transforme le verbe souligné au **futur** : « J'avais une chambre bien rangée. »

J' \_\_\_\_\_ une chambre bien rangée.

39  
1  
4  
9  
0

40  
1  
4  
9  
0

41  
1  
4  
9  
0

## Exercice 15

😊 Classe les mots suivants en deux familles dans les tableaux suivants :

chaussure – chauffage – chauffer – déchausser – chaumière – chausson –  
chaufferie – réchauffer – chaussette

1

2

42  
1  
3  
9  
0

43  
1  
3  
9  
0

## Exercice 16

☺ Lis ce texte qui parle d'une petite chatte. Tu dois dire exactement la même chose d'un petit chat.

Complète le texte. Attention, tu dois changer certains mots.

La petite chatte

C'est une petite chatte très futée.

Elle se cache dans mes papiers. Elle est blanche comme la neige et douce comme la soie.

Sans elle, je m'ennuie. C'est une amie fidèle, silencieuse et discrète.



Le petit chat

C'est un petit chat très \_\_\_\_\_ .

Il se cache dans mes papiers. Il est \_\_\_\_\_  
comme la neige et doux comme la soie.

Sans lui, je m'ennuie. C'est un \_\_\_\_\_ fidèle,  
silencieux et discret.

## Exercice 17

☺ Écris les mots que je vais te dicter.

1/ \_\_\_\_\_

2/ \_\_\_\_\_

3/ \_\_\_\_\_

4/ \_\_\_\_\_

5/ \_\_\_\_\_

6/ \_\_\_\_\_

**FIN DE LA SÉQUENCE 3**

## Exercice 18

### La laine

Le manteau de laine du mouton s'appelle la toison. Pour fabriquer la laine que l'on achète dans les magasins, il faut commencer par tondre le mouton pour récupérer sa laine. On envoie la laine dans une usine et on la lave pour enlever la graisse autour de chaque poil : le suint. Il en reste toujours un peu. Tant mieux, il empêche l'eau d'entrer dans la laine. Une fois séchée, la laine est enroulée autour de rouleaux à pointe appelés cardes. En tournant très vite, ils démêlent les poils et les rangent en ligne. La laine passe ensuite dans des peignes de plus en plus fins puis elle est trempée dans un bain de couleur. Enfin, une machine tend chaque fil de laine et le tord pour former un fil très solide, qu'on enroulera ensuite en pelote : c'est le filage. Avec cette pelote, on peut tricoter un pull pour l'hiver !

Wakou n° 238 janvier 2009 – Milan Presse

☺ Réponds aux questions.

1) Par quoi faut-il commencer pour fabriquer une pelote de laine ?

---

---

46  
1  
3  
9  
0

2) Où fabrique-t-on les pelotes de laine ?

---

---

47  
1  
9  
0

3) Après le filage, que doit-on faire si on veut un pull ?

---

---

48  
1  
4  
9  
0

4) Comment appelle-t-on la graisse qui est dans la laine du mouton ?

---

---

49  
1  
9  
0

## Exercice 19

☺ Recopie le poème écrit au tableau en respectant sa présentation.

---



---



---



---



---



---



---



---



---



---



---



---



---

50  
1  
4  
9  
0

51  
1  
9  
0

52  
1  
9  
0

53  
1  
9  
0

## Exercice 20

☺ Lis bien le contenu de ce tableau et complète-le en trouvant les mots qui manquent.

	Mot de sens contraire
Il s'habille.	Il se _____.
Il obéit.	Il _____.
Il allume.	Il _____.
Il recule.	Il _____.

54  
1  
3  
4  
9  
0

## Exercice 21

😊 Lis le texte et complète-le en utilisant les dessins de la page de droite.

Éric et Nadia composent leur menu

Éric et Nadia choisissent dans le tableau du menu les 4 plats de leur repas.

Éric dit :

- En entrée, je prends du pamplemousse.

Comme plat principal, je choisis du poulet avec des frites, j'adore !

Après, j'ai envie de fromage, du gruyère.

Et pour finir, il y a de l'ananas, c'est mon fruit préféré.

Et toi, tu prends quoi ?

Nadia répond :

- Moi, je ne veux pas du tout les mêmes choses que toi.

En entrée, je prends

---

---

---

---

---

---

---

---

---





---

55




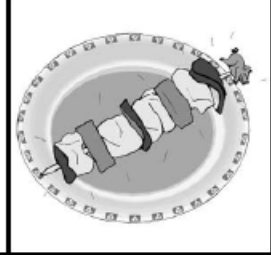
1
3
9
0

56




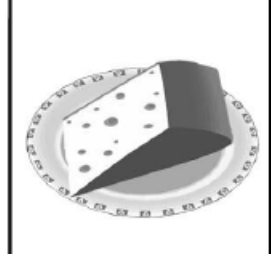
1
3
9
0

Entrée				
	Saucisson	Salade	Pamplemousse	Pastèque





+

Plat principal				
	Œufs / Haricots verts	Poulet / Frites	Poisson / Purée	Brochette / Riz

+

Fromage				
	Roquefort	Camembert	Yaourt	Gruyère

+

Dessert				
	Tarte aux fruits	Ananas	Mousse au chocolat	Glace chantilly

**FIN DE LA SÉQUENCE 4**

## Exercice 22

☺ Lis les mots suivants.

aligné

mésaventure

désordre

insupportable

débrouillard

réapparaître

57  
1  
3  
9  
0

☺ Lis le texte suivant.

## Li Chang et Li Chong

Là-bas, très loin, dans une montagne, près de la Chine, vit un pauvre homme qui s'appelle Li Chang. Il gagne sa vie en coupant du bois. C'est un travailleur infatigable.

Un jour qu'il coupe un arbre, sa hache lui échappe des mains et s'en va tomber dans l'étang tout proche. Li Chang ne peut la retrouver. Il est désolé et trop pauvre pour acheter une nouvelle hache. Comment va-t-il faire pour gagner sa vie ?

Pendant qu'il se lamente, un épais brouillard se met à recouvrir l'étang et un vieil homme à la barbe blanche apparaît :

- Pourquoi pleures-tu, bûcheron ? demande-t-il.

Li Chang raconte sa mésaventure. L'homme à la barbe lui dit :

- Je vais essayer de retrouver ta hache, et il disparaît dans le brouillard.

Au bout d'un moment, il réapparaît en tenant à la main une belle hache d'or :

- Est-ce là ta hache, bûcheron ?

Li Chang répond, déçu :

- Non, ce n'est pas la mienne.

D'après un conte coréen, adaptation de Georges Rémond

58  
1  
9  
059  
1  
9  
060  
1  
9  
0





# MATHÉMATIQUES

## SÉQUENCE 1

### Exercice 1

😊 Écris les nombres dictés.

--	--	--	--	--	--

61

1  
9  
0

### Exercice 2

😊 Écris en lettres les nombres suivants.

625 : .....

830 : .....

492 : .....

62

1  
9  
0

### Exercice 3

😊 Range par ordre croissant les nombres suivants.

145 – 541 – 154 – 415

.....

63

1  
4  
9  
0

### Exercice 4

😊 Complète les phrases suivantes avec le nombre qui convient.

Le double de 50 est .....

La moitié de 50 est .....

64

1  
9  
0

65

1  
9  
0

### Exercice 5

😊 Calcule les divisions.

14 : 2 = .....

20 : 2 = .....

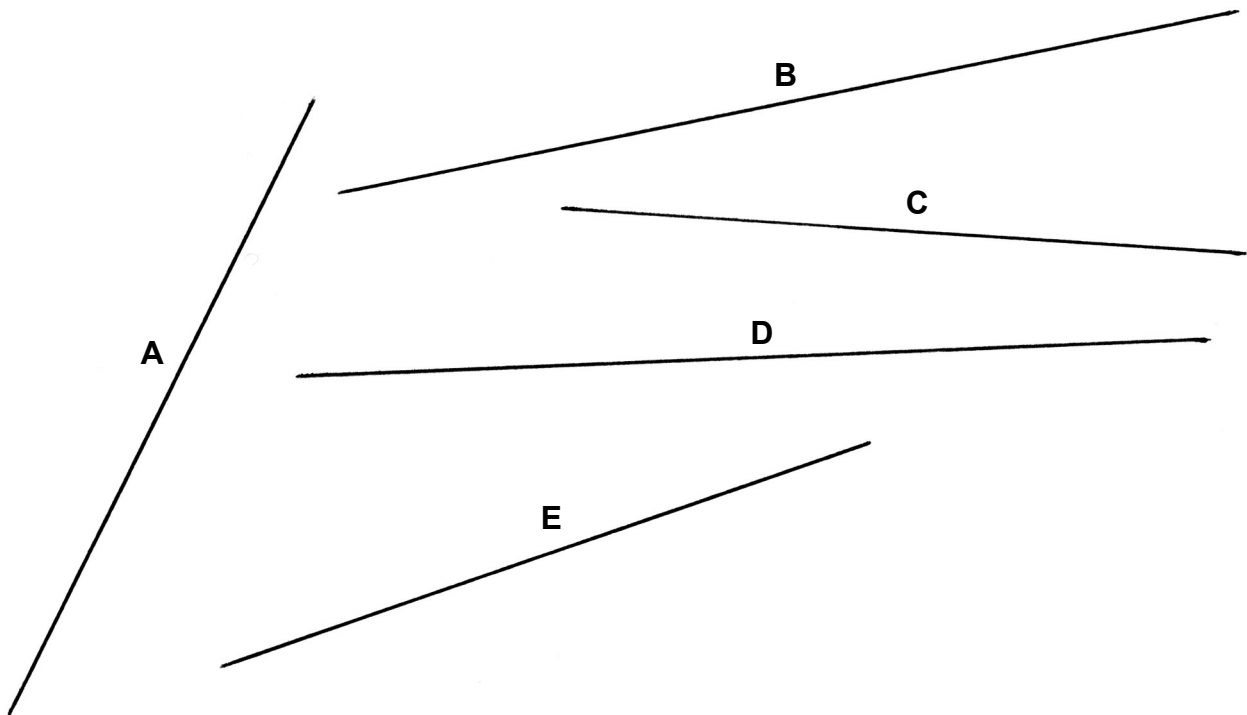
66

1  
3  
4  
9  
0

## Exercice 6

☺ Trouve les trois segments qui ont la même longueur.

67  
1  
9  
0



Réponse : .....

## Exercice 7

Raphaël est allé à la librairie mercredi 10 janvier à 16 heures. Il a acheté un livre et il a donné à la vendeuse un billet de 10 €, un billet de 5 € et deux pièces de 1 €.

« Tu me donnes 1 € de trop » a dit la vendeuse. Combien coûte le livre ?

☺ Fais tes calculs dans le premier cadre. Écris ta réponse dans le deuxième cadre.

Recherches / Calculs	Réponse
	.....
	.....
	.....

68  
1  
3  
4  
9  
0

## Exercice 8

☺ Pour chaque nombre, écris le nombre qui précède et le nombre qui suit.

..... < 609 < .....

..... < 449 < .....

..... < 199 < .....

69

1

3

4

9

0

## Exercice 9

☺ Utilise les informations du tableau pour répondre aux quatre questions.

Maman a acheté des paquets de dragées : des dragées au chocolat, des dragées aux amandes, des dragées aux fruits. Le tableau indique le nombre de dragées contenues dans chaque paquet et le prix de chaque paquet.

	Nombre de dragées par paquet	Prix d'un paquet de dragées
dragées au chocolat	20	4 €
dragées aux amandes	15	5 €
dragées aux fruits	30	5 €

Combien y a-t-il de dragées aux fruits par paquet ?

70

1

9

0

Combien coûte un paquet de dragées au chocolat ?

71

1

9

0

Combien coûte un paquet de dragées aux amandes ?

72

1

9

0

Maman a acheté 4 paquets de dragées aux amandes.

Combien a-t-elle de dragées aux amandes en tout ?

☺ Écris tes calculs dans le premier cadre et ta réponse dans le deuxième cadre.

Recherches / Calculs	Réponse
	.....
	.....

73

1

9

0

**FIN DE LA SÉQUENCE 1**

### Exercice 10

😊 Écris le résultat des multiplications dictées.

A	
B	
C	

D	
E	
F	

74  
1  
9  
0

😊 Écris le résultat des additions dictées.

A	
B	
C	

75  
1  
9  
0

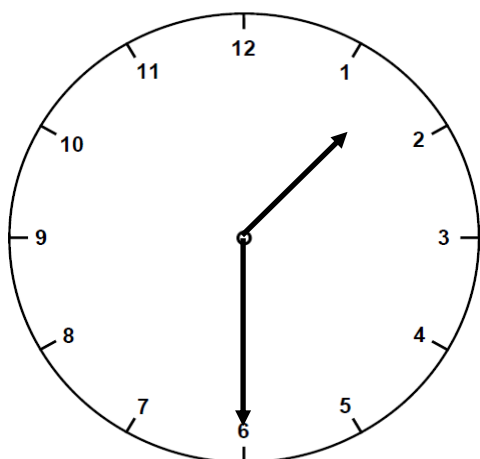
😊 Écris le résultat des calculs dictés.

A	
B	

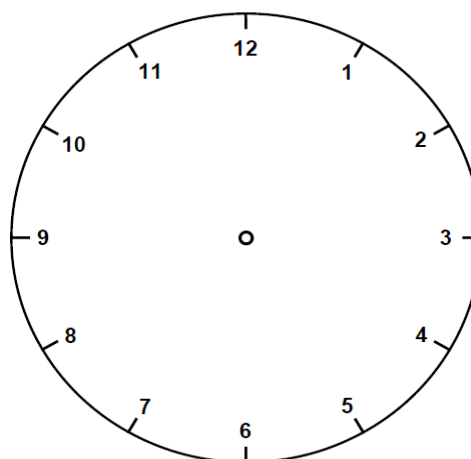
C	
D	

76  
1  
9  
0

### Exercice 11



L'horloge de gauche marque 1 h 30.



Il se passe 30 minutes.

77  
1  
9  
0

😊 Dessine les deux aiguilles (la petite et la grande) sur l'horloge de droite.

## Exercice 12

Une sucette coûte 20 centimes. Combien puis-je en acheter avec 1 euro ?

😊 *Écris tes calculs dans le premier cadre et ta réponse dans le deuxième cadre.*

<i>Recherches / Calculs</i>	<i>Réponse</i>
	..... .....

78  
1  
9  
0

## Exercice 13

Dans une boîte, il y a 185 billes : des bleues et des rouges. Sophie a compté 43 billes bleues. Combien de billes rouges y a-t-il dans cette boîte ?

😊 *Écris tes calculs dans le premier cadre et ta réponse dans le deuxième cadre.*

<i>Recherches / Calculs</i>	<i>Réponse</i>
	..... .....

79  
1  
4  
9  
0

## Exercice 14

Cinq maîtres se partagent en parts égales une boîte de 30 craies.  
Combien de craies aura chaque maître ?

😊 *Écris tes calculs dans le premier cadre et ta réponse dans le deuxième cadre.*

<i>Recherches / Calculs</i>	<i>Réponse</i>
	..... .....

80  
1  
4  
9  
0

**FIN DE LA SÉQUENCE 2**

## SÉQUENCE 3

### Exercice 15

☺ Complète les suites de nombres.

A : 

35	45	55					
----	----	----	--	--	--	--	--

81  
1  
9  
0

B : 

					18	21	24
--	--	--	--	--	----	----	----

82  
1  
9  
0

C : 

900	700	500		
-----	-----	-----	--	--

83  
1  
9  
0

### Exercice 16

☺ Complète les égalités.

$$6 + 4 + \boxed{\phantom{00}} = 20$$

$$14 + 6 + \boxed{\phantom{00}} = 40$$

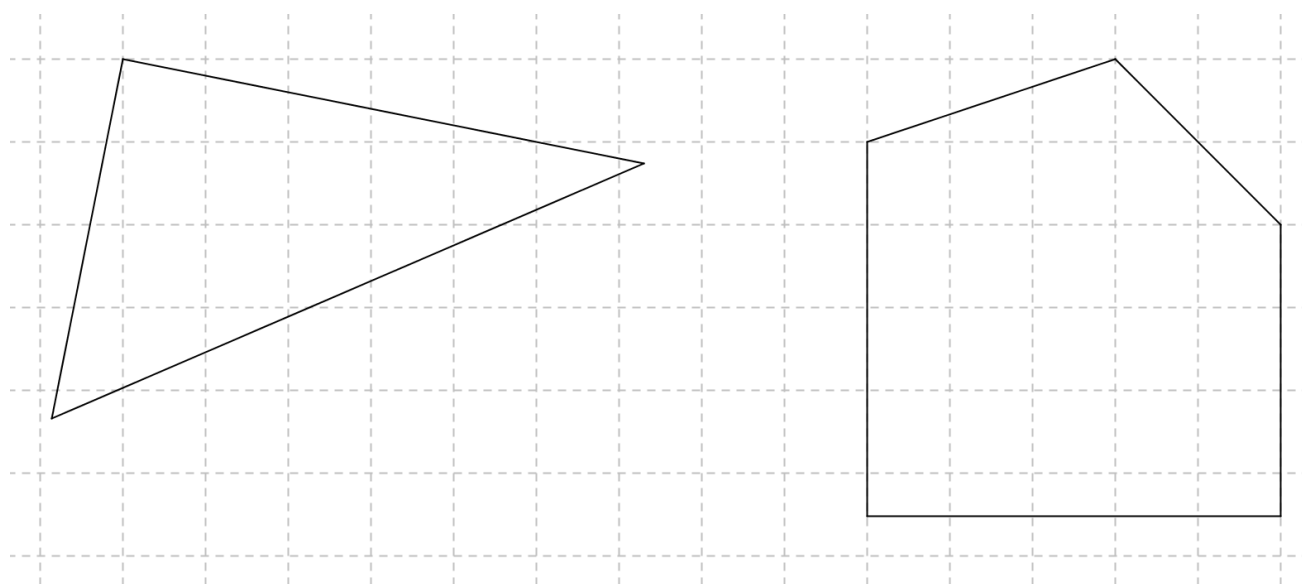
$$35 + 5 + \boxed{\phantom{00}} = 80$$

$$3 + 21 + \boxed{\phantom{00}} = 30$$

84  
1  
9  
0

### Exercice 17

☺ Marque un point rouge au sommet de chaque angle droit.



85  
1  
3  
9  
0

## Exercice 18

Un fleuriste a composé 17 bouquets de fleurs pour la fête des mères.

Dans chaque bouquet, il y a 5 fleurs. Combien a-t-il utilisé de fleurs pour composer l'ensemble de ces bouquets ?

😊 *Écris tes calculs dans le premier cadre et ta réponse dans le deuxième cadre.*

<i>Recherches / Calculs</i>	<i>Réponse</i>
	..... .....

86  
1  
4  
9  
0

## Exercice 19

La famille Lefort, qui habite à Grenoble, part en vacances à Nice. Ils s'arrêtent sur une aire d'autoroute au bout de 258 km. Il leur reste 214 km à parcourir avant d'arriver à destination. Quelle est la distance parcourue entre Grenoble et Nice ?

😊 *Écris tes calculs dans le premier cadre et ta réponse dans le deuxième cadre.*

<i>Recherches / Calculs</i>	<i>Réponse</i>
	..... .....

87  
1  
4  
9  
0

## Exercice 20

L'album photo de Rémi et Chloé peut contenir 100 photos. Rémi veut ranger 24 photos et Chloé 16. Combien de places restera-t-il pour de nouvelles photos ?

😊 *Écris tes calculs dans le premier cadre et ta réponse dans le deuxième cadre.*

<i>Recherches / Calculs</i>	<i>Réponse</i>
	..... .....

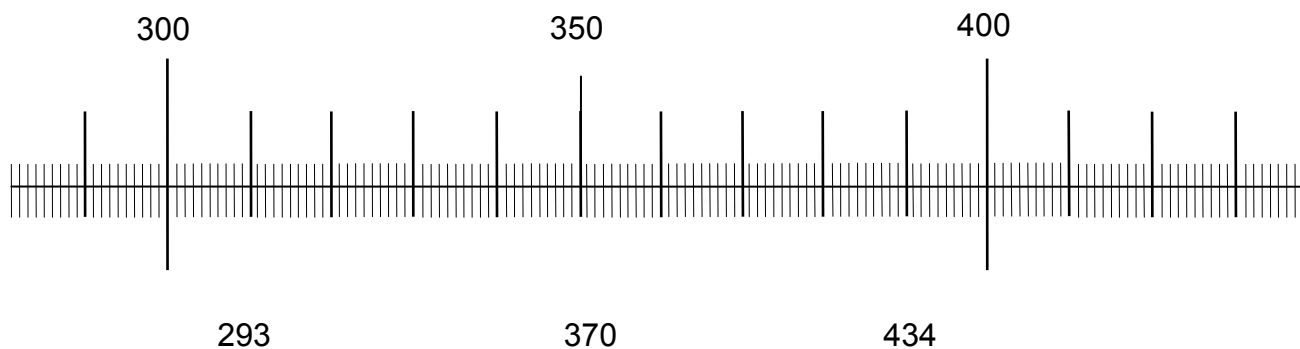
88  
1  
4  
9  
0

**FIN DE LA SÉQUENCE 3**



### Exercice 21


😊 Trace une flèche pour placer chaque nombre sur la droite graduée.



89  
1  
9  
0

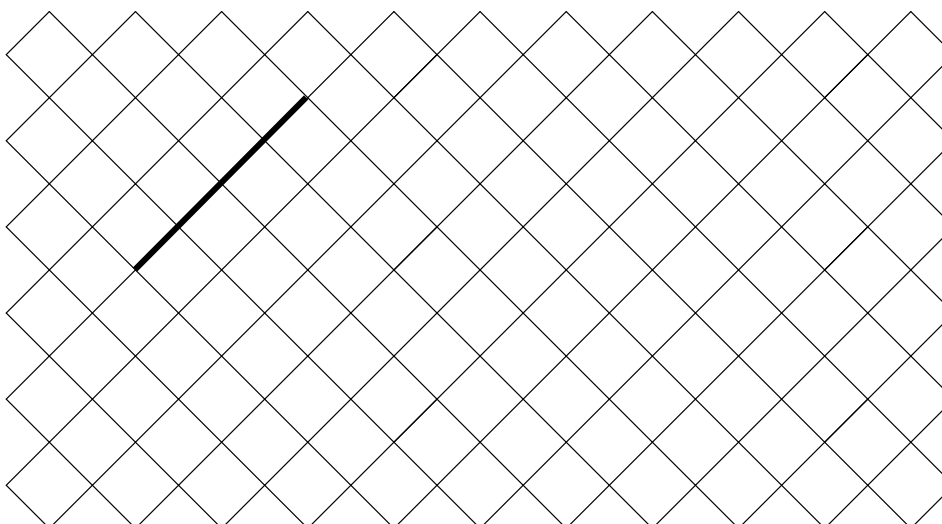
### Exercice 22

😊 Trace un triangle rectangle sur le quadrillage.



90  
1  
9  
0

😊 On a commencé à tracer un carré sur le quadrillage. Termine-le avec ta règle.



91  
1  
9  
0

## Exercice 23

😊 Pose et effectue les opérations suivantes.

$107 + 32$	$987 - 265$

92

1  
4  
9  
0

93

1  
4  
9  
0

$257 + 374$	$274 - 37$

94

1  
4  
9  
0

95

1  
4  
9  
0

## Exercice 24

😊 Pose et effectue chacune des multiplications.

$32 \times 4$	$134 \times 5$

96


1  
9  
0

97

1  
9  
0

## Exercice 25

😊 Trace un rectangle en choisissant les points qui conviennent.



98  
1  
9  
0

## Exercice 26

Le gérant du cinéma fait ses comptes à la fin de la journée : il a vendu 20 billets à 5 euros et 10 billets à 3 euros. Combien a-t-il d'euros dans sa caisse ?

😊 Fais tes calculs dans le premier cadre. Écris ta réponse dans le deuxième cadre.

Recherches / Calculs	Réponse
	..... .....

99  
1  
4  
9  
0

## Exercice 27

Hier, je suis sorti de l'école à 16h30. Une demi-heure après, j'étais chez le médecin. Quelle heure était-il ?

😊 Fais tes calculs dans le premier cadre. Écris ta réponse dans le deuxième cadre.

Recherches / Calculs	Réponse
	..... .....

100  
1  
9  
0

**FIN DE LA SÉQUENCE 4**

© Tous droits réservés sur l'ensemble des textes et documents reproduits dans ce cahier.

Extrait d'un conte coréen, adaptation de Georges Rémond.

Extrait d'un documentaire « Wakou » N° 238 janvier 2009 - Milan Presse.

Site [www.cime.org](http://www.cime.org) (page 10).