

○ Utiliser la règle graduée pour mesurer des segments (cm).

⇒ Mesure les segments avec la règle graduée en cm.

Le trait A mesure cm.

Le trait B mesure cm.

Le trait C mesure entre et cm.

○ Connaître et utiliser l'euro.

Tom  Sara  Sam 







..... € € €

Qui a le plus d'argent ?

⇒ Entoure la somme demandée pour acheter:

le bonnet.  10 €     

le crayon. 7 € 