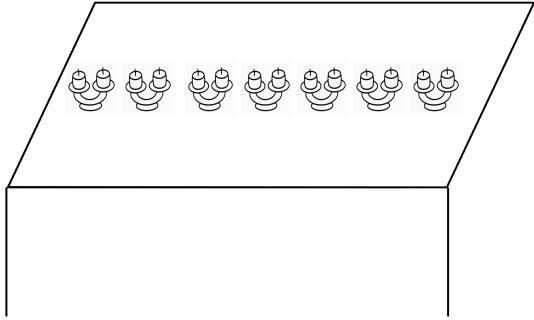


# Le produit, exercices

Pur le cahier, écris les calculs

Les bougies




Les œufs



Les voitures



Les tulipes



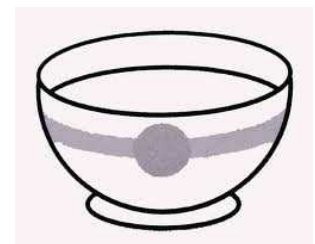
Les enfants



## 2. Problème

Maman prépare le petit déjeuner. Elle a mis 4 bols sur la table. Elle veut mettre 2 sucres dans chaque bol.

Combien de sucres doit sortir maman?



## 3. Problème

Dans le groupe de soutien du midi, il y a 6 élèves.

Madame a préparé 2 fiches pour chaque élève, elle les a mises dans une pochette.

Combien de fiches y a-t-il dans la pochette de madame?

