

## Compétences évaluées :

- Connaître les éléments du relief dans le monde et leur localisation
- Connaître les éléments du relief
- Connaître les caractéristiques des climats dans le monde
- Connaître les grands domaines climatiques, les localiser dans le monde
- Connaître l'influence du climat sur la végétation



Prénom : \_\_\_\_\_

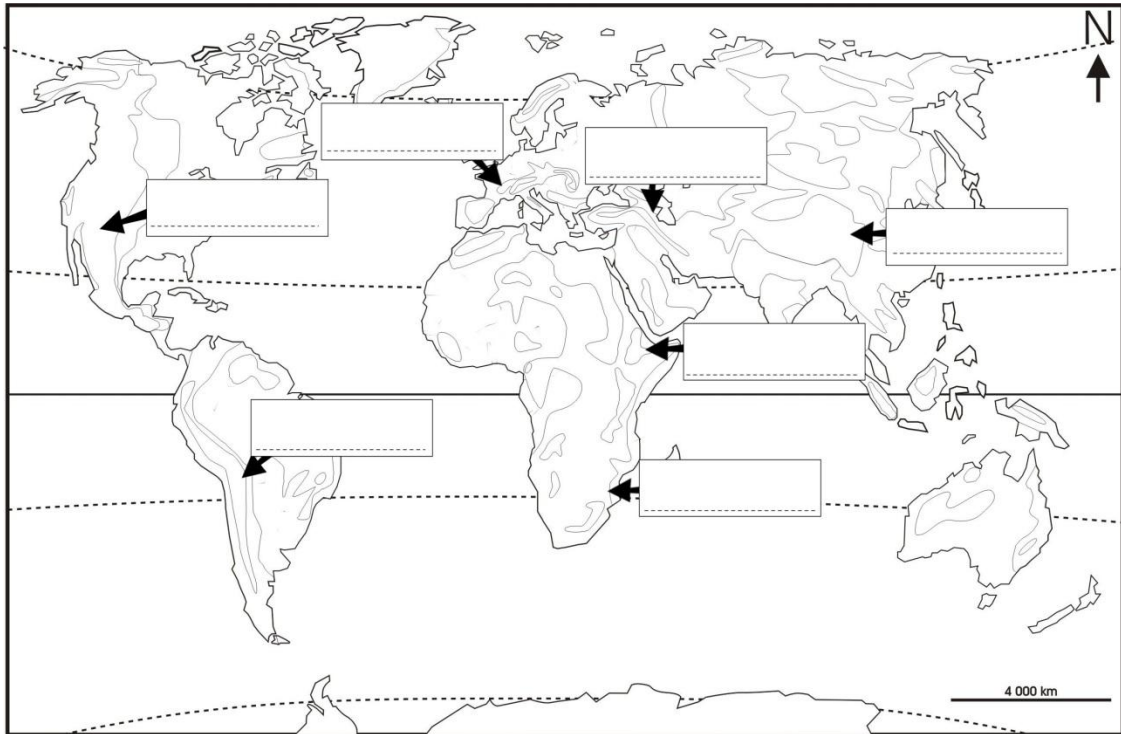
Date : \_\_\_\_\_

**NOTE :**

## Les reliefs dans le monde

- Donne un titre à cette carte.
- Avec un crayon vert, colorie deux endroits où on trouve des plaines.
- Avec un crayon jaune, colorie deux endroits où l'on trouve des plateaux.
- Avec un crayon marron, colorie deux endroits où l'on trouve des montagnes.
- Complète la carte et la légende.

.....



.....

- Donne la définition de:

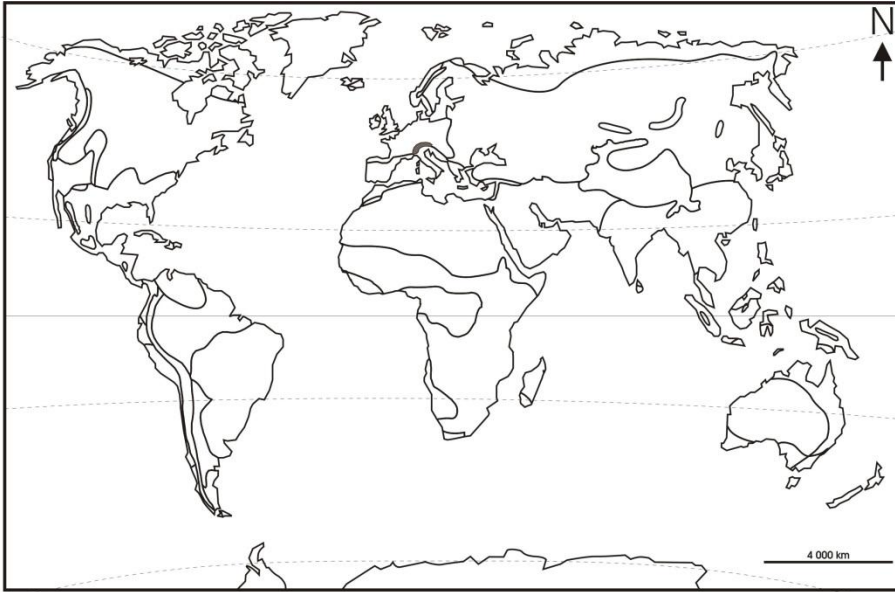
- Plaine: \_\_\_\_\_

- Plateau: \_\_\_\_\_

# Les climats dans le monde

- Donne un titre à la carte
- Avec un crayon bleu, colorie la zone froide.
- Avec un crayon orange, colorie la zone chaude
- Avec un crayon vert, colorie les zones intermédiaires
- Complète la légende

.....

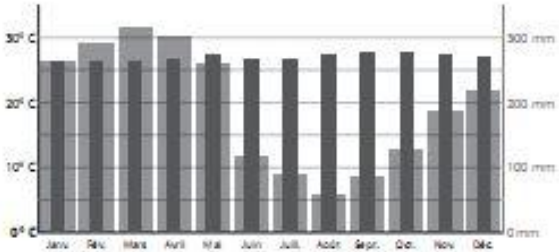


.....

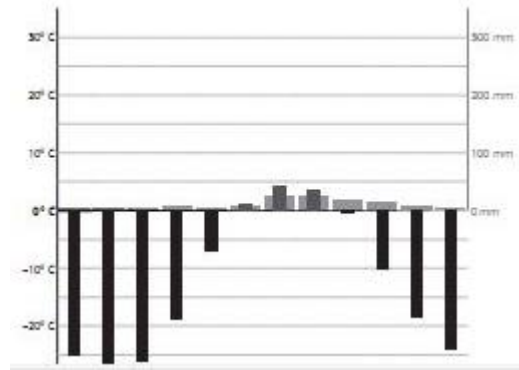
.....

.....

- Indique à quel climat correspondent ces deux diagrammes



.....



.....

- Nomme les 3 climats que l'on trouve dans la zone chaude

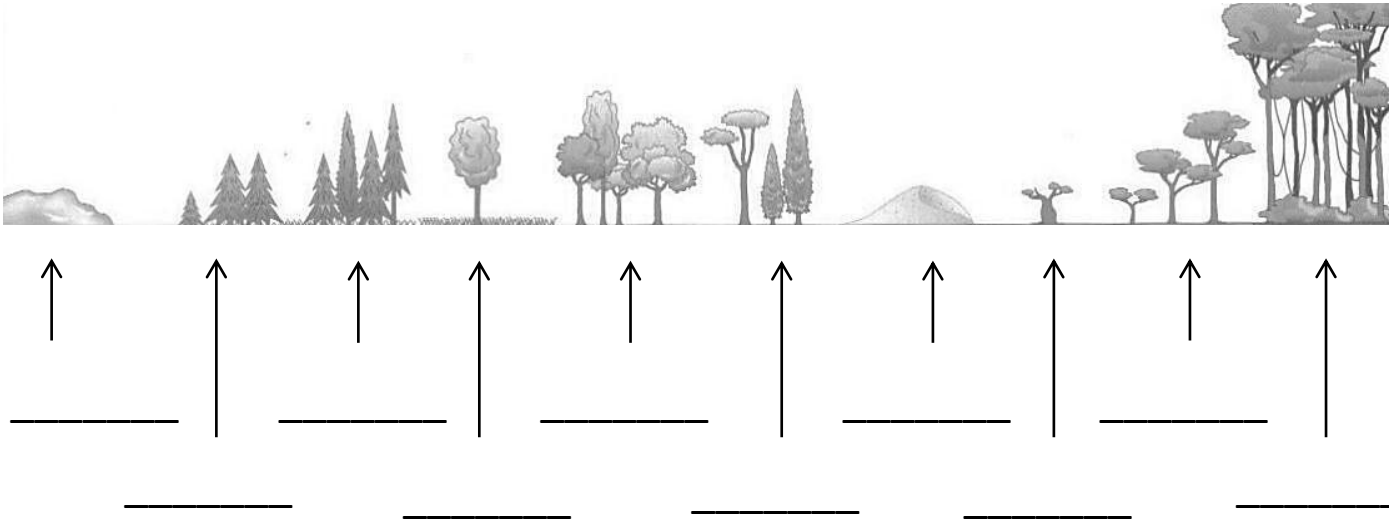
.....

- Nomme les 3 climats que l'on trouve dans la zone tempérée

.....

# L'influence des climats sur la végétation

- Donne le nom des paysages végétaux du pôle nord à l'équateur.



- Quels sont ceux qui appartiennent à:

- La zone polaire: \_\_\_\_\_
- La zone chaude: \_\_\_\_\_
- La zone tempérée: \_\_\_\_\_

- Donne la définition des mots suivants:

- La savane: \_\_\_\_\_
- La toundra: \_\_\_\_\_
- Le désert: \_\_\_\_\_
- La taïga: \_\_\_\_\_

- Dans quelle zone climatique trouve-t-on la forêt dense?

\_\_\_\_\_

- Dans quelle zone climatique trouve-t-on la savane?

\_\_\_\_\_

- Dans quelle zone climatique trouve-t-on la toundra?

\_\_\_\_\_