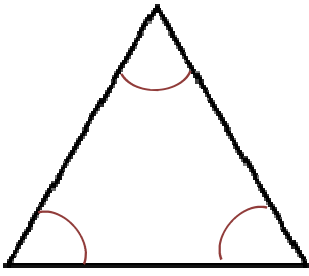
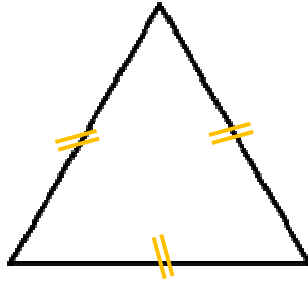


J'ai 3 angles égaux
(60°).



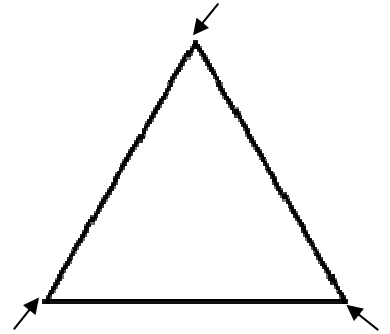
LE TRIANGLE
ÉQUILATÉRAL

J'ai 3 côtés de
même longueur.



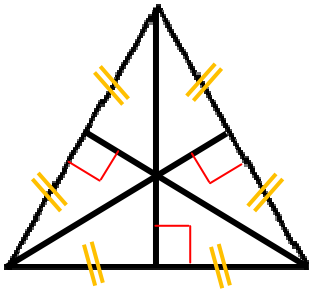
LE TRIANGLE
ÉQUILATÉRAL

J'ai 3 sommets.



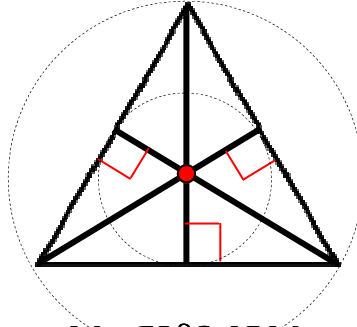
LE TRIANGLE
ÉQUILATÉRAL

J'ai 3 hauteurs qui
passent par le milieu
du côté opposé.



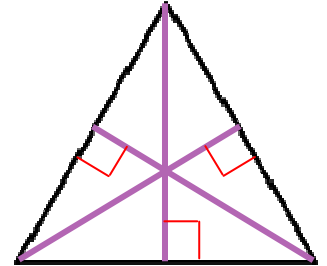
LE TRIANGLE
ÉQUILATÉRAL

J'ai 3 hauteurs qui se
coupent au centre du
triangle.



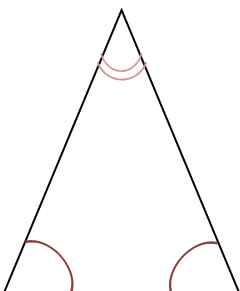
LE TRIANGLE
ÉQUILATÉRAL

J'ai 3 hauteurs
de même longueur.



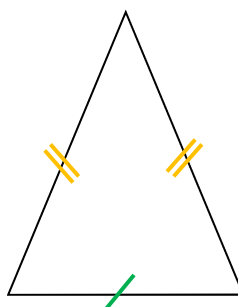
LE TRIANGLE
ÉQUILATÉRAL

J'ai 3 angles
dont 2 égaux.



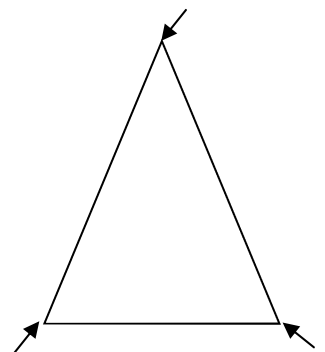
LE TRIANGLE
ISOCÈLE

J'ai 3 côtés dont
2 de même longueur.



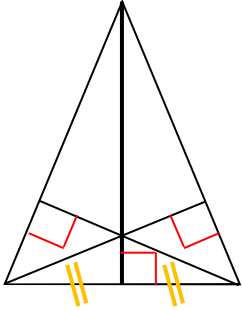
LE TRIANGLE
ISOCÈLE

J'ai 3 sommets.



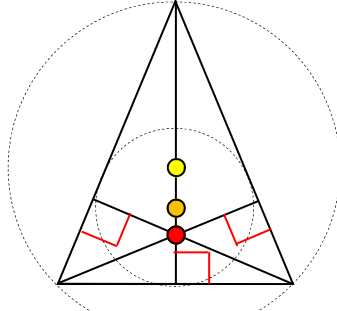
LE TRIANGLE
ISOCÈLE

J'ai 3 hauteurs, dont 1 passe par le milieu du côté opposé.



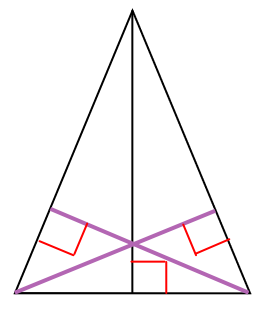
LE TRIANGLE ISOCÈLE

J'ai 3 hauteurs qui ne se coupent pas au centre du triangle.



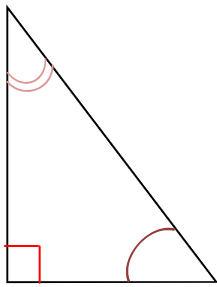
LE TRIANGLE ISOCÈLE

J'ai 3 hauteurs dont 2 de même longueur.



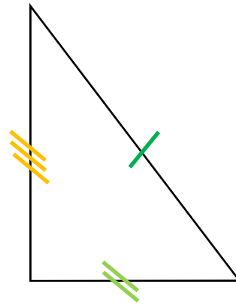
LE TRIANGLE ISOCÈLE

J'ai 3 angles dont 1 angle droit.



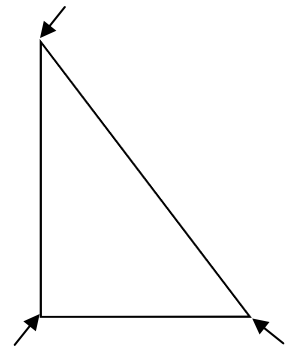
LE TRIANGLE RECTANGLE

J'ai 3 côtés de longueurs différentes.



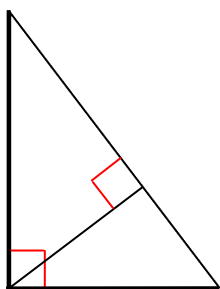
LE TRIANGLE RECTANGLE

J'ai 3 sommets.



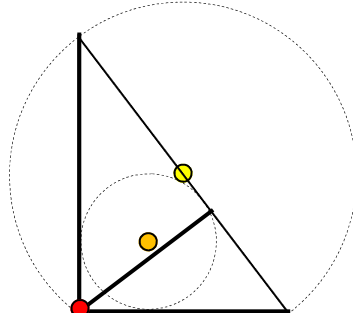
LE TRIANGLE RECTANGLE

J'ai 3 hauteurs dont 2 qui se confondent avec 2 des côtés.



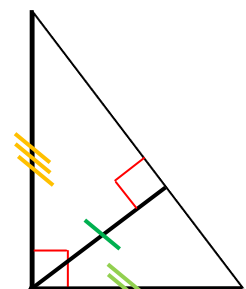
LE TRIANGLE RECTANGLE

J'ai 3 hauteurs qui se coupent sur le sommet-angle droit du triangle.



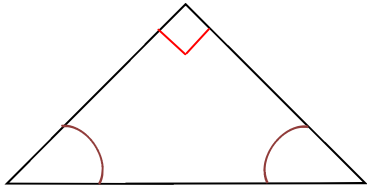
LE TRIANGLE RECTANGLE

J'ai 3 hauteurs de longueurs différentes.



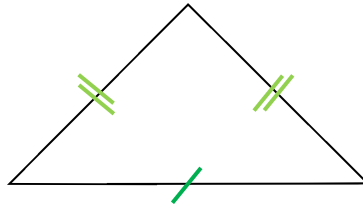
LE TRIANGLE RECTANGLE

J'ai 3 angles :
1 angle droit et
2 angles égaux (45°).



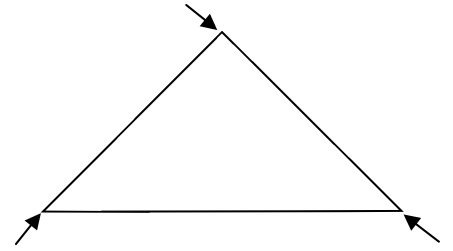
LE TRIANGLE
ISOCÈLE
RECTANGLE

J'ai 3 côtés
dont 2 égaux.



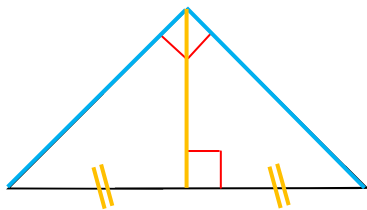
LE TRIANGLE
ISOCÈLE
RECTANGLE

J'ai 3 sommets.



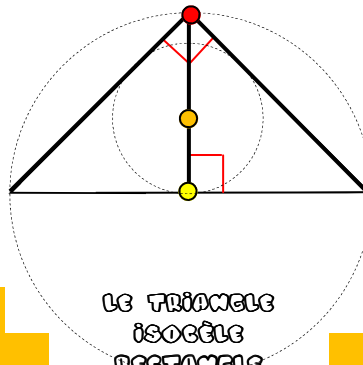
LE TRIANGLE
ISOCÈLE
RECTANGLE

J'ai 3 hauteurs :
2 se confondent avec 2 des
côtés, l'autre passe par le
milieu du 3ème côté.



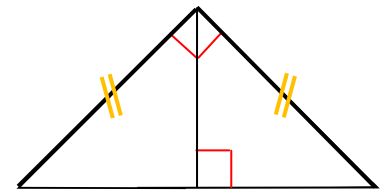
LE TRIANGLE
ISOCÈLE
RECTANGLE

J'ai 3 hauteurs qui se
coupent sur le sommet-
angle droit du triangle.



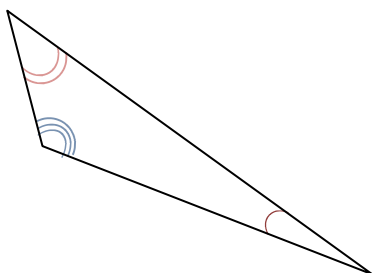
LE TRIANGLE
ISOCÈLE
RECTANGLE

J'ai 3 hauteurs dont 2
de même longueur.



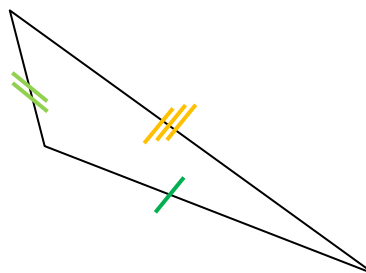
LE TRIANGLE
ISOCÈLE
RECTANGLE

J'ai 3 angles
tous différents.



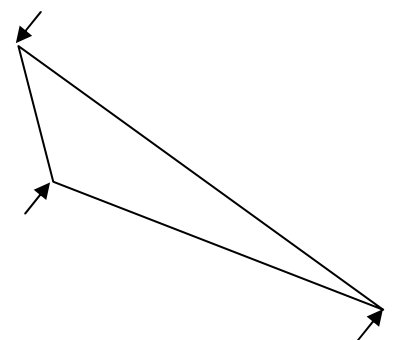
LE TRIANGLE
QUELCONQUE

J'ai 3 côtés de
longueurs différentes.



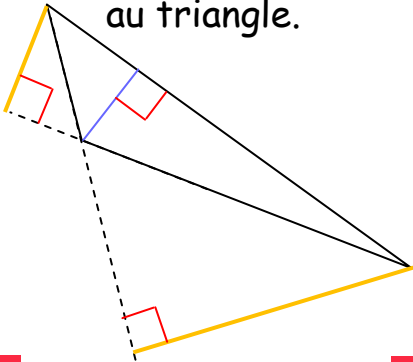
LE TRIANGLE
QUELCONQUE

J'ai 3 sommets.



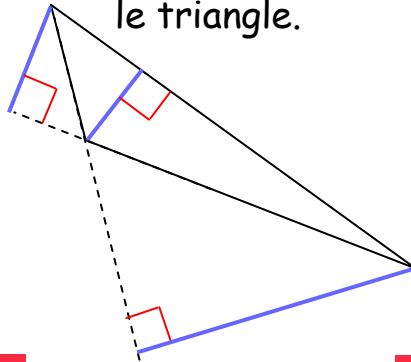
LE TRIANGLE
QUELCONQUE

J'ai 3 hauteurs dont
2 qui sont extérieures
au triangle.



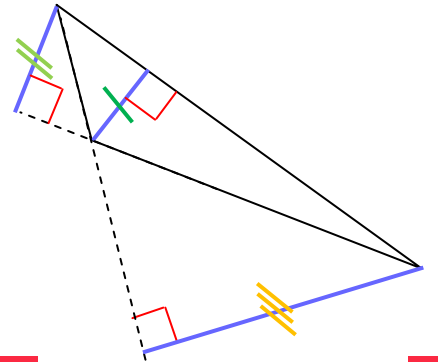
LE TRIANGLE
QUELCONQUE

J'ai 3 hauteurs qui ne
se coupent pas dans
le triangle.



LE TRIANGLE
QUELCONQUE

J'ai 3 hauteurs de
longueurs différentes.



LE TRIANGLE
QUELCONQUE