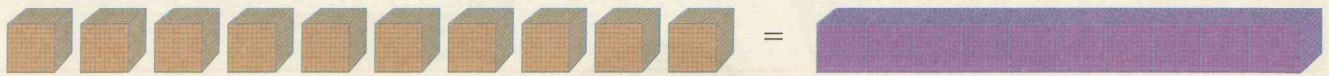


↳ Calcul mental: Complément à 100 de nombres tels que 99, 95, 90, 85, 80.



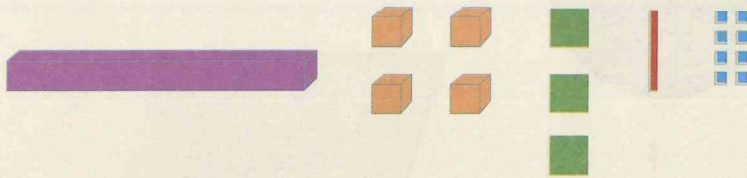
Je comprends

↳ Activité de découverte: Présentation des multiples de 1 000 au-delà de 10 000.



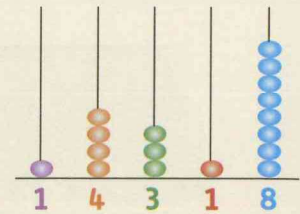
10 cubes de 1 000 unités

10 000 = dix-mille



$$10\ 000 + 4\ 000 + 300 + 10 + 8 = 14\ 318$$

quatorze-mille-trois-cent-dix-huit




Je m'entraîne


1 Continue la suite.

10 000, 11 000,,,,

2 Complète comme dans l'exemple.



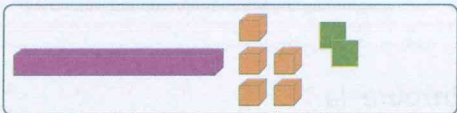
Ex.: $10\ 000 + 300 + 20 + 5 = 10\ 325$



..... =



..... =



..... =

3 Écris ce que représente le chiffre 2, comme dans l'exemple.

Ex.: Dans 12 300, le chiffre 2 représente 2 000.

Dans 17 240, le chiffre 2 représente Dans 18 025, le chiffre 2 représente

Dans 16 002, le chiffre 2 représente Dans 12 900, le chiffre 2 représente