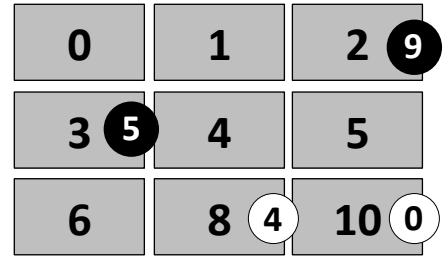




Ton prénom : _____

1. Maïa et Tim ont placé chacun deux jetons sur le jeu. Ceux de Maïa sont blancs et ceux de Tim sont noirs. Combien chaque joueur a-t-il marqué de points ? Ecris tes calculs.



Maïa : $(3 \times 5) + (2 \times 9) = 33$

Tim : $(4 \times 8) = 32$

2. Complète.

$4 \times 7 = 28$

$8 \times 2 = 16$

$5 \times 10 = 50$

$5 \times 9 = 45$

$3 \times 8 = 24$

$1 \times 8 = 8$



3. Ecris en chiffres :

Soixante-cinq : **65**

soixante-quinze : **75**

cent trente : **130**

deux cent trois : **203**

4. Ecris en lettres :

97 : **quatre- vingt dix-sept**

393 : **trois cent quatre-vingt treize**

909 : **neuf cent neuf**

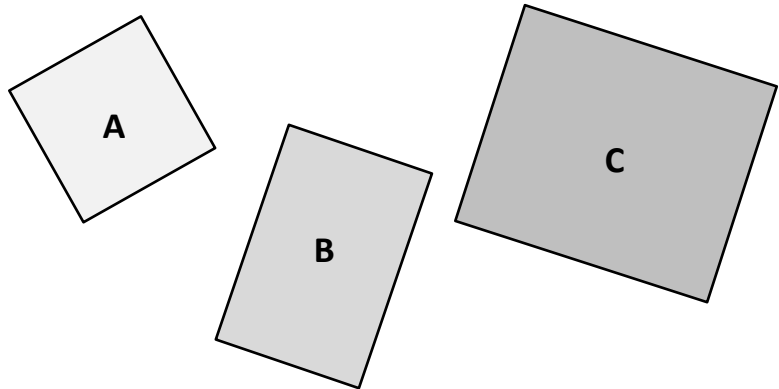
490 : **quatre cent quatre-vingt-dix**

5. Géométrie

Quelle figure est un carré ? **A**

Combien mesure chaque côté de ce carré ? **2 cm**


Quel est le rectangle dont la longueur mesure 3 cm ? **B**



6. Mesure la ligne à l'aide de la règle rose.

La ligne mesure :

$3 + 5 = 8 \text{ cm}$



Je sais calculer ou compléter des produits. (exercices 1 et 2)	
Je sais passer de l'écriture en lettres à l'écriture en chiffres et inversement. (3 et 4)	
Je sais reconnaître un carré et un rectangle de dimensions données. (exercice 5)	
Je sais mesurer un segment à l'aide d'une règle sans 0. (6)	