

Compétence évaluée :

A	VA	NA
---	----	----

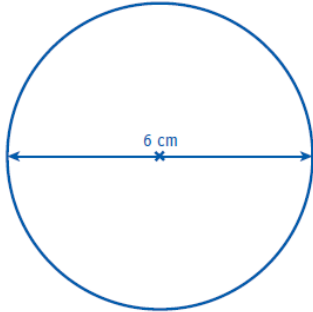
Mesures : Connaître la formule du périmètre d'un cercle

--	--	--

Date :

1 Calcule le périmètre de ce cercle sans mesurer.

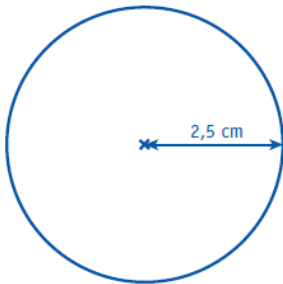
...../2



.....
.....
.....

2 Calcule le périmètre de ce cercle sans mesurer.

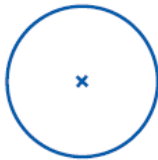
...../3



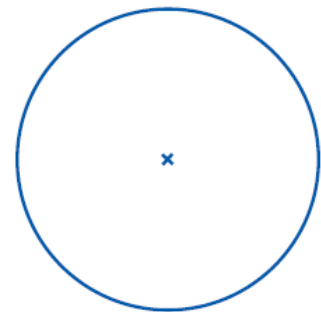
.....
.....
.....

3 Prends les mesures nécessaires puis en utilisant les formules, calcule le périmètre de chaque cercle.

...../4



Cercle 1



Cercle 2

Cercle 1.....
.....

Cercle 2.....
.....

Nom + Prénom :

