

GRANDEURS et MESURES

Combien mesure cet enfant ?
Choisis la bonne réponse.



- 125 cm
- 125 m
- 50 cm

GRANDEURS et MESURES

Choisis la bonne réponse.



125 cm

GRANDEURS et MESURES

Combien mesure ce classeur ?
Choisis la bonne réponse.



- 3 m
- 5 cm
- 30 cm

GRANDEURS et MESURES

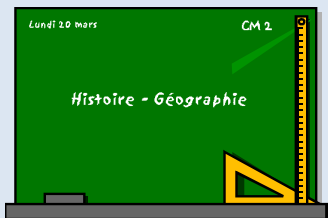
Choisis la bonne réponse.



30 cm

GRANDEURS et MESURES

Combien mesure ce tableau ?
Choisis la bonne réponse.



- 30 m
- 3 m
- 1 km

GRANDEURS et MESURES

Choisis la bonne réponse.



3 m

GRANDEURS et MESURES


Choisis la bonne réponse.



20 cm

GRANDEURS et MESURES

*Combien mesure cette règle ?
Choisis la bonne réponse.*



- 20 m
- 20 cm
- 2 m

GRANDEURS et MESURES

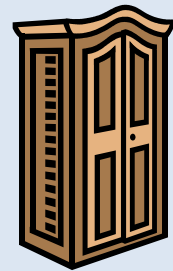
Choisis la bonne réponse.



2 m

GRANDEURS et MESURES

*Combien mesure cette armoire ?
Choisis la bonne réponse.*



- 5 m
- 2 m
- 20 cm

GRANDEURS et MESURES


Choisis la bonne réponse.



5 cm

GRANDEURS et MESURES

*Combien mesure cette gomme ?
Choisis la bonne réponse.*



- 5 m
- 50 cm
- 5 cm