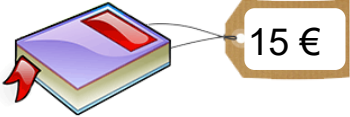


5) Problème :




Julie a euros.

Si elle achète le livre, combien d'euros lui restera-t-il ? (Tu peux barrer dans la monnaie au-dessus pour t'aider).



* Je colorie le bon signe de l'opération → + ou - ?

Opération

Phrase-réponse → Il lui restera euros.

6) Géométrie : Avant d'effectuer cet exercice, regarde bien cette vidéo :


<https://www.youtube.com/watch?v=UritdeN7Zpg>

A) Coche : Ce dé a la forme d'un cube ; d'un pavé.

Complète :

Il a 6 faces en tout. Combien en vois-tu ?

Combien de faces sont cachées ?




B) Coche : Ce paquet de biscuits a la forme d'un cube ; d'un pavé.

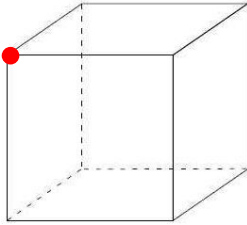
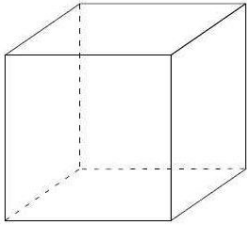
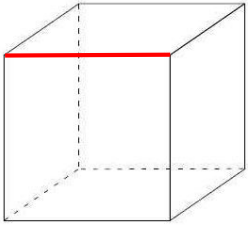
Complète :

Il a 6 faces en tout. Combien en vois-tu ?

Combien de faces sont cachées ?



C) Le cube : utilise les crayons de couleur et surtout pas les feutres pour cet exercice.

 <p>Marque chaque sommet d'un point rouge comme dans l'exemple. Il y a sommets en tout.</p>	 <p>Colorie chaque face d'une couleur différente. Attention : les couleurs vont se superposer, c'est normal. Si tu ne te rappelles pas le nombre de faces, retourne à l'exercice A. Il y a faces en tout.</p>	 <p>Trace chaque arête en rouge comme dans l'exemple (utilise la règle). Il y a arêtes en tout.</p>
---	---	---