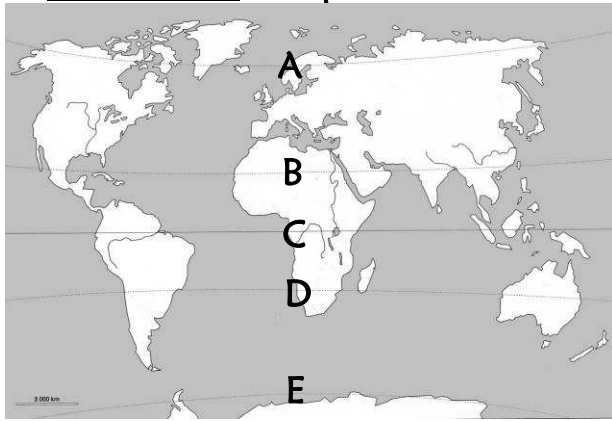


Évaluation de géographie CM1, leçon **GEO 7** « Les zones climatiques dans le monde »

GEO 7	n°	Compétence	Score	Évaluation			Signature
	1	Je connais le nom des différentes « lignes » de la Terre.	/5	A	ECA	NA	
	2	Je sais différencier les grandes zones climatiques dans le monde.	/8	A	ECA	NA	
	3	Je connais les grands traits caractérisant ces zones climatiques.	/3	A	ECA	NA	

1 - Sur ton cahier, indique le nom des différentes « lignes » de la Terre. [5 réponses]



2 - Sur cette feuille, complète cette carte en la coloriant et en remplissant la légende. [8 réponses]

Les zones climatiques dans le monde

Zones	
.....	
Zones	
.....	
Zone	
.....	



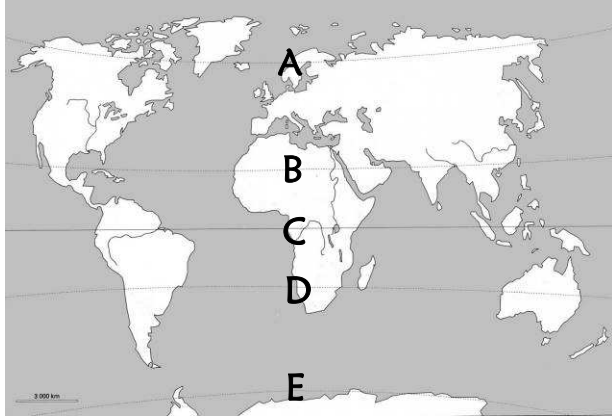
3 - Sur cette feuille, indique le nom de la zone climatique qui correspond à chaque définition. [3 réponses]

Les températures sont très élevées toute l'année.	Zone
Les températures sont très basses toute l'année.	Zone
Les hivers sont frais et les étés assez chauds.	Zone

Évaluation de géographie CM1, leçon **GEO 7** « Les zones climatiques dans le monde » **Corrigé**

GEO 7	n°	Compétence	Score	Évaluation			Signature
	1	Je connais le nom des différentes « lignes » de la Terre.	/5	A	ECA	NA	
	2	Je sais différencier les grandes zones climatiques dans le monde.	/8	A	ECA	NA	
	3	Je connais les grands traits caractérisant ces zones climatiques.	/3	A	ECA	NA	

1 - Sur ton cahier, indique le nom des différentes « lignes » de la Terre. [5 réponses]

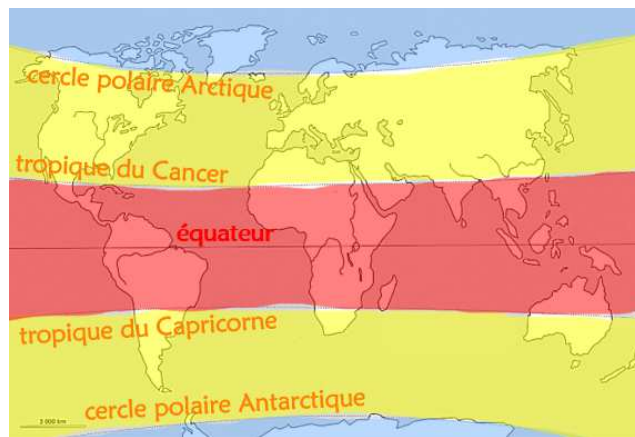


- A → Cercle polaire Arctique
- B → Tropique du Cancer
- C → Équateur
- D → Tropique du Capricorne
- E → Cercle polaire Antarctique

2 - Sur cette feuille, complète cette carte en la coloriant et en remplissant la légende. [8 réponses]

Les zones climatiques dans le monde

Zones froides	
Zones tempérées	
Zone chaude	



3 - Sur cette feuille, indique le nom de la zone climatique qui correspond à chaque définition. [3 réponses]

Les températures sont très élevées toute l'année.	Zone chaude
Les températures sont très basses toute l'année.	Zone froide
Les hivers sont frais et les étés assez chauds.	Zone tempérée