

Prénom : _____

Date: / /

Evaluation : les nombres de 0 à 100

Math

Numération

6 Décompose ces nombres en dizaines et en unités.

42		17	
36		90	
	2 dizaines		8 unités et 1 dizaine
45		56	
	9 unités et 3 dizaines		4 unités

7 Décompose les nombres comme l'exemple : $37 = 10 + 10 + 10 + 7$

8 = _____

19 = _____

29 = _____

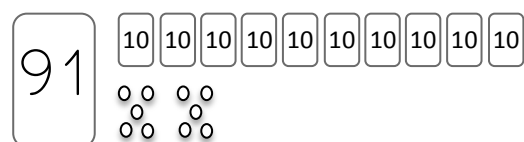
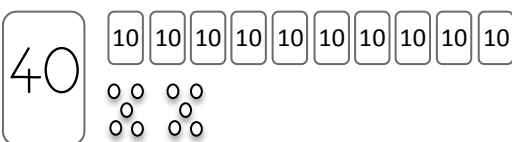
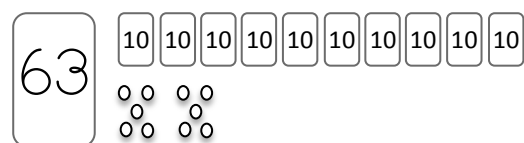
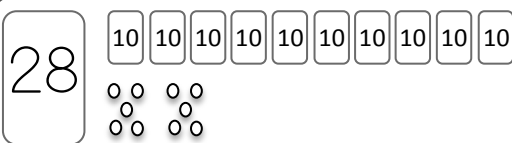
34 = _____

40 = _____

53 = _____



8 Colorie le bon nombre de dizaines et le bon nombre d'unités.



9 Dessine le bon nombre de dizaines et d'unités.

24

19

51

