

Écris les deux nombres. Calcule leur somme.

●●●●● ●●●●● ●●	d	u
●●●●● ●●●●● ●●	.	.
●●●●● ●●●●● ●●●●● ●●●●	.	.
+	.	.
		.
		.

Dessine les ronds et calcule.

d	u
2	3
.	.
+	.
4	5
.	.

Pose l'opération et calcule.

$25 + 43$

$51 + 8$

$37 + 42$

d	u
.	.
.	.
+	.
.	.
.	.

d	u
.	.
.	.
+	.
.	.
.	.

d	u
.	.
.	.
+	.
.	.
.	.

Écris les deux nombres. Calcule leur somme.

●●●●● ●●●●● ●●	d	u
●●●●● ●●●●● ●●	2	4
●●●●● ●●●●● ●●●●● ●●●●	3	5
+	.	.
		.
		.

Dessine les ronds et calcule.

d	u
2	3
.	.
+	.
4	5
6	8

Pose l'opération et calcule.

$25 + 43$

$51 + 8$

$37 + 42$

d	u
2	5
4	3
+	.
6	8

d	u
5	1
.	8
+	.
5	9

d	u
3	7
4	2
+	.
7	9

Calcule.

$$\begin{array}{r} 24 \\ + 54 \\ \hline \end{array}$$

$$\begin{array}{r} 42 \\ + 7 \\ \hline \end{array}$$

$$\begin{array}{r} 56 \\ + 32 \\ \hline \end{array}$$

$$\begin{array}{r} 84 \\ + 13 \\ \hline \end{array}$$

Pose et effectue.

24+35

d	u
.	.
.	.
.	.

52+46

d	u
.	.
.	.
.	.

63+6

d	u
.	.
.	.
.	.

6+42

d	u
.	.
.	.
.	.

61+28

d	u
.	.
.	.
.	.

50+49

d	u
.	.
.	.
.	.

Calcule.

$$\begin{array}{r} 24 \\ + 54 \\ \hline \end{array}$$

78

$$\begin{array}{r} 42 \\ + 7 \\ \hline \end{array}$$

49

$$\begin{array}{r} 56 \\ + 32 \\ \hline \end{array}$$

88

$$\begin{array}{r} 84 \\ + 13 \\ \hline \end{array}$$

97

Pose et effectue.

24+35

d	u
2	4
.	.
3	5
.	.

59

52+46

d	u
5	2
.	.
4	6
.	.

98

63+6

d	u
6	3
.	.
.	6
.	.

69

6+42

d	u
.	6
.	.
4	2
.	.

48

61+28

d	u
6	1
.	.
2	8
.	.

89

50+49

d	u
5	0
.	.
4	9
.	.

99



Pose et effectue les opérations.

$13+16$

d u

$$\begin{array}{r} . \\ . \\ + . \\ \hline . \\ . \end{array}$$

$45+23$

d u

$$\begin{array}{r} . \\ . \\ + . \\ \hline . \\ . \end{array}$$

$36+42$

d u


$$\begin{array}{r} . \\ . \\ + . \\ \hline . \\ . \end{array}$$

$73+15$

d u

$$\begin{array}{r} . \\ . \\ + . \\ \hline . \\ . \end{array}$$

Calcule le nombre de crayons.



Pose et effectue les opérations.

$13+16$

d u

$$\begin{array}{r} 73 \\ . \\ + 16 \\ \hline 29 \end{array}$$

$45+23$

d u

$$\begin{array}{r} 45 \\ . \\ + 23 \\ \hline 68 \end{array}$$

$36+42$

d u


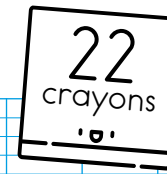
$$\begin{array}{r} 36 \\ . \\ + 42 \\ \hline 78 \end{array}$$

$73+15$

d u

$$\begin{array}{r} 73 \\ . \\ + 15 \\ \hline 88 \end{array}$$

Calcule le nombre de crayons.



$$\begin{array}{r} 17 \\ + 22 \\ \hline 39 \end{array}$$