

## II-Les inégalités dans l'accès à internet dans le monde

1- Voici une photo satellite où l'on voit les lumières de certaines villes du monde la nuit.

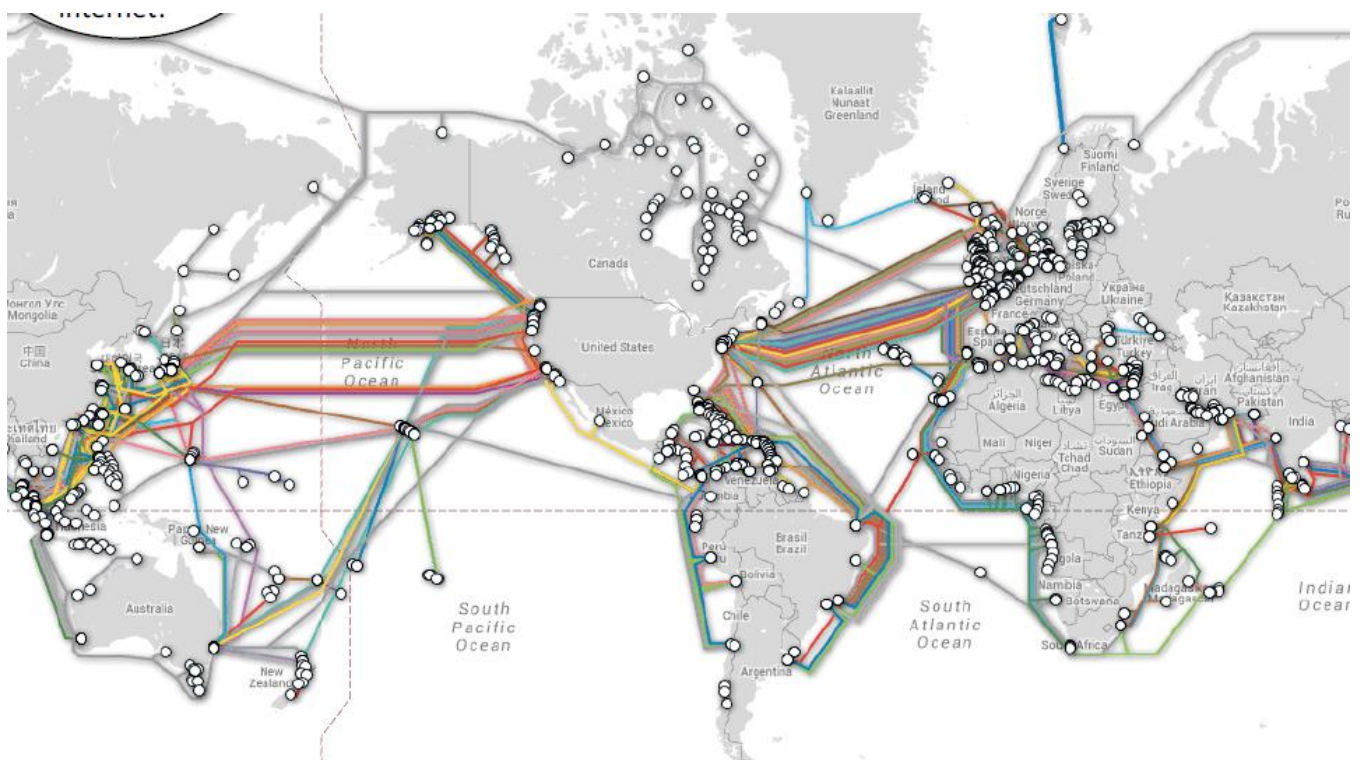
Tu peux observer le monde la nuit sur Google earth en ligne [ici](#)

En observant la carte, comment peut-on savoir où se trouvent les zones les plus riches du monde ?

Les zones les plus riches sont-elles situées plutôt au nord ou plutôt au sud du monde ?



2- Voici le planisphère des câbles Internet dans le monde. Tu peux le retrouver [ici](#) en interactif.



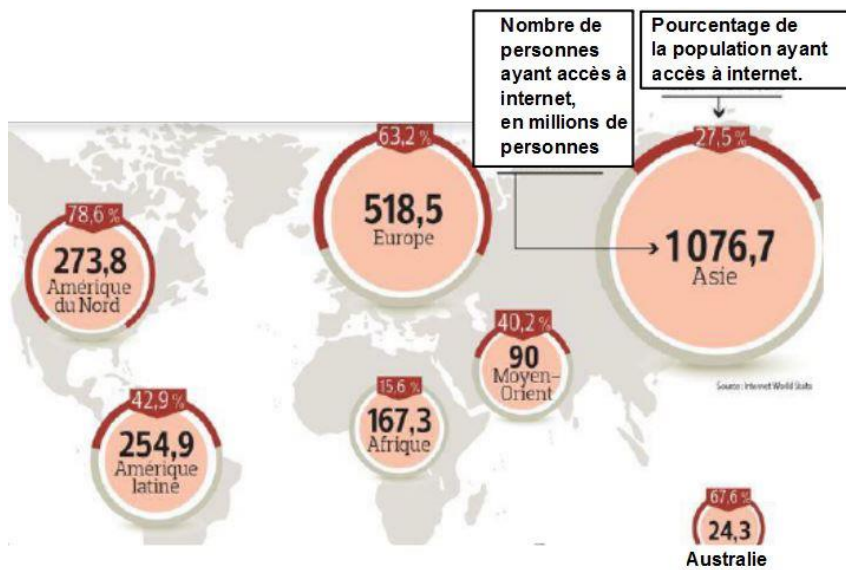
Ecris les noms de 3 **pays** qui bénéficient de nombreux câbles :

Ecris les noms de 3 **pays** qui bénéficient de très peu câbles ou d'aucun câbles :

Dans le monde, les pays qui ont le plus grand nombre de câbles sont plutôt au nord ou plutôt au sud ?

Quand tu compares ce planisphère avec la photo satellite des lumières des villes du monde la nuit, que peux-tu en conclure ? (Que peux-tu expliquer) :


### 3- Observe ce document :



Dans quel continent y a-t-il le plus d'internautes ?

Dans quels continents (ou pays) ceux qui ont accès à internet sont-ils plus nombreux que ceux qui n'y ont pas accès ?

### 4- Regarde ces deux photos, l'une évoque internet en Afrique, l'autre internet en Europe.



Qu'est-ce qu'un cybercafé ?

Quelle différence remarques-tu entre ces deux photos ?