

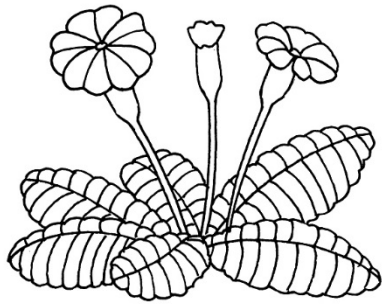

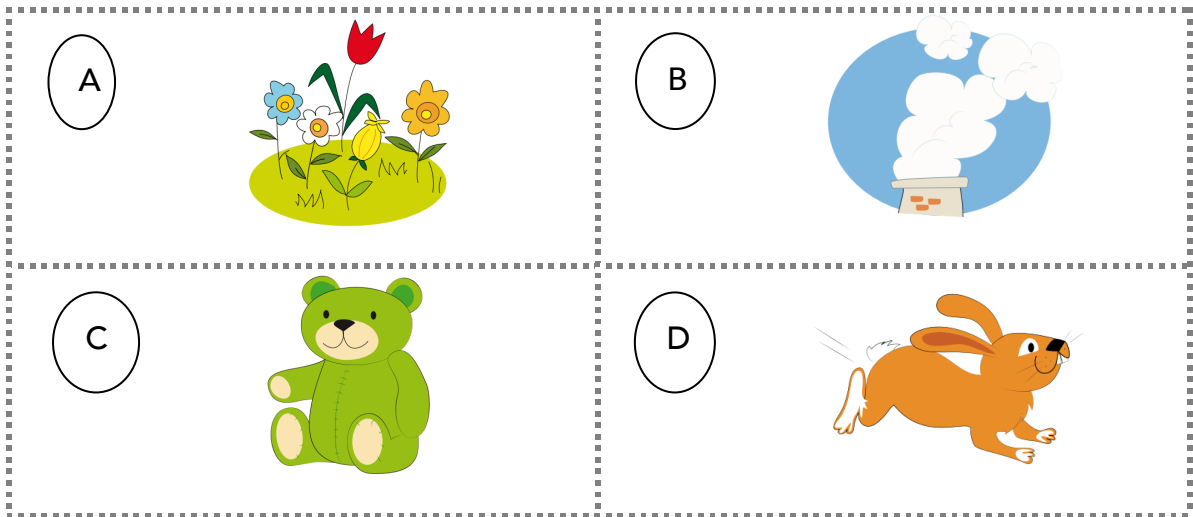


VIVANT / NON VIVANT

Tu classes les images dans la colonne correspondante.

VIVANT	NON VIVANT





Tu observes les images ci – dessus. Tu coches les cases correspondantes à chacune d’elles.

	A	B	C	D
se déplace				
grandit				
se reproduit				
a besoin d’eau et de nourriture				
meurt				

Je retiens

Les êtres ont besoin d'..... et
de nourriture.

Ils naissent, ils, ils se
reproduisent puis ils meurent.

Je retiens

Les êtres ont besoin d'..... et
de nourriture.

Ils naissent, ils, ils se
reproduisent puis ils meurent.